



- उपयोगी कड़ियां

एसएससी चयन

9 नवंबर 2020

शिफ्ट 1 एचएससी

प्रश्न 1 In a code language, MATERIAL is written as NDYLTMTG. How will PURCHASE be written in that language?

- उत्तर:
- ☒ 1. QWUGJDWJ
 - ☒ 2. QXWJJEYM
 - ☒ 3. QWUGICVI
 - ☒ 4. QXWJIDXL

प्रश्न आईडी: 8161614822

प्रश्न 2 Select the option figure in which the given figure is embedded (rotation is NOT allowed).



- उत्तर:
- ☒ 1.
 - ☒ 2.
 - ☒ 3.
 - ☒ 4.

प्रश्न आईडी: 8161614837

प्रश्न 3: Select the option that is related to the third letter-cluster in the same way as the second letter-cluster is related to the first letter-cluster.

SUN : QUSWLP :: JAM : ?

- उत्तर: ☒ 1. HLYCKO
☐ 2. LHCYOK
☐ 3. HLCYKO
☐ 4. HLYCOK

प्रश्न आईडी: 8161614814

प्रश्न 4: Select the option that is related to the third number in the same way as the second number is related to the first number.
3978 : 72 :: 5172 : ?

- उत्तर: ☐ 1. 98
☒ 2. 51
☐ 3. 27
☐ 4. 66

प्रश्न आईडी: 8161614833

प्रश्न 5: Two statements are given, followed by three conclusions numbered I, II and III. Assuming the statements to be true, even if they seem to be at variance with commonly known facts, decide which of the conclusions logically follow(s) from the statements.

Statements:

Some books are novels.
No novel is a diary.

Conclusions:

I. No book is a diary.
II. All diaries are books.
III. No diary is a novel.

- उत्तर: ☐ 1. Either conclusion I or II follows
☐ 2. Only conclusion II follows
☐ 3. Only conclusion I follows
☒ 4. Only conclusion III follows

प्रश्न आईडी: 8161614831

प्रश्न 6: In a code language, if SAILOR is written as 21414192631, then how will MARBLE be written in the same language?

- उत्तर: ☐ 1. 1542392322
☒ 2. 1542392318
☐ 3. 1542382522
☐ 4. 1542392116

प्रश्न आईडी: 8161614825

प्रश्न ७

Two statements are given, followed by three conclusions numbered I, II and III. Assuming the statements to be true, even if they seem to be at variance with commonly known facts, decide which of the conclusions logically and definitely follow(s) from the statements.

Statements:

All donkeys are horses.

No cow is a horse.

Conclusions:

I. Some cows are donkeys.

II. Some horses are donkeys.

III. No donkey is a cow.

उत्तर:

- ✓ 1. Both conclusions II and III follow
- ✗ 2. Only conclusion II follows
- ✗ 3. Only conclusion III follows
- ✗ 4. Either conclusion II or III follows

प्रश्न आईडी: 8161614830

प्रश्न 8

In a code language, STAPLE is written as TSBOMD. How will ERASER be written in that language?

उत्तर:

- ✓ 1. FQBRFQ
- ✗ 2. FQBPFQ
- ✗ 3. FQBRDQ
- ✗ 4. FOBRFO

प्रश्न 9

Select the correct mirror image of the given figure when a vertical mirror is placed to the right of the figure.



उत्तर:

- ✗ 1.
- ✗ 2.
- ✗ 3.
- ✓ 4.

प्रश्न आईडी: 8161614838

प्रश्न 10 Select the option that is related to the third letter-cluster in the same way as the second letter-cluster is related to the first letter-cluster.

JOKER : IKIUJLAIQS :: CLOWN : ?

- उत्तर:
- ☒ 1. BDKMNPVXMO
 - ☒ 2. BDKNIUVXMO
 - ☒ 3. BDKMIUXYMO
 - ☒ 4. BDKMIUVXMO

प्रश्न आईडी: 8161614815

प्रश्न 11 Select the correct option that indicates the arrangement of the following words in a logical and meaningful order.

1. Trapezium
2. Hexagon
3. Triangle
4. Heptagon
5. Pentagon

- उत्तर:
- ☒ 1. 3-1-5-2-4
 - ☒ 2. 3-5-4-2-1
 - ☒ 3. 3-1-5-4-2
 - ☒ 4. 3-1-2-4-5

प्रश्न आईडी: 8161614816

प्रश्न 12 In a code language, if RAIN is written as 149118, then how will SHIP be written in the same language?

- उत्तर:
- ☒ 1. 198916
 - ☒ 2. 168919
 - ☒ 3. 169198
 - ☒ 4. 169819

प्रश्न आईडी: 8161614823

प्रश्न 13 Which letter will replace the question mark (?) in the following series?

D, E, G, J, ?, S, Y

- उत्तर:
- ☒ 1. N
 - ☒ 2. O
 - ☒ 3. L
 - ☒ 4. M

प्रश्न आईडी: 8161614826

प्रश्न 14 Peter is the brother of Mary, who is the sister of John. If Jessica is married to Donald's only son, who is the father of John, then how is Jessica related to the father of Mary?

- उत्तर:
- ☒ 1. Mother
 - ☒ 2. Daughter
 - ☒ 3. Wife
 - ☒ 4. Daughter-in-law

प्रश्न आईडी: 8161614828

प्रश्न 15 Which two signs should be interchanged to make the given equation correct?

$$51 + 18 - 5 \times 12 \div 3 = 137$$

- उत्तर:
- ☐ 1. - and +
 - ☐ 2. + and ×
 - ☒ 3. × and -
 - ☐ 4. ÷ and ×

प्रश्न आईडी: 8161614834

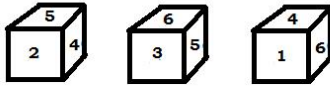
प्रश्न 16 Which letter will replace the question mark (?) in the following series?

W, V, S, N, ?, X, M

- उत्तर:
- ☐ 1. I
 - ☐ 2. H
 - ☐ 3. F
 - ☒ 4. G

प्रश्न आईडी: 8161614827

प्रश्न 17 Three different positions of the same non-standard dice are shown. Which number will be on the face opposite to the face with number 2?



- उत्तर:
- ☐ 3
 - ☐ 4
 - ☐ 1
 - ☒ 6

प्रश्न आईडी: 8161614836

प्रश्न 18 In a code language, TEACHER is written as UIEDIIS. How will PLUMBER be written in that language?

- उत्तर:
- ☐ 1. QMVNCFS
 - ☒ 2. QMANCIS
 - ☐ 3. QMVNCIS
 - ☐ 4. QMANCFS

प्रश्न आईडी: 8161614821

प्रश्न 19 'Theatre' is related to 'Actor' in the same way as 'Circus' is related to '_____'.

- उत्तर:
- ☐ 1. Referee
 - ☒ 2. Clown
 - ☐ 3. Monitor
 - ☐ 4. King

प्रश्न आईडी: 8161614819

प्रश्न 20 Samar is the son of Ganga, who is the daughter-in-law of Dinesh. If Jamna is the mother of Shyam, who is the only son of Dinesh, then how is Samar related to Jamna?

- उत्तर:
- ✓ 1. Grandson
 - ✗ 2. Nephew
 - ✗ 3. Son-in-law
 - ✗ 4. Son

प्रश्न आईडी: 8161614829

प्रश्न 21 Which figure will replace the question mark (?) in the following series?



- उत्तर:
- ✗ 1.
 - ✗ 2.
 - ✗ 3.
 - ✓ 4.

प्रश्न आईडी: 8161614835

प्रश्न 22 'Library' is related to 'Books' in the same way as 'Aquarium' is related to '_____'. .

- उत्तर:
- ✗ 1. Artefacts
 - ✓ 2. Fishes
 - ✗ 3. Decoration
 - ✗ 4. Birds

प्रश्न आईडी: 8161614818

प्रश्न 23 Select the correct option that indicates the arrangement of the following words in a logical and meaningful order.

- 1. Tercet
- 2. Sestet
- 3. Octave
- 4. Couplet
- 5. Quintet

- उत्तर:
- ✗ 1. 3-4-1-2-5
 - ✗ 2. 3-4-1-5-2
 - ✓ 3. 4-1-5-2-3
 - ✗ 4. 4-1-5-3-2

प्रश्न आईडी: 8161614817

प्रश्न 24 Which number will replace the question mark (?) in the following series?

31, 50, 67, ?, 91, 98, 103, 106, 108

उत्तर:

- ☐ 1. 76
☐ 2. 82
☒ 3. 80
☐ 4. 78

प्रश्न आईडी: 8161614832

प्रश्न 25 In a code language, if SOIL is written as 91519021, then how will ROCK be written in the same language?

उत्तर:

- ☐ 1. 81511301
☐ 2. 81513311
☒ 3. 81513011
☐ 4. 81510311

प्रश्न आईडी: 8161614824

प्रश्न 1 दिए गए शब्द का सबसे उपयुक्त विलोम शब्द चुनिए।

खराब

उत्तर:

- ☐ 1. गायब
☐ 2. छुट्टी
☐ 3. आदेश
☒ 4. अच्छा

प्रश्न 2: निम्नलिखित मुहावरे का सबसे उपयुक्त अर्थ चुनिए।

एक तूफान की नजर में रहो

उत्तर:

- ☐ 1. भारी बारिश में फंसना
☐ 2. किसी बात को लेकर बहुत चिंतित रहना
☐ 3. कई लोगों के साथ संघर्ष में रहना
☒ 4. कठिन परिस्थिति के बीच में रहे

प्रश्न आईडी: 8161614850

प्रश्न 3: दिए गए वाक्य के सही निष्क्रिय रूप का चयन करें।

मैंने प्रोजेक्ट पूरा कर लिया है।

उत्तर:

- ☐ 1. परियोजना मेरे द्वारा पूरी की गई थी।
☐ 2. परियोजना मेरे द्वारा पूर्ण की जा रही है।
☐ 3. परियोजना मेरे द्वारा पूरी की गई है।
☒ 4. परियोजना मेरे द्वारा पूर्ण कर ली गई है।

प्रश्न आईडी: 8161614840

प्रश्न 4: दिए गए वाक्य में रिक्त स्थान की पूर्ति के लिए सर्वाधिक उपयुक्त विकल्प का चयन कीजिए।

लड़की _____ ने कक्षा में प्रथम स्थान प्राप्त किया एक घनिष्ठ मित्र है।

- उत्तर:
- ☒ 1. कौन
 - ☐ 2. किसको
 - ☐ 3. जिसका
 - ☐ 4. जो

प्रश्न आईडी: 8161614845

प्रश्न 5: दिए गए शब्दों के लिए सबसे उपयुक्त एक-शब्द प्रतिस्थापन का चयन करें।

एक शांत व्यक्ति जो अकेले समय बिताना पसंद करता है

- उत्तर:
- ☐ 1. नार्सिसिस्ट
 - ☒ 2. अंतरमुखी
 - ☐ 3. ब्रैगर्ट
 - ☐ 4. बहिरमुखी

प्रश्न आईडी: 8161614852

प्रश्न 6: दिए गए शब्द का सबसे उपयुक्त पर्यायवाची शब्द चुनिए।

खुरदुरा

- उत्तर:
- ☒ 1. मोटे
 - ☐ 2. पंखदार
 - ☐
 - ☐

प्रश्न 7: गलत वर्तनी वाले शब्द की पहचान करें।

- उत्तर:
- ☐ 1. अप्रासंगिक
 - ☒ 2. इनोसेंस
 - ☐ 3. तत्काल
 - ☐ 4. विशेष

प्रश्न आईडी: 8161614853

प्रश्न 8: निम्नलिखित मुहावरे का सबसे उपयुक्त अर्थ चुनिए।

दोनों सिरों को मिलाओ

- उत्तर:
- ☒ 1. केवल पर्याप्त धन के साथ खर्चों का प्रबंधन करें
 - ☐ 2. दो स्थानों की यात्रा करने में संक्षम हो
 - ☐ 3. दो समाधानों तक पहुंचने का प्रबंधन करें
 - ☐ 4. दो लोगों को पैच अप कराएं

प्रश्न आईडी: 8161614849

प्र.9 दिए गए वाक्य के सही निष्क्रिय रूप का चयन करें।

स्वयंसेवकों ने सुनिश्चित किया कि किसी को चोट न पहुंचे।

- उत्तर:
- ☐ 1. स्वयंसेवकों द्वारा यह सुनिश्चित किया जा रहा था कि किसी को चोट न पहुंचे।
 - ☐ 2. स्वयंसेवकों द्वारा यह सुनिश्चित किया जाना था कि किसी को चोट न पहुंचे।
 - ☐ 3. स्वयंसेवकों द्वारा यह सुनिश्चित किया गया था कि किसी को चोट न पहुंचे।
 - ☒ 4. स्वयंसेवकों द्वारा यह सुनिश्चित किया गया कि किसी को चोट न पहुंचे।

प्रश्न आईडी: 8161614841

Q.10 दिए गए वाक्य में रेखांकित खंड को प्रतिस्थापित करने के लिए सबसे उपयुक्त विकल्प का चयन करें। यदि इसे स्थानापन्न करने की कोई आवश्यकता नहीं है, तो 'कोई प्रतिस्थापन नहीं' चुनें।

मैं जरूरत कोई इस भारी बैग को उठाने के लिए बहुत मजबूत है।

- उत्तर:
- ☐ 1. जरूरत में हूँ
 - ☒ 2. जरूरत
 - ☐ 3. जरूरत हूँ
 - ☐ 4. कोई प्रतिस्थापन नहीं

प्रश्न आईडी: 8161614844

Q.11 दिए गए शब्दों के लिए सबसे उपयुक्त एक-शब्द प्रतिस्थापन का चयन करें।

बिना तैयारी के किया गया भाषण

- उत्तर:
- ☐ 1. कथन:
 - ☐ 2. बहस
 - ☒
 - ☐

Q.12 दिए गए वाक्य के सही अप्रत्यक्ष रूप का चयन करें।

प्रबंधक ने कर्मचारियों से कहा, "कृपया समर्पण के साथ काम करें। जब भी आप देर से काम करेंगे तो आपको ओवरटाइम का भुगतान किया जाएगा।"

- उत्तर:
- ☐ 1. प्रबंधक ने कर्मचारियों से कहा कि वे कृपया समर्पण के साथ काम करेंगे और भुगतान किया जाएगा ओवरटाइम जब भी वे देर से काम करते हैं।
 - ☐ 2. प्रबंधक कर्मचारियों से समर्पण के साथ काम करने का अनुरोध करता है और उन्हें सुनिश्चित करता है कि वे जब भी वे देर से काम करेंगे, उन्हें ओवरटाइम का भुगतान किया जाएगा।
 - ☒ 3. प्रबंधक ने कर्मचारियों से समर्पण के साथ काम करने का अनुरोध किया और उन्हें सुनिश्चित किया कि जब भी वे देर से काम करते थे, उन्हें ओवरटाइम का भुगतान किया जाता था।
 - ☐ 4. प्रबंधक ने कर्मचारियों से समर्पण के साथ काम करने की भीख मांगी। उन्होंने कहा कि आपको भुगतान किया जाएगा ओवरटाइम जब भी आप देर से काम करते हैं।

प्रश्न आईडी: 8161614843

Q.13 नीचे चार वाक्य दिए गए हैं जो अव्यवस्थित हैं। वह विकल्प चुनें जो सही क्रम देता है।

- ए. अपने कार्ड जारीकर्ता को सूचित करें कि आपका कार्ड गुम है और इसे अव्यवस्थित कर दिया जाना चाहिए।
बी. अंत में, किसी भी अनधिकृत निकासी के लिए अपने खाते की जांच करना न भूलें।
सी. खोया या चोरी हो गया डेबिट कार्ड बहुत चिंता का कारण बन सकता है।
डी. तो, सबसे पहले आपको अपने बैंक से संपर्क करना होगा।

- उत्तर:
- ☒ 1. एसीबीडी
 - ☒ 2. सीएबीडी
 - ☒ 3. एडीसीबी
 - ☒ 4. सीडीएबी

प्रश्न आईडी: 8161614846

Q.14 दिए गए वाक्य के सही अप्रत्यक्ष रूप का चयन करें।

बच्चों ने कहा, हम घर बैठे-बैठे बोर हो गए हैं।

- उत्तर:
- ☒ 1. बच्चों का कहना है कि वे घर बैठे-बैठे बोर हो गए हैं।
 - ☒ 2. बच्चे कह रहे हैं कि वे घर बैठे-बैठे बोर हो गए हैं।
 - ☒ 3. बच्चों ने कहा कि वे घर बैठे-बैठे बोर हो रहे हैं।
 - ☒ 4. बच्चों ने कहा कि वे घर बैठे-बैठे बोर हो गए हैं।

प्रश्न आईडी: 8161614842

Q.15 वाक्य में उस खंड की पहचान करें जिसमें व्याकरण संबंधी त्रुटि है।

तालाबंदी के दौरान किसी को भी कॉलोनी में प्रवेश करने की अनुमति नहीं है।

- उत्तर:
- ☒
 - ☒
 - ☒
 - ☒

प्रश्न आईडी: 8161614839

समझ:

निम्नलिखित परिच्छेद में कुछ शब्दों को हटा दिया गया है। दिए गए विकल्पों की सहायता से रिक्त स्थानों की पूर्ति कीजिए।
प्रत्येक संख्या के लिए सबसे उपयुक्त विकल्प का चयन करें।

उनके पास अगली अवधि इतिहास थी। लड़के इसके लिए तत्पर थे (1)____। यह श्री पिल्लई द्वारा पढ़ाया गया था, जिन्होंने अपनी दयालुता के लिए (2)____ स्कूल में एक नाम और (3)____ हास्य किया था। उन्हें (4)____ समय पर लड़कों पर कभी भी भौंकने के लिए प्रतिष्ठित नहीं किया गया था। संगीत की अवधि थी (5)____ सुबह आखिरी। आखिर यह इतना सुस्त घंटा नहीं था।

उपप्रश्न संख्या : 16

Q.16 रिक्त स्थान को भरने के लिए सबसे उपयुक्त शब्द का चयन करें। 1.

- Ans
- ☒ 1. उत्सुकता से
 - ☒ 2. समान रूप से
 - ☒ 3. तुरंत
 - ☒ 4. भारी

प्रश्न आईडी: 8161614855

समझ:

निम्नलिखित परिच्छेद में कुछ शब्दों को हटा दिया गया है। दिए गए विकल्पों की सहायता से रिक्त स्थानों की पूर्ति कीजिए।
प्रत्येक संख्या के लिए सबसे उपयुक्त विकल्प का चयन करें।

उनके पास अगली अवधि इतिहास थी। लड़के इसके लिए तत्पर थे (1)_____। यह श्री पिल्लई द्वारा पढ़ाया गया था, जिन्होंने अपनी दयालुता के लिए (2)_____ स्कूल में एक नाम और (3)_____ हास्य किया था। उन्हें (4)_____ समय पर लड़कों पर कभी भी भौंकने के लिए प्रतिष्ठित नहीं किया गया था। संगीत की अवधि थी (5)_____ सुबह आखिरी। आखिर यह इतना सुस्त घंटा नहीं था।

उपप्रश्न संख्या : 17

Q.17 रिक्त स्थान को भरने के लिए सबसे उपयुक्त शब्द का चयन करें। 2. उत्तर:

-  1. कमा सकते हैं
-  2. कमाया था
-  3. कमाया है
-  4. अर्जित किया गया था

प्रश्न आईडी: 8161614856

समझ:

निम्नलिखित परिच्छेद में कुछ शब्दों को हटा दिया गया है। दिए गए विकल्पों की सहायता से रिक्त स्थानों की पूर्ति कीजिए।
प्रत्येक संख्या के लिए सबसे उपयुक्त विकल्प का चयन करें।

उनके पास अगली अवधि इतिहास थी। लड़के इसके लिए तत्पर थे (1)_____। यह श्री पिल्लई द्वारा पढ़ाया गया था, जिन्होंने अपनी दयालुता के लिए (2)_____ स्कूल में एक नाम और (3)_____ हास्य किया था। उन्हें (4)_____ समय पर लड़कों पर कभी भी भौंकने के लिए प्रतिष्ठित नहीं किया गया था। संगीत की अवधि थी (5)_____ सुबह आखिरी। आखिर यह इतना सुस्त घंटा नहीं था।

उपप्रश्न संख्या : 18

Q.18 रिक्त स्थान को भरने के लिए सबसे उपयुक्त शब्द का चयन करें। 3.

- Ans
-  1. मुसकुराते हुए
 - 
 - 
 - 

प्रश्न आईडी: 8161614857

समझ:

निम्नलिखित परिच्छेद में कुछ शब्दों को हटा दिया गया है। दिए गए विकल्पों की सहायता से रिक्त स्थानों की पूर्ति कीजिए।
प्रत्येक संख्या के लिए सबसे उपयुक्त विकल्प का चयन करें।

उनके पास अगली अवधि इतिहास थी। लड़के इसके लिए तत्पर थे (1)_____। यह श्री पिल्लई द्वारा पढ़ाया गया था, जिन्होंने अपनी दयालुता के लिए (2)_____ स्कूल में एक नाम और (3)_____ हास्य किया था। उन्हें (4)_____ समय पर लड़कों पर कभी भी भौंकने के लिए प्रतिष्ठित नहीं किया गया था। संगीत की अवधि थी (5)_____ सुबह आखिरी। आखिर यह इतना सुस्त घंटा नहीं था।

उपप्रश्न संख्या : 19

Q.19 रिक्त स्थान को भरने के लिए सबसे उपयुक्त शब्द का चयन करें। 4.

- उत्तर
-  1. वह
 -  2. कुछ
 -  3. कोई भी
 -  4. यह

प्रश्न आईडी: 8161614858

समझ:

निम्नलिखित परिच्छेद में कुछ शब्दों को हटा दिया गया है। दिए गए विकल्पों की सहायता से रिक्त स्थानों की पूर्ति कीजिए।
प्रत्येक संख्या के लिए सबसे उपयुक्त विकल्प का चयन करें।

उनके पास अगली अवधि इतिहास थी। लड़के इसके लिए तत्पर थे (1)_____। यह श्री पिल्लई द्वारा पढ़ाया गया था, जिन्होंने अपनी दयालुता के लिए (2)_____ स्कूल में एक नाम और (3)_____ हास्य किया था। उन्हें (4)_____ समय पर लड़कों पर कभी भी भौकने के लिए प्रतिष्ठित नहीं किया गया था। संगीत की अवधि थी (५)_____ सुबह आखिरी। आखिर यह इतना सुस्त घंटा नहीं था।

उपप्रश्न संख्या : 20

Q.20 रिक्त स्थान को भरने के लिए सबसे उपयुक्त शब्द का चयन करें। 5.

- Ans  1. से
 2. के लिए
 3.
 4. ए

प्रश्न आईडी: 8161614859

समझ:

दिए गए गद्यांश को पढ़िए और उसके बाद आने वाले प्रश्नों के उत्तर दीजिए।

जिस कमरे में लड़कों को खाना खिलाया जाता था, वह एक बड़ा पत्थर का हॉल था, जिसके एक सिरे पर तांबे का बरतन था, जिसमें से गुरु भोजन के समय घी डालते थे। इस उत्सव की रचना में से प्रत्येक लड़के के पास एक कटोरी थी, और नहीं - महान सार्वजनिक आनन्द के अवसरों को छोड़कर, जब उसके पास दो आँस और एक चौथाई रोटी थी।

कटोरे कभी धोना नहीं चाहते थे। लड़कों ने उन्हें अपने चम्मचों से तब तक पॉलिश किया जब तक वे फिर से चमकने नहीं लगे; और जब वे यह ऑपरेशन कर चुके होते, तो वे अपनी उँगलियों को चूसते हुए उत्सुक आँखों से ताँबे के पात्र को घूरते रहते थे।





ओलिवर ट्विस्ट और उसके साथियों को तीन महीने तक धीमी भूखमरी की यातनाओं का सामना करना पड़ा; अंत में वे भूख से इतने प्रचंड और जंगली हो गए, कि एक लड़का, जो अपनी उम्र के लिए लंबा था, ने अपने साथियों को अंधेरे में संकेत दिया, कि जब तक कि उसके पास घी का एक और कटोरा न हो, उसे डर था कि वह कुछ

निहित
मस्त
ई
जी
जबकि
ओलिवर
कहा, "

मास्टर ने ओलिवर के सिर पर प्रहार किया और जोर से चिल्लाया।

उपप्रश्न संख्या : 21

प्र.21 परिच्छेद किस पर प्रकाश डालता है:

- Ans  1. कैसे ओलिवर और अन्य लड़कों की स्कूल में अच्छी देखभाल की जाती थी
 2. लड़कों की देखभाल करने वाले लोगों की दया
 3. लड़कों का चंचल और शरारती व्यवहार
 4. गरीबों के लिए एक घर में रहने वाले लड़कों की भूखमरी

प्रश्न आईडी: 8161614865

समझ:

दिए गए गद्यांश को पढ़िए और उसके बाद आने वाले प्रश्नों के उत्तर दीजिए।

जिस कमरे में लड़कों को खाना खिलाया जाता था, वह एक बड़ा पत्थर का हॉल था, जिसके एक सिरे पर तांबे का बर्तन था, जिसमें से गुरु भोजन के समय घी डालते थे। इस उत्सव की रचना में से प्रत्येक लड़के के पास एक कटोरी थी, और नहीं - महान सार्वजनिक आनन्द के अवसरों को छोड़कर, जब उसके पास दो औंस और एक चौथाई रोटी थी।

कटोरे कभी धोना नहीं चाहते थे। लड़कों ने उन्हें अपने चम्मचों से तब तक पॉलिश किया जब तक वे फिर से चमकने नहीं लगे; और जब वे यह ऑपरेशन कर चुके होते, तो वे अपनी उँगलियों को चूसते हुए उत्सुक आँखों से ताँबे के पात्र को घूरते रहते थे।

ओलिवर ट्विस्ट और उसके साथियों को तीन महीने तक धीमी भुखमरी की यातनाओं का सामना करना पड़ा; अंत में वे भूख से इतने प्रचंड और जंगली हो गए, कि एक लड़का, जो अपनी उम्र के लिए लंबा था, ने अपने साथियों को अंधेरे में संकेत दिया, कि जब तक उसके पास घी का एक और कटोरा न हो, उसे डर था कि कहीं उस लड़के को खाने के लिए कहीं रात न हो जाए उसके बगल में सो गया। उसकी एक जंगली, भूखी आँख थी; और उन्होंने उस पर पूरा विश्वास किया। एक परिषद आयोजित की गई थी; इस बारे में चिट्ठी डाली गई थी कि उस शाम को खाना खाने के बाद मालिक के पास कौन चलकर जाए, और और मांगें; और यह ओलिवर ट्विस्ट पर गिर गया। शाम आ गई; लड़कों ने उनकी जगह ले ली।

दलिया परोसा गया। लड़के एक दूसरे से फुसफुसाते हुए ओलिवर पर झपटे; जबकि उसके अगले पड़ोसियों ने उसे धक्का दे दिया।

ओलिवर मेज से उठा; और स्वामी के पास हाथ में कटोरा और चम्मच की ओर बढ़ते हुए कहा, "कृपया, श्रीमान, मुझे कुछ और चाहिए।"

मास्टर ने ओलिवर के सिर पर प्रहार किया और जोर से चिल्लाया।

उपप्रश्न संख्या : 22

Q.22 निम्न में से कौन लड़कों के खराब भोजन का संकेत नहीं है? उत्तर:

- ☒ 1. लड़के एक दूसरे से फुसफुसाए
- ☐ 2. लड़के तीन महीने तक भूखे रहे
- ☐ 3. एक लम्बे लड़के ने कहा कि वह किसी को खा सकता है
- ☐ 4. वे उत्सुक आँखों से ताँबे को घूरते बैठे थे

प्रश्न आईडी: 8161614862

NS

पढ़ना

द रो
से बाहर
पर था
औंस

कटोरे कभी धोना नहीं चाहते थे। लड़कों ने उन्हें अपने चम्मचों से तब तक पॉलिश किया जब तक वे फिर से चमकने नहीं लगे; और जब वे यह ऑपरेशन कर चुके होते, तो वे अपनी उँगलियों को चूसते हुए उत्सुक आँखों से ताँबे के पात्र को घूरते रहते थे।

ओलिवर ट्विस्ट और उसके साथियों को तीन महीने तक धीमी भुखमरी की यातनाओं का सामना करना पड़ा; अंत में वे भूख से इतने प्रचंड और जंगली हो गए, कि एक लड़का, जो अपनी उम्र के लिए लंबा था, ने अपने साथियों को अंधेरे में संकेत दिया, कि जब तक उसके पास घी का एक और कटोरा न हो, उसे डर था कि कहीं उस लड़के को खाने के लिए कहीं रात न हो जाए उसके बगल में सो गया। उसकी एक जंगली, भूखी आँख थी; और उन्होंने उस पर पूरा विश्वास किया। एक परिषद आयोजित की गई थी; इस बारे में चिट्ठी डाली गई थी कि उस शाम को खाना खाने के बाद मालिक के पास कौन चलकर जाए, और और मांगें; और यह ओलिवर ट्विस्ट पर गिर गया। शाम आ गई; लड़कों ने उनकी जगह ले ली।

दलिया परोसा गया। लड़के एक दूसरे से फुसफुसाते हुए ओलिवर पर झपटे; जबकि उसके अगले पड़ोसियों ने उसे धक्का दे दिया।

ओलिवर मेज से उठा; और स्वामी के पास हाथ में कटोरा और चम्मच की ओर बढ़ते हुए कहा, "कृपया, श्रीमान, मुझे कुछ और चाहिए।"

मास्टर ने ओलिवर के सिर पर प्रहार किया और जोर से चिल्लाया।

उपप्रश्न संख्या : 23

प्र.23 लेखक का कहना है कि 'कटोरे को कभी धोना नहीं चाहिए' क्योंकि: Ans

- ☐ 1. उनमें अभी भी बहुत सारा मैल बाकी था
- ☐ 2. लड़कों ने उन्हें अपने हाथों से अच्छी तरह साफ किया
- ☐ 3. उन्हें सहायकों द्वारा साफ करने के लिए छोड़ दिया गया था
- ☒ 4. लड़कों ने कटोरों में थोड़ा-थोड़ा खा लिया

प्रश्न आईडी: 8161614861

समझ:

दिए गए गद्यांश को पढ़िए और उसके बाद आने वाले प्रश्नों के उत्तर दीजिए।

जिस कमरे में लड़कों को खाना खिलाया जाता था, वह एक बड़ा पत्थर का हॉल था, जिसके एक सिरे पर तांबे का बर्तन था, जिसमें से गुरु भोजन के समय घी डालते थे। इस उत्सव की रचना में से प्रत्येक लड़के के पास एक कटोरी थी, और नहीं - महान सार्वजनिक आनन्द के अवसरों को छोड़कर, जब उसके पास दो औंस और एक चौथाई रोटी थी।

कटोरी कभी धोना नहीं चाहते थे। लड़कों ने उन्हें अपने चम्मचों से तब तक पॉलिश किया जब तक वे फिर से चमकने नहीं लगे; और जब वे यह ऑपरेशन कर चुके होते, तो वे अपनी उँगलियों को चूसते हुए उत्सुक आँखों से ताँबे के पात्र को घूरते रहते थे।

ओलिवर ट्विस्ट और उसके साथियों को तीन महीने तक धीमी भुखमरी की यातनाओं का सामना करना पड़ा; अंत में वे भूख से इतने प्रचंड और जंगली हो गए, कि एक लड़का, जो अपनी उम्र के लिए लंबा था, ने अपने साथियों को अंधेरे में संकेत दिया, कि जब तक उसके पास घी का एक और कटोरा न हो, उसे डर था कि कहीं उस लड़के को खाने के लिए कहीं रात न हो जाए उसके बगल में सो गया। उसकी एक जंगली, भूखी आँख थी; और उन्होंने उस पर पूरा विश्वास किया। एक परिषद आयोजित की गई थी; इस बारे में चिट्ठी डाली गई थी कि उस शाम को खाना खाने के बाद मालिक के पास कौन चलकर जाए, और और मांगे; और यह ओलिवर ट्विस्ट पर गिर गया। शाम आ गई; लड़कों ने उनकी जगह ले ली।

दलिया परोसा गया। लड़के एक दूसरे से फुसफुसाते हुए ओलिवर पर झपटे; जबकि उसके अगले पड़ोसियों ने उसे धक्का दे दिया।

ओलिवर मेज से उठा; और स्वामी के पास हाथ में कटोरा और चम्मच की ओर बढ़ते हुए कहा, "कृपया, श्रीमान, मुझे कुछ और चाहिए।"

मास्टर ने ओलिवर के सिर पर प्रहार किया और जोर से चिल्लाया।

उपप्रश्न संख्या : 24

Q.24 जब ओलिवर ट्विस्ट ने और भीषण के लिए कहा: Ans

- ☒ 1. मालिक जोर से चिल्लाया
- ☐ 2. दूसरे लड़कों ने उसका साथ दिया
- ☐ 3. दूसरे लड़के उस पर हँसे
- ☐ 4. स्वामी ने उस पर घी फेंका

प्रश्न आईडी: 8161614864

NS

पढ़ना

द रो
से बाहर
पर था
औंस

कटोरी कभी धोना नहीं चाहते थे। लड़कों ने उन्हें अपने चम्मचों से तब तक पॉलिश किया जब तक वे फिर से चमकने नहीं लगे; और जब वे यह ऑपरेशन कर चुके होते, तो वे अपनी उँगलियों को चूसते हुए उत्सुक आँखों से ताँबे के पात्र को घूरते रहते थे।

ओलिवर ट्विस्ट और उसके साथियों को तीन महीने तक धीमी भुखमरी की यातनाओं का सामना करना पड़ा; अंत में वे भूख से इतने प्रचंड और जंगली हो गए, कि एक लड़का, जो अपनी उम्र के लिए लंबा था, ने अपने साथियों को अंधेरे में संकेत दिया, कि जब तक उसके पास घी का एक और कटोरा न हो, उसे डर था कि कहीं उस लड़के को खाने के लिए कहीं रात न हो जाए उसके बगल में सो गया। उसकी एक जंगली, भूखी आँख थी; और उन्होंने उस पर पूरा विश्वास किया। एक परिषद आयोजित की गई थी; इस बारे में चिट्ठी डाली गई थी कि उस शाम को खाना खाने के बाद मालिक के पास कौन चलकर जाए, और और मांगे; और यह ओलिवर ट्विस्ट पर गिर गया। शाम आ गई; लड़कों ने उनकी जगह ले ली।

दलिया परोसा गया। लड़के एक दूसरे से फुसफुसाते हुए ओलिवर पर झपटे; जबकि उसके अगले पड़ोसियों ने उसे धक्का दे दिया।

ओलिवर मेज से उठा; और स्वामी के पास हाथ में कटोरा और चम्मच की ओर बढ़ते हुए कहा, "कृपया, श्रीमान, मुझे कुछ और चाहिए।"

मास्टर ने ओलिवर के सिर पर प्रहार किया और जोर से चिल्लाया।

उपप्रश्न संख्या : 25

Q.25 निर्णय लेने के लिए लड़कों ने एक बैठक की: Ans

- ☒ 1. कौन मालिक को बताएगा कि उन्हें और खाना चाहिए
- ☐ 2. रसोई से खाना कौन चुराएगा
- ☐ 3. लंबे लड़के को उसके जंगलीपन के लिए कौन पीटेगा
- ☐ 4. हॉल में गुरु की मदद कौन करेगा

प्रश्न आईडी: 8161614863

प्रश्न 1 When 200 is divided by a positive integer x , the remainder is 12. How many values of x are possible?

- उत्तर: ☒ 1. 3
☐ 2. 8
☐ 3. 6
☐ 4. 2

प्रश्न आईडी: 8161614866

प्रश्न 2 Five years ago, the average of the ages of 4 persons was 40 years. If a new person joins the group now, then the average of the ages all five persons is 46 years. The age of the fifth person (in years) is:

- उत्तर: ☒ 1. 50
☐ 2. 55
☐ 3. 48
☐ 4. 47

प्रश्न आईडी: 8161614868

प्रश्न 3 If $2\cos^2\theta = 3\sin\theta$, $0^\circ < \theta < 90^\circ$, then the value of $\left(\frac{1}{2}\operatorname{cosec}^2\theta - \cot^2\theta\right)$ is:

- उत्तर: ☐ 1. $\frac{1}{4}$
☐ 2. $\frac{1}{2}$
☐ 3. 0
☒ 4. -1

प्रश्न 4 The area of a field in the shape of a hexagon is $3750\sqrt{3}\text{m}^2$. What will be the cost (in ₹) of putting fence around it at ₹29 per metre?

- उत्तर: ☐ 1. 10,150
☐ 2. 7,250
☐ 3. 9,425
☒ 4. 8,700

प्रश्न आईडी: 8161614882

प्रश्न 5 A shopkeeper announced a 30% discount on the marked price of an item. A person bought the item from the shop for ₹21,000 after getting the discount, and sold the item to a customer in such a way that he earned a profit of 32% on the marked price. What is the profit (in ₹) the person earned by selling the item?

- उत्तर: ☐ 1. 9,600
☐ 2. 21,600
☒ 3. 18,600
☐ 4. 10,000

प्रश्न आईडी: 8161614873

प्रश्न ६ A sum of ₹4,360 was to be divided among A, B, C and D in the ratio of 3 : 4 : 5 : 8, but it was divided in the ratio

$\frac{1}{3} : \frac{1}{4} : \frac{1}{5} : \frac{1}{8}$ by mistake. Which of the following statements will hold true as a result?

- उत्तर:
- ☒ 1. B received ₹318 less
 - ☒ 2. D received ₹1,144 more
 - ☒ 3. A received ₹956
 - ☒ 4. C received ₹130 less

प्रश्न आईडी: 8161614876

प्रश्न ७ A man travels the first part of his journey at 80 km/h and the second part at 120 km/h, and covers a total distance of 3840 km to his destination in 40 hours. How long did the first part of his journey last?

- उत्तर:
- ☒ 1. 24 hours
 - ☒ 2. 12 hours
 - ☒ 3. 18 hours
 - ☒ 4. 36 hours

प्रश्न आईडी: 8161614881

प्रश्न 8 $\triangle ABC \sim \triangle QRP$. If the ratio of the area of $\triangle ABC$ to the area of $\triangle PQR$ is 576 : 169, AB = 10 cm, AC = 12 cm and BC = 13 cm, then the length of PR (in cm) is equal to:

- उत्तर:
- ☒ 1. $\frac{169}{11}$
 - ☒ 2. $\frac{169}{10}$
 - ☒ 3. $\frac{169}{12}$
 - ☒ 4. $\frac{169}{24}$

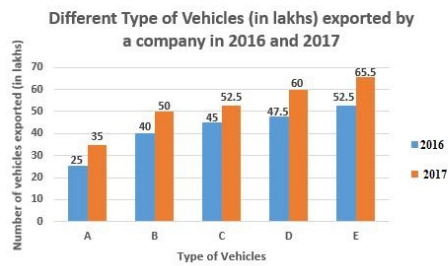
प्रश्न आईडी: 8161614886

प्र. 9 If $(2x + 3y + 4)(2x + 3y - 5)$ is equal to $(ax^2 + by^2 + 2hxy + 2gx + 2fy + c)$, then what is the value of $\{3(g - f - c)/ab\}$?

- उत्तर:
- ☒ 1. $\frac{41}{24}$
 - ☒ 2. 1
 - ☒ 3. $\frac{31}{24}$
 - ☒ 4. $\frac{25}{24}$

प्रश्न आईडी: 8161614884

प्रश्न 10 Study the given graph and answer the question that follows:

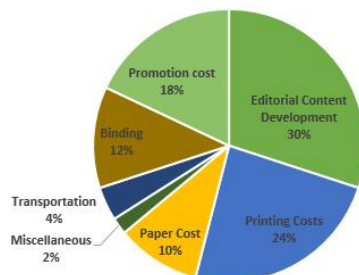


The total number of vehicles of types C and D exported by the company in 2017 is by what percentage more than the total number of vehicles of types A, B and C exported in 2016 (correct to one decimal place)?

- उत्तर:
- ☒ 1. 2.1%
 - ☒ 2. 2.3%
 - ☒ 3. 1.9%
 - ☒ 4. 3.5%

प्रश्न आईडी: 8161614889

प्रश्न 11 The following pie chart represents the expenditure incurred in printing a magazine:



If the editorial content development cost of the magazine is ₹48,000, then the cost (in ₹) of binding is:

- उत्तर:
- ☒ 1. 19,200
 - ☒ 2. 38,400
 - ☒ 3. 18,000
 - ☒ 4. 36,000

प्रश्न आईडी: 8161614888

प्रश्न 12 In $\triangle ABC$, D is a point on BC such that $\angle BAD = \frac{1}{2} \angle ADC$, $\angle BAC = 84^\circ$ and $\angle C = 42^\circ$. What is the measure of $\angle ADB$?

- उत्तर:
- ☒ 1. 102°
 - ☒ 2. 68°
 - ☒ 3. 94°
 - ☒ 4. 72°

प्रश्न आईडी: 8161614885

प्रश्न 13 A spends 80% of her income. When her income is increased by 30%, she increases her expenditure by 30%. By what percentage are her savings increased or decreased?

- उत्तर:
- ☒ 1. Decrease of 30%
 - ☒ 2. Increase of 50%
 - ☒ 3. Decrease of 50%
 - ☒ 4. Increase of 30%

प्रश्न आईडी: 8161614872

प्रश्न 14 A train covers a certain distance in 45 minutes. If its speed is reduced by 5 km/h, it takes 5 minutes more to cover the same distance. The distance (in km) is:

- उत्तर:
- ☒ 1. 37.5
 - ☐ 2. 35
 - ☐ 3. 32.5
 - ☐ 4. 40

प्रश्न आईडी: 8161614880

प्रश्न 15 The average of the weights of boys in a class is 69.3 kg and that of girls in the same class is 59.4 kg. If the average of the weights of all the boys and girls in the class is 63.8 kg, then the percentage of the number of girls in the class is:

- उत्तर:
- ☐ 1. $44\frac{5}{9}\%$
 - ☐ 2. $45\frac{5}{9}\%$
 - ☒ 3. $55\frac{5}{9}\%$
 - ☐ 4. $54\frac{5}{9}\%$

प्रश्न आईडी: 8161614869

प्रश्न 16 Three merchants, A, B and C, sell sewing machines at the same list price. Merchant A allows two successive discounts of 30% and 16%; merchant B allows two successive discounts of 20% and 26%, and merchant C allows two successive discounts of 25% and 20%. Which merchant should a customer choose to get the maximum discount?

- उत्तर:
- ☐ Merchant B
 - ☒ Merchant A
 - ☐ Merchant C
 - ☐ Either merchant B or merchant C

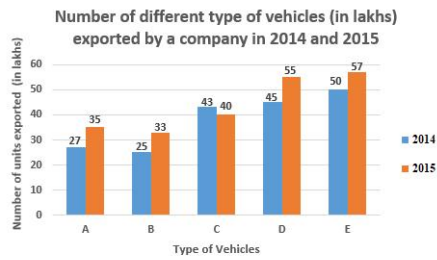
प्रश्न आईडी: 8161614874

प्रश्न 17 A vendor marked the price of an item 25% above the cost. If he offers a discount of 15% on the marked price, then what is his gain/loss percentage?

- उत्तर:
- ☒ 1. Gain: 6.25%
 - ☐ 2. No gain no loss
 - ☐ 3. Gain: 5%
 - ☐ 4. Loss: 5%

प्रश्न आईडी: 8161614870

प्रश्न 18 Study the given graph and answer the question that follows.



The total number of vehicles of types B, C and E exported in 2014 is what percentage of the total number of vehicles of types A, B, C, D and E exported in 2015 (correct to one decimal place)?

- उत्तर:
- ☒ 1. 62.4%
 - ☒ 2. 63.8%
 - ☒ 3. 61.6%
 - ☒ 4. 53.6%

प्रश्न आईडी: 8161614890

प्रश्न 19 If $x + y = 7$ and $xy = 12$, then the value of $\left(\frac{1}{x^3} + \frac{1}{y^3}\right)$ is:

- उत्तर:
- ☒ 1. $\frac{191}{1728}$
 - ☒ 2. 1
 - ☒ 3. $\frac{97}{1728}$
 - ☒ 4. $\frac{91}{1728}$

प्रश्न 20 The compound interest (in ₹) on a sum of ₹12,000 at 10% per annum for 1.5 years, interest compounded half-yearly, is:

- उत्तर:
- ☒ 1. 1,750
 - ☒ 2. 1,900
 - ☒ 3. 1,821.50
 - ☒ 4. 1,891.50

प्रश्न आईडी: 8161614877

प्रश्न 21 A can finish a task in 45 days and B can finish the same task in 30 days. They work together for 3 days and then A leaves. In how many days will B finish the remaining task?

- उत्तर:
- ☒ 1. 5
 - ☒ 2. 18
 - ☒ 3. 25
 - ☒ 4. 20

प्रश्न आईडी: 8161614878

प्रश्न 22 A mixture contains acid and water in the ratio of 6 : 1 . On adding 12 litres of water to the mixture, the ratio of acid to water becomes 3 : 2 . The quantity of water (in litres) in the original mixture was:

- उत्तर:
- ☒ 1. 3.5
 - ☒ 2. 6
 - ☒ 3. 4
 - ☒ 4. 5

प्रश्न आईडी: 8161614875

प्रश्न 23 The length of a rectangle is increased by 10% and the breadth is increased by 25%. What is the percentage change in its area?

- उत्तर:
- ☒ 1. Increase of 37.5%
 - ☒ 2. Decrease of 25%
 - ☒ 3. Decrease of 37.5%
 - ☒ 4. Increase of 25%

प्रश्न आईडी: 8161614871

प्रश्न 24 Working for 9 hours a day, X can finish a task in 3 days, Y can finish three times of the same task in 8 days, and Z can finish five times of the same task in 12 days. Working together, in how many hours will they complete the task?

- उत्तर:
- ☒ 1. 12
 - ☒ 2. 8
 - ☒ 3. 10
 - ☒ 4. 9

प्रश्न 25 When a certain number is divided by 52, the remainder is 49. When the same number is divided by 13, the remainder is x . What is the value of $\sqrt{5x-1}$?

- उत्तर:
- ☒ 1. 11
 - ☒ 2. 6
 - ☒ 3. 7
 - ☒ 4. 8

प्रश्न आईडी: 8161614867

प्रश्न 1 प्रत्येक वर्ष की शुरुआत में, भारत की संसद का पहला सत्र दोनों सदनों की संयुक्त बैठक से शुरू होता है। निम्नलिखित में से कौन इसे सम्मन के कारणों के बारे में सूचित करने के लिए संबोधित करता है?

- उत्तर:
- ☒ 1. राष्ट्रपति
 - ☒ 2. अध्यक्ष
 - ☒ 3. उपाध्यक्ष
 - ☒ 4. प्रधान मंत्री

प्रश्न आईडी: 8161614912

प्रश्न 2: नागालैंड में, एक 'वीर स्मृति' स्मारक स्थापित किया गया है, जो विद्रोह से लड़ते हुए शहीद हुए 357 सेना और असम राइफल्स के जवानों को समर्पित है। यह स्मारक स्थित है:

- उत्तर:
- ☐ 1. दीमापुर
 - ☐ 2. वोखा
 - ☒ 3. मोकोकचुंग
 - ☐ 4. कोहिमा

प्रश्न आईडी: 8161614893

प्रश्न 3: निम्नलिखित में से कौन 'द डायरी ऑफ मनु गांधी (1943-44)' नामक पुस्तक का संपादक और अनुवादक है?

- उत्तर:
- ☐ 1. रामचंद्र गुहा
 - ☐ 2. बासुदेव चटर्जी
 - ☒ 3. त्रिदीप सुह्रुद
 - ☐ 4. प्रताप भानु मेहता

प्रश्न आईडी: 8161614909

प्रश्न 4: उमियाम झील, जिसे बारापानी झील के नाम से जाना जाता है, निम्नलिखित में से किस राज्य में स्थित है?

- उत्तर:
- ☐ 1. नागालैंड
 - ☒ 2. मेघालय
 - ☐ 3. सिक्किम
 - ☐

Q.5 जनवरी में

अध्यक्ष

- उत्तर:
- ☐ 1. जनरल मोर्टर्स
 - ☐ 2. सेब
 - ☒ 3. आईबीएम
 - ☐ 4. फोनपे

प्रश्न आईडी: 8161614911

प्रश्न 6: आर्थिक सर्वेक्षण 2019-20 के अनुसार, भारत किस वर्ष तक 5 ट्रिलियन डॉलर की अर्थव्यवस्था बनने की इच्छा रखता है?

- उत्तर:
- ☐ 1. 2026
 - ☐ 2. 2030
 - ☐ 3. 2023
 - ☒ 4. 2025

प्रश्न आईडी: 8161614896

प्रश्न ७ केंद्रीय बजट 2020 के अनुसार, भारत कब तक तपेदिक के उन्मूलन को प्राप्त करने का लक्ष्य रखता है?

- उत्तर:
- ☒ 1. 2025
 - ☐ 2. 2024
 - ☐ 3. 2026
 - ☐ 4. 2023

प्रश्न आईडी: 8161614894

प्रश्न 8 निम्नलिखित भारतीयों में से किसने एक अफ्रीकी देश में 'फीनिक्स संस्थान' की स्थापना की?

- उत्तर:
- ☐ 1. लाला लाजपत राय
 - ☒ 2. महात्मा गांधी
 - ☐ 3. देवेन्द्रनाथ टैगोर
 - ☐ 4. दादाभाई नोरोजी

प्रश्न आईडी: 8161614908

प्र. 9 निम्नलिखित में से कौन सा फाइबर सेमी-सिंथेटिक बहुलक का एक उदाहरण है?

- उत्तर:
- ☒ 1. रेयोन
 - ☐ 2. नायलॉन
 - ☐ 3. पॉलिएस्टर
 - ☐ 4. कार्बन फाइबर

Q.10 कौनसा

- उत्तर:
- ☐
 - ☐
 - ☒ 3. शुक्र
 - ☐ 4. बृहस्पति

प्रश्न आईडी: 8161614897

Q.11 टेनिस स्टार क्रिस्टीना म्लादेनोविक निम्नलिखित में से किस देश से संबंधित है? उत्तर:

- ☐ 1. यूएसए
- ☒ 2. फ्रांस
- ☐ 3. जापान
- ☐ 4. जर्मनी

प्रश्न आईडी: 8161614915

Q.12 राजा खारवेल, प्राचीन भारतीय राजा, जिनकी जीवनी प्रसिद्ध हाथीगुम्फा शिलालेख में मिलती है, ने शासन किया:

- उत्तर:
- ☒ 1. कलिंग:
 - ☐ 2. आंध्र
 - ☐ 3. गौड़
 - ☐ 4. कुन्तला

प्रश्न आईडी: 8161614907

Q.13 मुगल प्रशासन के संदर्भ में 'पोलाज' शब्द का अर्थ है : Ans

- ☒ 1. राजस्व निर्धारण के लिए भूमि का प्रकार
- ☐ 2. हथियार का प्रकार
- ☐ 3. धार्मिक व्यक्तियों को दी गई भूमि
- ☐ 4. सैनिक

प्रश्न आईडी: 8161614906

Q.14 निम्नलिखित में से किस भारतीय राज्य में मिशमी पहाड़ियाँ मुख्य रूप से फैली हुई हैं? उत्तर:

- ☐ 1. उत्तराखंड
- ☒ 2. अरुणाचल प्रदेश
- ☐ 3. मेघालय
- ☐ 4. सिक्किम

प्रश्न आईडी: 8161614904

Q.15 जनवरी 2020 में यूरोपीय संसद में निम्नलिखित में से किसे आयुर्वेद रत्न पुरस्कार से सम्मानित किया गया?

- उत्तर:
- ☒ 1. प्रताप चौहान
 - ☐ 2. पंकज नारामो
 - ☐ 3. बाबा रामदेव
 - ☐ 4. आचार्य बालकृष्ण

प्रश्न 16
तक

- उत्तर:
- ☒
 - ☐ 2. गुप्ता
 - ☐ 3. मुगल
 - ☐ 4. राष्ट्रकूट

प्रश्न आईडी: 8161614892

Q.17 निम्नलिखित में से किस राज्य में अझीक्कल बंदरगाह स्थित है? उत्तर:

- ☐ 1. महाराष्ट्र
- ☒ 2. केरल
- ☐ 3. आंध्र प्रदेश
- ☐ 4. उड़ीसा

प्रश्न आईडी: 8161614902

Q.18 निम्नलिखित में से कौन सी नदी यमुना नदी की सहायक नदी नहीं है? उत्तर:

- ☐ 1. बेतवा
- ☐ 2. हिंडन
- ☐ 3. चंबल
- ☒ 4. सोन

प्रश्न आईडी: 8161614901

Q.19 प्रसिद्ध कलाकार जसवंत सिंह कंवल, जिनका फरवरी 2020 में निधन हो गया, एक प्रसिद्ध थे: Ans

- ☐ 1. गायक
- ☐ 2. नर्तकी
- ☒ 3. लेखक
- ☐ 4. संगीतकार

प्रश्न आईडी: 8161614891

Q.20 जनवरी 2020 में, भारतीय नौसेना ने चक्रवात प्रभावित आबादी को सहायता प्रदान करने के लिए 'ऑपरेशन वेनिला' शुरू किया:

- उत्तर: ☒ 1. मेडागास्कर
- ☐ 2. मालदीव
 - ☐ 3. फिजी
 - ☐ 4. इंडोनेशिया

प्रश्न आईडी: 8161614895

Q.21 कठोर सतह से टकराने पर ध्वनि उत्पन्न करने वाली धातु कहलाती है: Ans

- ☐ 1. लौह
- ☐ 2. झरझरा
- ☒ 3. सोनोरस
- ☐ 4. आग्नेय

प्रश्न 22 जो

- उत्तर: ☐
- ☐
 - ☐ 3. केंद्रीय औद्योगिक सुरक्षा बल
 - ☒ 4. असम राइफल्स

प्रश्न आईडी: 8161614914

Q.23 निम्नलिखित में से किस स्थान पर 1928 में हिंदुस्तान सोशलिस्ट रिपब्लिकन एसोसिएशन (HSRA) की स्थापना की गई थी?

- उत्तर: ☐ 1. कराची
- ☐ 2. लाहौर
 - ☐ 3. अमृतसर
 - ☒ 4. दिल्ली





प्रश्न आईडी: 8161614905

Q.24 विकिरण को मापने के लिए निम्नलिखित में से किस उपकरण का उपयोग किया जाता है? उत्तर:

- ☒ 1. बोलोमीटर
- ☐ 2. कार्बोरेटर
- ☐ 3. कैलिपर
- ☐ 4. गैल्वेनोमीटर

प्रश्न आईडी: 8161614900

Q.25 केंद्र सरकार द्वारा किसानों को उनकी परती/बंजर भूमि पर सौर ऊर्जा उत्पादन क्षमता स्थापित करने और इसे ग्रिड को बेचने के लिए प्रोत्साहित करने की पहल को कहा जाता है:

- उत्तर:
-  1. पीएम-उड़ान
 -  2. PM-CARES
 -  3. पीएम-सम्मान
 -  4. पीएम-कुसुम

प्रश्न आईडी: 8161614913