

ابتدائية مسعود بوزيان بوقرة

### المستوى : الأولى ابتدائي

**التلميذ :**

\*\*\*\*\*



بِغَاءُ .....



زُفْرَةٌ .....



جَزْ...

مَقْصُودٌ

.....خو

.....کنا

ضَفُّ...م

الْعَائِلَةُ

**خَرَجَتْ**

فہم

نُزْهَة

الوضعية 04 : أَكْتُبُ جَيِّدًا :

A blank sheet of graph paper with a grid pattern. The grid consists of light blue horizontal lines and vertical lines that are colored alternately in light green and light red. There are 10 columns and 8 rows visible on the page.

الوضعية 05 : أَكْتُبُ مَا أَسْمَعُ :

\*\*\*\*\*

.....

.....

## الأسئلة

النشاط 01: أضعُ ( ص ) لِلْجَوَابِ الصَّحِيحِ ، و ( خ ) لِلْجَوَابِ الخاطي :

- الْمُسْلِمُ لَا يُبْعَدُ الْأَدَى عَنِ الطَّرِيقِ ← ☐
- لَا أَسْتَأْذِنُ عِنْدَ دُخُولِ بَيْتِ صَدِيقِي ← ☐
- الرِّفْقُ بِالْحَيَوَانِ يُدْخِلُ صَاحِبَهُ الْجَنَّةَ ← ☐
- الطِّفْلُ الصَّادِقُ لَا يُحِبُّ النَّاسَ ← ☐
- التَّعَاوُنُ يَنْشُرُ الْمَحَبَّةَ بَيْنَ النَّاسِ ← ☐

النشاط 02: رَبطُ كُلِّ جُمْلَةٍ بِمَا يَنَاسِبُهَا :

بِاللَّهِ الَّذِي يَحْمِينَا

مِنْ آدَابِ الْمُسْلِمِ

يُنْظَفُ جِسْمُهُ دَائِمًا

الِاسْتِئْذَانُ

نَسْتَعِينُ دَائِمًا

الْمُسْلِمُ الطَّاهِرُ

النشاط 03: أَخْتَارُ الْكَلِمَةَ الْمُنَاسِبَةَ وَ أَضَعُهَا فِي الْفَرَاغِ الْمُنَاسِبِ :

الْبِرُّ - الصَّدَق - الْجَنَّة

قَالَ رَسُولُ اللَّهِ صَلَّى اللَّهُ عَلَيْهِ وَسَلَّمَ :

« إِنَّ ..... يَهْدِي إِلَى الْبِرِّ ، وَ إِنَّ ..... يَهْدِي إِلَى ..... »

العلامة

إمضاء الولي

التلميذ: .....

## اختبار الفصل الثاني في التربية المدنية

التاريخ : الخميس 28 فيفري 2018

المدة : 01 سا

### الأسئلة

النشاط 01: أضع ( ص ) للجواب الصحيح ، و ( خ ) للجواب الخاطئ :

- لا أَحْيِي أَصْدِقَائِي عِنْدَمَا أَلْتَقِي بِهِمْ ..... ←
- أَلْعَبُ مَعَ زُمَلَائِي وَ لَا أَسَاعِدُهُمْ ..... ←
- أَجْمَلُ الْأَعْرَاضَ عَنِ الشَّيْخِ الْكَبِيرِ ..... ←
- أَلْعَظْفُ عَلَى الْآخَرِينَ مِنَ الْأَخْلَاقِ الْحَمِيدَةِ ..... ←
- يَتَوَسَّطُ عِلْمَ الْجَزَائِرِ هَلَالٌ أَخْضَرُ ..... ←

النشاط 02: أربط مع ما يُناسِبُها :

مَعْلُومَاتِي الشَّخْصِيَّة

أَقُولُ عِنْدَ التَّحِيَّةِ

أَحْتَرِمُ الْكَبِيرَ

فِي بِطَاقَتِي الْمَدْرَسِيَّةِ أَجِدُ

السَّلَامُ عَلَيْكُمْ

أَنَا تَلْمِيذٌ مُؤَدِّبٌ

النشاط 03: أقرأ الجملة و أربطها بالصورة المناسبة لها :

أَحْتَرِمُ الْكَبِيرَ فِي الْمَدْرَسَةِ

أَحْتَرِمُ الْكَبِيرَ فِي الْمَنْزِلِ

أَحْتَرِمُ الْكَبِيرَ فِي الشَّارِعِ



إمضاء الولي :

العلامة

التلميذ : .....

العام الدراسي : 2017 / 2018

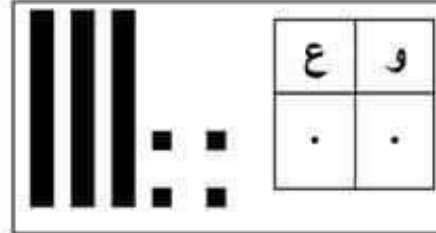
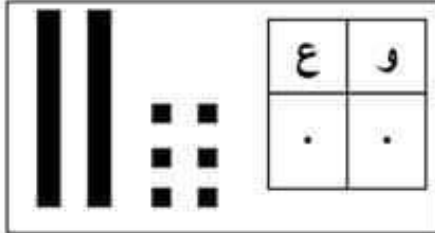
التاريخ : الثلاثاء 25 فيفري 2018

ابتدائية مسعود بوزيان بوقرة

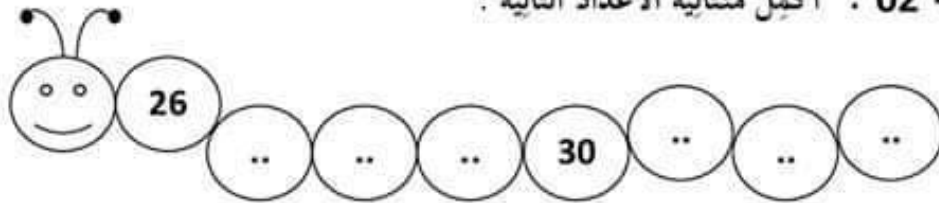
المستوى : الأولى ابتدائي

### اختبار الفصل الثاني في مادة الرياضيات

الوضعية 01 : ألاحظُ و أكمل :



الوضعية 02 : أكمل متتالية الأعداد التالية :



الوضعية 03 : أنجز ما يلي :

$$10 - 2 = \dots\dots\dots$$

$$16 + 2 = \dots\dots\dots$$

$$8 - 3 = \dots\dots\dots$$

$$10 + 3 = \dots\dots\dots$$

الوضعية 04 : اكتب العدد الذي يسبق و الذي يلي :

.. 17 ..

.. 38 ..

الوضعية 05 : تملك ليلى 10 صور ، و أخذت لها أمها 8 صور أخرى . كم أصبح عندها ؟

$$10 + 8 = 18$$

$$10 - 8 = 2$$

1- لون الإجابة الصّحيحة

2- أصبح عندها : ..... صورة

إمضاء الولي

العلامة

التلميذ :


السنة الدراسية : 2017/2018

التاريخ : 2018/02/25

ابتدائية مسعود بوزيان بوقرة

المستوى : السنة الأولى ابتدائي

اختبار الفصل الثاني في مادة  
التربية التشكيلية



إمضاء الولي

العلامة

التلميذ

.....



التاريخ : الأحد 01 مارس 2018

المدة : 01 سا

## الأسئلة

النشاط 01: لي خمس حواس وكل حاسة لها وظيفة ، سأربط كل حاسة بوظيفتها :




النشاط 02: أجب بوضع ( ص ) أو ( خ ) :

- يدخل الهواء إلى الجسم عن طريق الأنف و الفم .....
- أتنقل مشيا ، جريا أو قفزا .....
- لا ينتمي جسمي في الرتبة .....
- أأكثر من أكل الحلوى و الشكولاتة .....
- الجبن مصدره حيواني .....
- البرتقال مصدره نباتي .....

النشاط 03: ذهبت إلى حديقة الحيوانات و شاهدت حيوانات كثيرة .

- صنف هذه الحيوانات بوضع **أليف** أو **متوحش** تحت كل صورة



.....



.....



.....



.....



.....

إمضاء الولي :

التلميذ : .....

## تقديم التلخيص الثاني في مادة القراءة

الاسم: _____	الصف: _____	التاريخ: _____
الاسم واللقب: _____	الصف: _____	التاريخ: _____

مستوى التمرين	مستوى التمرين	مستوى التمرين	مستوى التمرين	مستوى التمرين	مستوى التمرين	مستوى التمرين	مستوى التمرين
مستوى 1	مستوى 2	مستوى 3	مستوى 4	مستوى 5	مستوى 6	مستوى 7	مستوى 8
0	0	0	0	0	0	0	0
2	2	2	2	2	2	2	2
3	3	3	3	3	3	3	3
5	5	5	5	5	5	5	5

المعيار	التمارين
1- 2- 3- 4-	السند 1 : أقرأ النص التالي:  تلعب ربيعة بالبالون في الحقل . وفجأة انقطع الخيط فإطلق البالون إلى الأعلى . أزرعت ربيعة ثمرمضن لئلا تحق بالونها.
5- 6- 7-	(1) تربط بينهم :  <div style="display: flex; justify-content: space-around;"> <div style="border: 1px solid black; padding: 5px; text-align: center;">الخيط</div> <div style="border: 1px solid black; padding: 5px; text-align: center;">تلعب ربيعة به</div> </div> <div style="display: flex; justify-content: space-around;"> <div style="border: 1px solid black; padding: 5px; text-align: center;">الأعلى</div> <div style="border: 1px solid black; padding: 5px; text-align: center;">فجأة انقطع</div> </div> <div style="display: flex; justify-content: space-around;"> <div style="border: 1px solid black; padding: 5px; text-align: center;">البالون</div> <div style="border: 1px solid black; padding: 5px; text-align: center;">أطلق البالون</div> </div>
8- 9- 10-	(2) أجب : <div style="display: flex; justify-content: space-around;"> <div style="border: 1px solid black; padding: 5px;">نعم</div> <div style="border: 1px solid black; padding: 5px;">لا</div> </div> <div style="display: flex; justify-content: space-around; margin-top: 10px;"> <div style="border: 1px solid black; width: 150px; height: 20px;"></div> <div>- ربيعة ثمرمضن لئلا تحق بالونها.</div> </div> <div style="display: flex; justify-content: space-around; margin-top: 10px;"> <div style="border: 1px solid black; width: 150px; height: 20px;"></div> <div>- أطلق البالون إلى الأعلى.</div> </div> <div style="display: flex; justify-content: space-around; margin-top: 10px;"> <div style="border: 1px solid black; width: 150px; height: 20px;"></div> <div>- أطلق البالون إلى الأعلى.</div> </div>

2014/2013	تقديم مكسبات التلاميذ	المدرسة: بئر الشارف
	نهاية الثلاثي الثاني	السنة الاولى
	الإملاء	الاسم واللقب: .....

## أكمل الفقرة بالكلمات الناقصة:



الشَّمْسُ سَاطِعَةٌ فِي السَّمَاءِ  
وَسُمَيَّةٌ تَتَجَوَّلُ فِي الْبُسْتَانِ  
وَتَسْمَعُ زَقَزَقَةَ الْعَصَافِيرِ...

سُمَيَّةٌ تَرُكُضُ فِي أَرْكَانِ الْبُسْتَانِ  
وَفِي يَدَيْهَا شَبَكَةٌ وَعَلَى رَأْسِهَا مِظَلَّةٌ  
كَادَتْ سُمَيَّةٌ تُمَسِكُ فَرَّاشَةً...



### جدول العلام

الكلمات المصاح			الجمالية	وحدة الخط	
0			0	0	-
2	1		0.25	0.25	+
5	4	3	0.5	0.5	++
6			0.75	0.75	+++
8	7		1	1	++++



2014/2013	تليم مكسات اللامبل	المدرسة: بحر الشارف
	نهاية الثلاثي الثاني	السنة الاولى
	الإملاء	الاسم واللقب: .....

### أكمل الفقرة بالكلمات الناقصة:



الشَّمْسُ ..... فِي السَّمَاءِ  
و..... تَتَحَوَّلُ فِي .....  
وَتَسْمَعُ ..... الْعَصَافِيرُ...

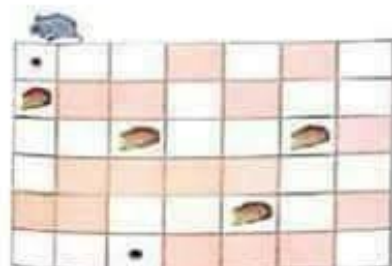
سُمَيَّةٌ ..... فِي أَرْكَانِ البُسْتَانِ  
و..... يَدِيهَا شَبَكَةٌ وَ..... رَأْسُهَا مِظْلَةٌ  
كَادَتْ سُمَيَّةُ تُمَسِكُ ..... ..



جدول العاير

الكلمات المصاير			الجدالة	وضع الخط	
0			0	0	-
2	1		0.25	0.25	+
5	4	3	0.5	0.5	++
6			0.75	0.75	+++
8	7		1	1	++++

## إختبار في مادة الرياضيات للفصل الثاني



## الوضعية الأولى :

- 1 - لون المسلك الذي سيتبعه القار انطلاقاً من النقطة الحمراء وصولاً إلى النقطة الخضراء ليأكل كل الجبن .
- 2 - مثل مسلك القار بأسهم .

## الوضعية الثانية :

أحسب ما يلي :

$60 + 5 = \dots$

$52 + 7 = \dots$

$40 + 9 = \dots$

$21 + 8 = \dots$

أحسب ما يلي :

$69 - 9 = \dots$

$40 - 10 = \dots$

$25 - 6 = \dots$

$10 - 5 = \dots$

## الوضعية الثالثة :

لاحظ الصور ثم اربط كل نشاط تقوم به بتوقيته المناسب .



## الوضعية الرابعة : لاحظ المثال واكمل ملأ الجدول :




20 دينار

35 دينار

50 دينار

25 دينار

الوضعية الإدماجية : بمناسبة عيد الشجرة تطوع سكان الحي لغرس 40 شجرة خوخ و 23 شجرة رمان .  
- احسب عدد الأشجار المغروسة .

- عدد الأشجار هو : .....

.....+.....=.....

بالتوقيع

إمضاء ولي الأمر

إختبار في مادة التربية المدنية للفصل الثاني

الوضعية الأولى : جاء ابن خالك ، ألقى عليك التحية قائلا :  
- لون البطاقة الصحيحة

السلام عليكم

مرحبا بكم

صباح الخير

رديت له التحية وقلت :

وعليكم المودة والمحبة

وعليكم السلام ورحمة الله وبركاته

وعليكم أيضا

الوضعية الثانية : (ملا بطاقتك المدرسية بالمعلومات المناسبة).

بطاقة مدرسية	
	الإسم : .....
	اللقب : .....
	تاريخ الميلاد : .....
	العنوان : .....

الوضعية الثالثة :

اكتب **نعم** تحت الصورة التي تعبر عن العطف والإحترام .


☐
☐
☐
☐

اربط الجملة بالعبارة المناسبة :

الوضعية الرابعة :

أعتر بعلم وطني

لا أحترم علم وطني

لا أعرف علم وطني

أنا تلميذ جزائري

بالتوفيق

إمضاء ولي الأمر

## تقويم في مادة التربية الإسلامية للفصل الثاني

## السند :

سالت المعلمة التلاميذ كل واحد يذكر لي عملاً جميلاً قام به يحبه الله ويحبه الناس

**أحمد :** كنت ماراً ورايت حجرة تتبع السيارات فأبعثتها عن الطريق

**هدى :** أنا وصديقاتي قمنا بتنظيف الحي

**بلال :** كنت جائع وممرت امام بستان جارنا فوجدت شجرة مليئة بالتمّاح فانتظرت حتى جاء جاري واستأذنت منه

ان اكل تمّاحة ففرح بي واعطاني الكثير

**طارق :** يوم الجمعة لبست ثياباً جديدة وذهبت باكراً الى المسجد فحفظت سورة الاخلاص و سورة الناس

**محفوظ :** أنا وجدت قطعة صغيرة مصابة عالجتها واطعمتها

**المعلمة :** يارك الله فيكم ياولادي

**التعليمة الاولى :** اربط اسم التلميذ بالعمل الذي قام به



طارق

بلال

أحمد

هدى

**التعليمة الثانية :** اكمل سالي : الغنطهرين - المسلم - الايمان

❖ النظافة من .....

❖ اللهم اجعلني من التوابين واجعلني من .....

❖ الاستبذان من اداب .....

**التعليمة الثالثة :** اللون باللون الاحمر التصرف الخاطي بالرفق بالحيوان



**التعليمة الثالثة :** يختار ورقة ويستظهر السورة المكتوبة عليها : سورة الاخلاص سورة الناس سورة الملق

بالتوقيع

إمضاء ولي الأمر



إختبار في مادة اللغة العربية للفصل الثاني

الوضعية الأولى : إربط بين الصورة والعبارة :



جولة إلى الغابة

مدرستي

رياضتي المفضلة

عائلتي العزيزة

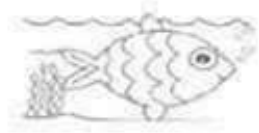
في الحقل

ط - ض - ع - د

ط - خ - ف

ع - ك - س

ط - ك - ع



الوضعية الثالثة : إستعمل (أنا ، أنت ، هذه) في كل جملة .

.....، تساعد صديقك.



.....، معلمي



.....، إسمي أحمد .



الوضعية الرابعة : إبحث عن كلمات فيها الحروف التالية :

ش	ق	ز	خ
.....	.....	.....	.....

الوضعية الإبداعية: كنت في الحقل مع جدك ، أفقدم لك فسيلة ، رتب خطوات غرسها وكون فقرة قصيرة .

.....

.....

.....

.....

- مراقبة نمو الشجرة .

- حفر التربة بالفأس .

- غرس الشجيرة .


بالتوقيع

إمضاء ولي الأمر



تقويم في مادة التربية العلمية للفصل الثاني

**السند** لاحظ الصورة جيدا :



أخذ الأب أحمد وخديجة إلى حديقة الحيوانات رات **خديجة** قطعة فهدات تلعب معها اما **أحمد** فرأى اسدا فاقترب منه . قال **الأب** احترس يا أحمد انه مقترب .  
**خديجة** : انظر يا أبي انها بيضة كبيرة لمن هذه البيضة يا أبي ؟  
 قال **أحمد** : ما اكبرها ربعا هي للزرافة ضحك **الأب** وقال الزرافة نكد يابني ولا تبعض .

**التعليمة الاولى :**

• اللون الحيوانات المفترسة **الاحمر** والحيوانات الاليفة **بالاخضر**

• احوط على الحيوانات التي تبعض فقط

• لاحظ الحيوانات التي في الصورة مسمى 1..... 2..... 3.....  
**التعليمة الثانية :** لاحظ الصور الأربع رتب سرعة نبضات القلب لكل شخص في الصورة داخل الدائرة من الاسرع نبض الى اقلهم نبض



**التعليمة الثالثة :** لاحظ الصور ولون البطاقة الدالة على التصرف الحسن



**التعليمة الرابعة :** ماهي فوائد الشجرة او ماذا تعطينا الشجرة انكر ثلاث فوائد للشجرة فقط كلمات

- 1- .....
- 2- .....
- 3- .....

السنة الدراسية : 2017 / 2018

مدرسة : .....

الاسم واللقب : .....

السنة الأولى ابتدائي

نقويم في مادة التربية المدنية للفصل الثاني

السند :

لما عاد احمد من المدرسة سألته خديجة : كيف كان يومك الاول  
احمد : استمعنا الى النشيد الوطني وكان العلم والوطني يرفرف ماجمل الوانه الثلاثة  
الام : ماذا قالت لكم المعلم  
احمد : حدثتنا عن نحترم والدينا ومعلمتنا و منهم اكبر منا  
التعليمة 1 : اقرا الجملة واربطها مع الصورة المناسبة



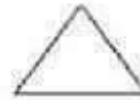
أحترم الكبير في المدرسة

أحترم الكبير في الشارع

أحترم الكبير في المنزل

2 - احوط على الصورة التي لا يحترم فيها الكبير

التعليمة 2: احوط على الاشكال والالوان الموجودة في العلم



التعليمة 3: اقرا الكلمة والون البطاقة التي يرفع العلم الوطني فوقها

شُرْطَة

حَمَام

بَلَدِيَّة

مَسْجِدُ

مَدْرَسَة





بالتوقيع

امضاء ولي الأمر

## إختبار في مادة التربية الإسلامية للفصل الثاني

**الوضعية المركبة :** ذهب جدك إلى الحج ، ولما عاد إستقبلته بفرح وسرور ، فقال لك : أتمنى أن تزور الحج يوما . أجبت : أنت رابع يا جدي وأريد أن أصبح صالحا مثلك فكيف أفعل ؟. أجابك الجد : إذا أتبت تعاليم ديننا الحنيف وسيرة نبينا الحبيب صلى الله عليه وسلم فزت بالجنة .  
 - هل أنت مستعد لذلك ؟ - أجب عن الأسئلة إذن :  
**الوضعية الأولى :** إملأ الفراغ بالكلمة المناسبة : المتطهرين ، الطريق ، التحية ، أستأذن .  
 أنا مسلم أبعد الأذى عن ..... وأرد ..... على غيري ، و ..... ولما أطلب الكلمة ، وأتظهر دالما لأن الله يحب .....

**الوضعية الثانية :** أجب ب صحيح أو خطأ .  
 - لا أطيع أبي وأمي لأنهما لم يتعيا من اجلي (.....)  
 - الطفل الصادق يحبه الله ويحبه الناس (.....).  
 - أستأذن إحتراما للآخرين (.....)  
 - لا أحافظ على طهارة ثيابي لأن الله لم يأمرني بذلك (.....)  
 - إبعاد الأذى عن الطريق معصية لله تعالى (.....)  
 - نعبد الله ونحبه وبه نستعين (.....)  
**الوضعية الثالثة :** لون القرص الذي يدل على تصرفات صحيحة .



**الوضعية الإنماجية :** أربط بين الآية الكريمة والصورة التي تحتويها .

سورة الفاتحة

سورة الناس

سورة الإخلاص

سورة الفلق

• من شر ما خلق

• ملك يوم الدين

• ملك الناس

• قل هو الله أحد



## إختبار في مادة التربية العلمية للفصل الثاني

**الوضعية الأولى :** اكمل الفراغ بالكلمة المناسبة : **السكر ، اغذيتي ، صحتي** .  
لأحافظ على ..... ، أنواع من ..... ، ولا أكثر من تناول الأغذية المصنوعة من .....

**الوضعية الثانية :** اكتب بوضع (ص) أو (خ).  
- يدخل الهواء من الجسم عن طريق الأنف والفم (.....).  
- أنتقل مشيا أو جريا أو قفزا (.....).  
- لا ينتش جسمي في الركبة (.....).  
- أكثر من أكل الحلوى والشكولاتة (.....).  
- الزيتون مصدره حيواني (.....).  
- البرتقال مصدره نباتي (.....).  
**الوضعية الثالثة :** ذهبت إلى حديقة الحيوانات برفقة عائلتك وشاهدت حيوانات كثيرة .  
- صنّف هذه الحيوانات بوضع أليف أو متوحش تحت كل صورة .



**الوضعية الرابعة :** ذهبت نهلة إلى خم الدجاج ورات دجاجة تحضن بيضها ، فسألت أمها :  
- لماذا تحضن هذه الدجاجة بيضها يا أمي ، فقالت الأم : هناك يا بنيتي حيوانات تبيض مثل هذه الدجاجة  
وهناك من تلد ضغارها . - لون الحيوانات الببوضة بالبنّي والحيوانات الولودة بالأزرق



أرّبط الصورة بالبطاقة المناسبة .

**الوضعية الرابعة :**



ورود

عشب

نخيل

شجيرة

نواع

بالتوفيق

إمضاء ولي الأمر

السنة الدراسية : 2017 / 2018

مدرسة : .....

الإسم واللقب : .....

السنة الأولى ابتدائي

### إختيار في مادة اللغة العربية للفصل الثاني

**التعليمية الاولى :** يطلب المعلم من التلاميذ ملاحظة الصورة وربط البطاقة بالمشهد المناسب انطلاقا من النصوص المقررة في حصص القراءة يجيب التلميذ :



رفع اخذ فزاعة الى الاغلي

خرجت العائلة في نزهة الى الغابة

نظم الاصطفاء غباراة في غرة القدم

**التعليمية الثانية :** اكتب الكلمة المناسبة اسفل الصورة



**التعليمية الثالثة :** اللون بطاقتين لاجون كلمة واكتبها في النقط

م

جَم

ل

ضَبَا

ب

قَل

**التعليمية الرابعة :** اكتب هنا او هناك



سيارة



زهرة

**التعليمية الخامسة :** املاء نعت تلميذ مهذب و متجهد و نشيط


بالتوفيق

امضاء ولي الأمر



## إختبار في مادة الرياضيات للفصل الثاني

**النشاط الأول : 2 ن**  
 بمناسبة عيد ميلاده دعا احمد اصقافه وزينوا قاعة الاحتفال  
 ✶ انازل المشهد :  
 ✶ اللون الالطفال الذين هم على استقامة واحدة  
 ✶ احسب البالونات واكتب العدد



ع	و

**النشاط الثاني : 1.5 ن** اللون الاجابة الصحيحة


50	أكبر من	50
	اصغر من	
	تساوي	

25	أكبر من	35
	اصغر من	
	تساوي	

10	أكبر من	8
	اصغر من	
	تساوي	

**النشاط الثالث : 1.5 ن** اعد واكمل العملية

أعمل العملية:



..... + ..... = .....

5 + 3 = ..

4 + 2 = ..

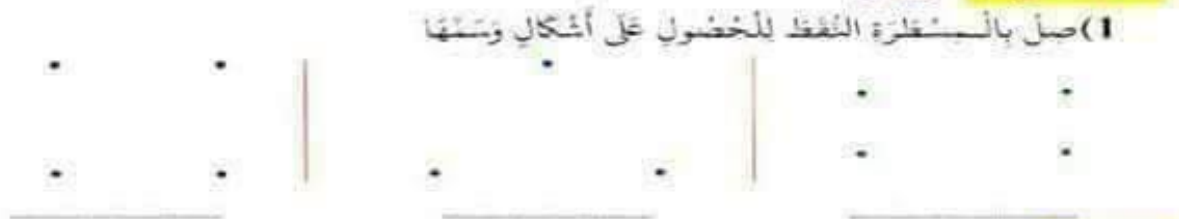
**النشاط الرابع : 2 ن** اكمل المتتالية :

.. → .. → 10

.. → 35 → ..

**النشاط الخامس : 1.5 ن**

1) صل بالخطرة النقط للخطوط على أشكال وسمها



**ابحث : 1.5 ن**

غرس رجل 10 أشجار من التفاح و 7 أشجار من الخوخ  
 ✶ ما هو عدد الاشجار التي غرسها الرجل اللون الاجابة الصحيحة

10 + 7 = 17
-------------

10 - 7 = 3
------------

السنة الدراسية : 2017 / 2018

مدرسة : .....

الإسم واللقب : .....

السنة الأولى ابتدائي

### إختيار في مادة اللغة العربية للفصل الثاني

**التعليمية الاولى :** يطلب المعلم من التلاميذ ملاحظة الصورة وربط البطاقة بالمشهد المناسب انطلاقا من النصوص المقررة في حصص القراءة يجيب التلميذ :



رفع اخذ فزاعة الى الاغلي

خرجت العائلة في نزهة الى الغابة

نظم الاصطفاء غباراة في غرة القدم

**التعليمية الثانية :** اكتب الكلمة المناسبة اسفل الصورة



**التعليمية الثالثة :** لون بطاقتين لاجون كلمة واكتبها في النقط

م

جَم

ل

ضَبَا

ب

قَل

**التعليمية الرابعة :** اكتب هنا او هناك



سيارة



زهرة

**التعليمية الخامسة :** املاء نعت تلميذ مهذب و منجهد و نشيط

بالتوفيق

امضاء ولي الأمر

السنة الدراسية : 2017 / 2018

مدرسة : .....

الإسم واللقب : .....


السنة الأولى ابتدائي

إختبار في مادة التربية التشكيلية والفنية للفصل الثاني

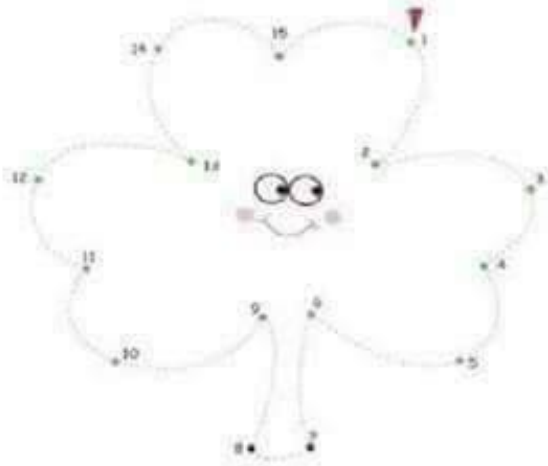
أختر نشاط واحد من بين النشاطان :

النشاط الأول :

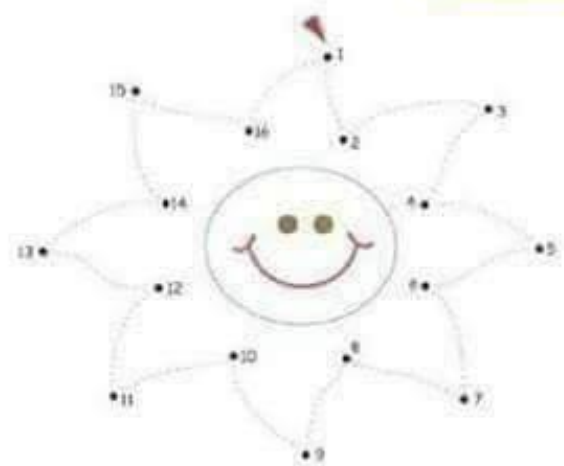
خرجت برفقة عائلتك في جولة إلى الغابة ، فاستمتعت و شاهدت المناظر الطبيعية الجميلة .  
- لونها بالالوان المناسبة .



النشاط الثاني : صل بين النقاط لتحصل على هذه المناظر الطبيعية الجميلة ثم لونها بما يناسب .



بالتوفيق



إمضاء ولي الأمر



السنة الدراسية : ..... / .....  
القسم : السنة الأولى ابتدائي  
يوم : .....

مدرسة : .....  
الأستاذ (ة) : .....  
اسم التلميذ : .....

## اختبار الفصل الثاني في مادة التربية الإسلامية

1 أربط الصورة المناسبة بالعبارة التي أقولها. (2)



السلام عليكم

أخفّ الله

بسم الله

2 أضع حرف (ص) للتصريف الصحيح و حرف (خ) للتصريف الخاطئ. (2)



( ..... )

( ..... )

( ..... )

( ..... )

3 أضع دائرة حول الاسم الذي يجب طاعته. (1.5)

- الأُم - الشيطان - الله تعالى - الشخص المؤذي - الرسول صلى الله عليه و سلم

4 أرّب أركان الإسلام من 1 إلى 5 حسب ما وردت في الحديث النبوي. (2.5)

صَوْمُ رَمَضَانَ

إِقَامُ الصَّلَاةِ

إِيثَاءُ الزَّكَاةِ

اِشْهَادَانِ

حُجُّ الْبَيْتِ



5 أكمل السورة بوضع كُن كلمة في مكانها المناسب: (كَلِمَاتُ - يُؤَلِّدُ - اللَّهُ - الصَّفَدُ ) (2)

« قُلْ هُوَ ..... أَحَدٌ ① اللَّهُ ..... ② لَمْ يَلِدْ وَلَمْ ..... ③  
و لَمْ يَكُنْ لَهُ ..... أَحَدٌ ④ »

السنة الدراسية : ..... / .....  
القسم : السنة الأولى ابتدائي  
يوم : .....

مدرسة : .....  
الأستاذ (ة) : .....  
اسم التلميذ : .....

## إختبار الفصل الثاني في التربية الإسلامية

السؤال الأول: أكمل الآية:

قال الله تعالى: ﴿ إن الله يحب ..... ﴾

السؤال الثاني: اربط بخط بين الآية وسورتها:

- |                          |              |
|--------------------------|--------------|
| 1. لم يلد ولم يولد       | سورة الفلق   |
| 2. اهدنا الصراط المستقيم | سورة الناس   |
| 3. ومن شر غاسق إذا وقب   | سورة الإخلاص |
| 4. من شر الوسواس الخناس  | سورة الفاتحة |

السؤال الثالث: املأ الفراغ بما يناسب:

( طاهر - المتطهرين - المكان - أركان - الآخرين - الخمسة )

- الاستئذان هو احترام .....
- المسلم ..... الجسم والثوب و..... لأن الله يحب .....
- الصوم من ..... الإسلام .....

السؤال الرابع: رتب ألفاظ الشهادتين :

محمدًا	لا إله	أشهد أن	إلا الله	رسول الله	وأشهد أن
--------	--------	---------	----------	-----------	----------



السنة الدراسية : ..... / .....  
القسم : السنة الأولى ابتدائي  
يوم : .....

مدرسة : .....  
الأستاذ (ة) : .....  
اسم التلميذ : .....

## اختبار الفصل الثاني في مادة التربية العلمية

### التمرين الأول ( 02.5 ن ):

اربط بين كل عضو وحاسته

العَيْنُ	الأذنُ	الأنفُ	اللسانُ	اليَدُ
الدُّوقُ	اللمسُ	الرؤيةُ	السمعُ	الشمُّ

### التمرين الثاني ( 02.5 ن ):

أميز مصادر هذه الأغذية بتلوينها: بالأخضر إذا كان المصدر نباتيا و بالأحمر إذا كان المصدر حيوانيا



### التمرين الثالث ( 02.5 ن ):

أصنف الأجسام الآتية في الجدول :

مِسْمَارٌ - ثِقَاحَةٌ - مِقْصٌ - سِكِّينٌ - كُرَةٌ

تطفو فوق الماء	لا تطفو فوق الماء

### التمرين الرابع ( 02.5 ن ):

أضع ( يَتَكَرَّرُ - لا يَتَكَرَّرُ ) أمام كل حدث :

- |                     |                   |
|---------------------|-------------------|
| * عيد الميلاد ..... | * عيد الفطر ..... |
| * الموت .....       | * الختان .....    |
| * الدراسة .....     |                   |

السنة الدراسية : ..... / .....  
القسم : السنة الأولى ابتدائي  
يوم : .....

مدرسة : .....  
الأستاذ (ة) : .....  
اسم التلميذ : .....

### إختبار الفصل الثاني في مادة التربية العلمية

السؤال الأول: اربط بين الحاسة ووظيفتها:

العين	التذوق
الأذن	اللمس
الأنف	الرؤية
اللسان	السمع
اليـد	الشم

السؤال الثاني: ضع الكلمات التالية في المكان المناسب ( يذوب - الحرارة - سائل ):

- يتحول الجليد بفعل ..... إلى ماء.
- ..... الثلج بفعل الحرارة.
- تتحول الزبدة بفعل الحرارة إلى .....

السؤال الثالث : اكتب (ص) أو (خ) أمام كل جملة:

- القطعة النقدية تغوص في الماء (.....)
- الأجسام السائلة لا يمكن مسكها (.....)
- الهواء لا لون له (.....)
- قلبي ينبض باستمرار دون توقف (.....)

السؤال الرابع: صنف الأشياء التالية في الجدول: البطاطا - الخشب - قطعة نقدية -

الورقة - الزهرة - الحصى.

تطفو فوق الماء	لا تطفو فوق الماء

السنة الدراسية : ..... / .....  
القسم : السنة الأولى ابتدائي  
يوم : .....

مدرسة : .....  
الأستاذ (ة) : .....  
اسم التلميذ : .....

### إختبار الفصل الثاني في مادة التربية العلمية

السؤال الأول: اربط بين الحاسة ووظيفتها:

العين	التذوق
الأذن	اللمس
الأنف	الرؤية
اللسان	السمع
اليـد	الشم

السؤال الثاني: ضع الكلمات التالية في المكان المناسب ( يذوب - الحرارة - سائل ):

- يتحول الجليد بفعل ..... إلى ماء.
- ..... الثلج بفعل الحرارة.
- تتحول الزبدة بفعل الحرارة إلى .....

السؤال الثالث : اكتب (ص) أو (خ) أمام كل جملة:

- القطعة النقدية تغوص في الماء (.....)
- الأجسام السائلة لا يمكن مسكها (.....)
- الهواء لا لون له (.....)
- قلبي ينبض باستمرار دون توقف (.....)

السؤال الرابع: صنف الأشياء التالية في الجدول: البطاطا - الخشب - قطعة نقدية -

الورقة - الزهرة - الحصى.

تطفو فوق الماء	لا تطفو فوق الماء

السنة الدراسية : ..... / .....  
القسم : السنة الأولى ابتدائي  
يوم : .....

مدرسة : .....  
الأستاذ (ة) : .....  
اسم التلميذ : .....

## امتحان الفصل الثاني في مادة التربية العلمية

### السؤال الأول:

أكتب صلب أو سائل تحت الكلمات التالية:

مسطرة ماء حجز حليب

.....

### السؤال الثاني:

أجيب بـ: صحيح أو خطأ

- أرى بعيني (.....).

- قلبي يدق في النهار فقط (.....).

- يبدأ النهار بشروق الشمس (.....).

- الحليب غذاء نباتي (.....).

### السؤال الثالث:

أكتب اليوم الذي يسبق والذي يلي :

الأمس	اليوم	الغد
.....	الاثنين	.....

### السؤال الرابع:

يتكوّن اليوم من ..... و.....

يبدأ النهار بـ..... الشمس وينتهي بـ.....

السنة الدراسية : ..... / .....  
القسم : السنة الأولى ابتدائي  
يوم : .....

مدرسة : .....  
الأستاذ (ة) : .....  
اسم التلميذ : .....

### اختبار الفصل الثاني في مادة التربية الإسلامية

التمرين الأول: اربط السورة بما يناسبها.

سورة الناس	قل أعوذ برب الفلق
سورة الفلق	قل أعوذ برب الناس
سورة الإخلاص	الحمد لله رب العالمين
سورة الفاتحة	قل هو الله أحد

التمرين الثاني: ضع (ص) تحت أركان الإسلام.

الشهادتان	التعلم	إقام الصلاة	صوم رمضان	التعاون	حج البيت	إيتاء الزكاة
.....	.....	.....	.....	.....	.....	.....

التمرين الثالث: ضع (ص) أو (خ).

❖	<input type="radio"/>	استحَمَ مرّة واحدة في السنة
❖	<input type="radio"/>	العلم نور
❖	<input type="radio"/>	القرآن كلام الله
❖	<input type="radio"/>	أركان الإسلام ستة

التمرين الرابع: رتب كلام الله تعالى في سورة الإخلاص:

الله الصمد      قل هو الله أحد      ولم يكن له كفوا أحد      لم يلد و لم يولد



السنة الدراسية : ..... / .....  
القسم : السنة الأولى ابتدائي  
يوم : .....

مدرسة : .....  
الأستاذ (ة) : .....  
اسم التلميذ : .....

## اختبار الفصل الثاني في مادة التربية المدنية

1- اربط كل صورة بما يناسبها :



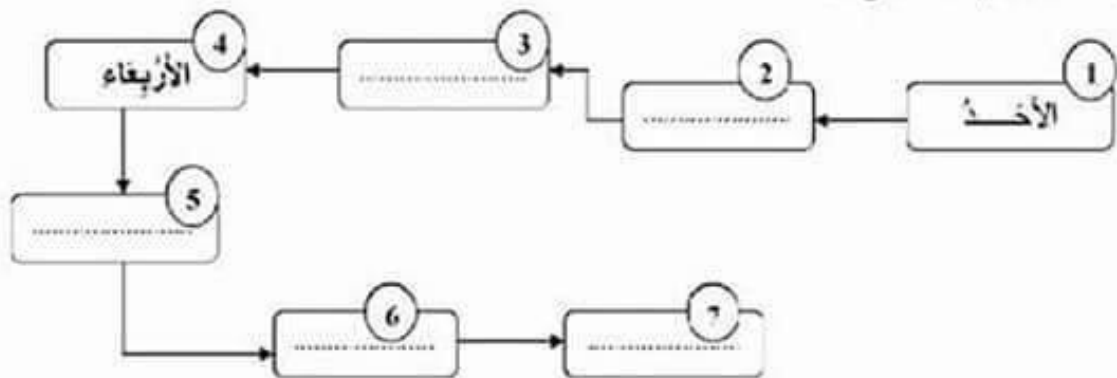
لغزسة

المستشفى

الخبز

الدَفْتر العائلي

2- اكمل ايام الاسبوع :



3- اضع كل كلمة في مكانها المناسب : الجَزَار - الخَبَاز - الخَضَار

- \* أَشْتَرِي الخُبْزَ من عِنْد .....
- \* أَشْتَرِي اللَّحْمَ من عِنْد .....
- \* أَشْتَرِي الخَضَرَ من عِنْد .....

السنة الدراسية : ..... / .....  
القسم : السنة الأولى ابتدائي  
يوم : .....

مدرسة : .....  
الأستاذ (ة) : .....  
اسم التلميذ : .....

### اختبار في مادة التربية المدنية

التمرين الأول : ضع علامة ( > ) في المكان المناسب .

عيد ديني	عيد وطني	
		عيد الثورة 1 نوفمبر
		عيد الأضحى المبارك
		عيد المولد النبوي الشريف
		عيد الاستقلال 5 جويلية

التمرين الثاني : أُنظِّبُ الصُّورَ الدَّالَّةَ عَلَى تَبْذِيرِ الْمَاءِ .



التمرين الثالث : ضع كل كلمة في مكانها المناسب لها

( حفظ - واجب - نشيد )

لِكُلِّ بَلَدٍ ..... وَطَنِي ، ..... النشيد الوطني مَقْدَسٌ

التمرين الرابع : لَوْنُ الْعَلَمِ الْوَطَنِيِّ



بالتوفيق

السنة الدراسية : ..... / .....  
القسم : السنة الأولى ابتدائي  
يوم : .....

مدرسة : .....  
الأستاذ (ة) : .....  
اسم التلميذ : .....

## اختبار الفصل الثاني في مادة التربية المدنية

1- اربط كل صورة بما يناسبها :



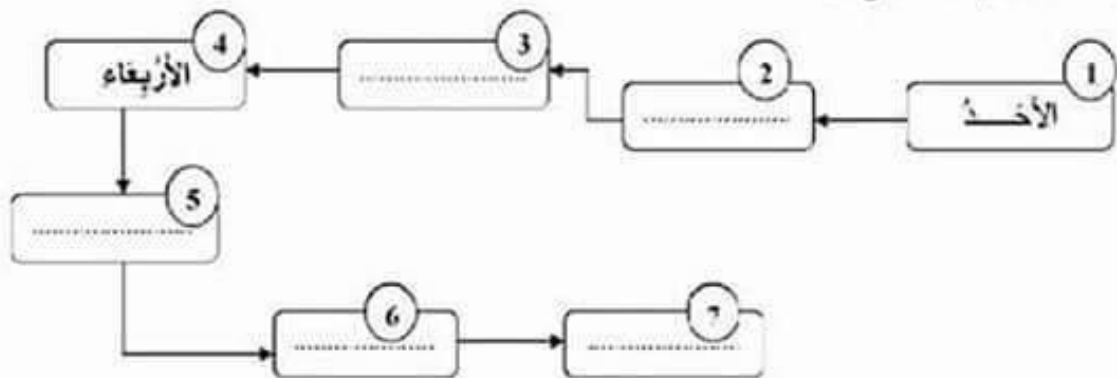
لغزسة

المستشفى

الخبز

الدَفْتر العائلي

2- اكمل ايام الاسبوع :



3- اضع كل كلمة في مكانها المناسب : الجَزَار - الخَبَاز - الخَضَار

- \* أَشْتَرِي الخُبْزَ من عِنْد .....
- \* أَشْتَرِي اللَّحْمَ من عِنْد .....
- \* أَشْتَرِي الخَضَرَ من عِنْد .....

السنة الدراسية : ..... / .....  
 القسم : السنة الأولى ابتدائي  
 يوم : .....

مدرسة : .....  
 الأستاذ (ة) : .....  
 اسم التلميذ : .....

### اختبار الفصل الثاني في مادة التربية المدنية

#### (1) إليك أيام الأسبوع

السبت	الأحد	الاثنين	الثلاثاء	الأربعاء	الخميس	الجمعة
-------	-------	---------	----------	----------	--------	--------

- لون يوم الراحة الأسبوعية بالأحمر.
- لون اليوم الأول من أيام الدراسة الأسبوعي بالأصفر.
- لون اليوم الذي تمارس فيه الرياضة بالأخضر.

#### (2) شطب على الأدوات الخطيرة:



#### (3) اربط الوثيقة بمكان استخراجها :

● المدرسة

● دار البلدية

● المستشفى





السنة الدراسية : ..... / .....  
القسم : السنة الأولى ابتدائي  
يوم : .....

مدرسة : .....  
الأستاذ (ة) : .....  
اسم التلميذ : .....

## امتحان الفصل الثاني في التربية العلمية والتكنولوجية

التمرين الأول : أربط بين كل عضو وخصته



الرؤية

اللمس




الشم

السمع

الدوق

التمرين الثاني :

ألون القرص بالأزرق اذا كان الجسم سائلا أو ألونه بالأحمر اذا كان صلبا.



التمرين الثالث:

أرتب الوجبات الغذائية اليومية بوضع 1- 2- 3- 4 مكان النقط :

لُحْمَة

( ... )

عَشَاء

( ... )

فَطُور

( ... )

غَدَاء

( ... )

السنة الدراسية: ..... / .....  
القسم: السنة الأولى ابتدائي  
يوم: .....

مدرسة: .....  
الأستاذ(ة): .....  
اسم التلميذ: .....

### اختبار في مادة التربية العلمية والتكنولوجية

التمرين الأول: ألون بالأحمر قرص الجسم الذي يطفو و بالأصفر قرص الجسم الذي لا يطفو



التمرين الثاني: أرّتب الوجبات الغذائية اليومية من 1 إلى 4:

لمجة  
(...)

عشاء  
(...)

فطور  
(...)

غداء  
(...)

التمرين الثالث: اضع العلامة x أمام كل حدث يتكرر في اليوم:

..

تناول الأكل

..

عيد الميلاد

..

الذهاب إلى المدرسة

..

الاحتفال بالمولد النبوي الشريف

..

التفرُّج على التلفاز

..

النوم

التمرين الرابع: ألون بطاقات الأجسام الصلبة التي تتحول إلى أجسام سائلة بفعل الحرارة



السنة الدراسية : ..... / .....  
القسم : السنة الأولى ابتدائي  
يوم : .....

مدرسة : .....  
الأستاذ (ة) : .....  
اسم التلميذ : .....

### اختبار شهر فيفري في التربية العلمية والتكنولوجية

التمرين الأول: أضع (صلب) أو (سائل) تحت الكلمات التالية:

مكتب	عسل	مسطرة	حليب	طباشير	ماء
<input type="text"/>	<input type="text"/>	<input type="text"/>	<input type="text"/>	<input type="text"/>	<input type="text"/>

التمرين الثاني: أصنف الغذاء حسب مصدره.

الخبز - البيض  
الحليب - التفاح  
الماء - الملح

مصدر حيواني	مصدر نباتي	مصدر معدني
<input type="text"/>	<input type="text"/>	<input type="text"/>
<input type="text"/>	<input type="text"/>	<input type="text"/>
<input type="text"/>	<input type="text"/>	<input type="text"/>

التمرين الثالث: ضع (ص) أو (خ).

- ☐ أتنفس بمعدتي.
- ☐ أنام طول النهار.
- ☐ الختان حدث لا يتكرر.
- ☐ لون الهواء أبيض.

السنة الدراسية : ..... / .....  
 القسم : السنة الأولى ابتدائي  
 يوم : .....

مدرسة : .....  
 الأستاذ (ة) : .....  
 اسم التلميذ : .....

## اختبار الفصل الثاني في الرياضيات

التمرين الأول: ألاحظ الشريط وأكمل

10	20	..	..	..	..	..	..	..
----	----	----	----	----	----	----	----	----

التمرين الثاني: أقارن ثم ألون الخانة المناسبة.

43	أكبر من	43+0
	أصغر من	
	يساوي	

35	أكبر من	59
	أصغر من	
	يساوي	

75	أكبر من	57
	أصغر من	
	يساوي	

التمرين الثالث: ألاحظ ثم أكمل المتتالية.

..	33	..
----	----	----

57	..	
----	----	--

..	..	78
----	----	----

التمرين الرابع: أبسط الكتابات الجمعية.

$$\begin{array}{c} 2 + 5 + 3 + 7 \\ \swarrow \quad \searrow \quad \swarrow \quad \searrow \\ \cdot \quad + \quad \cdot \\ \swarrow \quad \searrow \\ \cdot \end{array}$$

$$\begin{array}{c} 9 + 10 + 10 \\ \downarrow \quad \swarrow \quad \searrow \\ \cdot \quad + \quad \cdot \\ \swarrow \quad \searrow \\ \cdot \end{array}$$

$$\begin{array}{c} 5 + 5 + 10 \\ \swarrow \quad \searrow \quad \downarrow \\ \cdot \quad + \quad \cdot \\ \swarrow \quad \searrow \\ \cdot \end{array}$$



السنة الدراسية : ..... / .....  
القسم : السنة الأولى ابتدائي  
يوم : .....

مدرسة : .....  
الأستاذ (ة) : .....  
اسم التلميذ : .....

### امتحان شهر مارس في الرياضيات

1 املأ الجدول ثم أكمل كل مساواة:

+	6	3
5	.	.
4	.	.

$5 + 6 = .$

$4 + 6 = .$

$5 + 3 = .$

$4 + 3 = .$

2 : لاحظ و أصل بسهم :

25

13

20

15

3+10

5+20

5+10

10+10

3 أرتب الأعداد الآتية من الأصغر إلى الأكبر:

27-19-21-22-26-28-29-24-25-23-29

19	.	.	.	.	.	.	.	.	.	.
----	---	---	---	---	---	---	---	---	---	---

4 : أعد ثم أكمل كتابة العدد داخل الجدول:

ع	ا
.	.



السنة الدراسية : ..... / .....  
القسم : السنة الأولى ابتدائي  
يوم : .....

مدرسة : .....  
الأستاذ (ة) : .....  
اسم التلميذ : .....

## اختبار الفصل الثاني في مادة اللغة العربية

1- اضع كل كلمة في مكانها المناسب حسب الحرف :

فراشة - سأل - قطار - سقط - يفوز - منزر - مكتب - محرك

ك	ف	أ	ق
.....	.....	.....	.....
.....	.....	.....	.....

2- ركب من هذه الحروف كلمات :

مض ب ر	ك ف ة س	مخ ظ ف ة	م ص ف
.....	.....	.....	.....

3- أكمل الحرف الناقص :



...نمة



...احة



...ذع



...عبان



...ماتة

4 - أنقل الجملة : في مكتب البريد شبابيك كثيرة .

---

---

---

---

السنة الدراسية : ..... / .....  
القسم : السنة الأولى ابتدائي  
يوم : .....

مدرسة : .....  
الأستاذ (ة) : .....  
اسم التلميذ : .....

## إختبار الفصل الثاني في مادة اللغة العربية

**التمرين الأول:** أكوّن جملاً باستعمال الكلمات التالية (المطبخ، مثل، بصعوبة).

.....  
.....

**التمرين الثاني:** أربط كل عبارة بما يناسبها:

خيّام البَنُو      في المدينة.  
عمارات عالية      في الريف.  
حقول ومزارع      في الصحراء.  
**التمرين الثالث:** اضع كل كلمة في مكانها المناسب:  
ذلك \_ ذاك \_ الجائزة \_ السكر \_ حكي \_ سمكة.

كلمة فيها الـ الشمسية	كلمة فيها تنوين	كلمة فيها الشدة	كلمة فيها ألف مقصورة	كلمة فيها ألف محذوفة	كلمة فيها الـ القمرية
.....	.....	.....	.....	.....	.....

**التمرين الرابع:** أرّتب الكلمات وأكوّن جملة:

الفلاح \_ الفاكهة \_ يقطعُ \_ يبيعها \_ ثم.

.....

وسائل النقل الحديثة	وسائل النقل القديمة
.....	.....
.....	.....

**التمرين الخامس:** ضع كل وسيلة في مكانها المناسب:

(العربة، الطائرة، الجمل، السفينة).

**التمرين السادس:** أربط بما يناسب:

التلاميذ      يلعبان بالكرة.  
الولدان      يجتهدون في دروسهم.  
الأم      تعطف على أبنائها.

السنة الدراسية : ..... / .....  
القسم : السنة الأولى ابتدائي  
يوم : .....

مدرسة : .....  
الأستاذ (ة) : .....  
اسم التلميذ : .....

## إختبار الفصل الثاني في مادة اللغة العربية

اقرأ:

1

خَرَجَتِ الْعَائِلَةُ إِلَى الْبُسْتَانِ، وَغَرَسَ الْأَبُ شَجِيرَةَ الْبُرْتُقَالِ،  
وَقَطَعَتِ الْأُمُّ الْأَزْهَارَ، وَنَقَتِ مَنَى الْوُرُودَ.

2

استعمل ( أنا - أنت - هو - نحن ) مع كل جملة:

- ..... يَلْعَبُ بِالْكُرَةِ.
- ..... أَحْبَبْتُ كُرَةَ الْقَدَمِ.
- ..... نَسَقِي الْأَشْجَارَ.
- ..... تَكْتُبُ جَيِّدًا.

3

اربط البطاقة مع الصورة المناسبة:



دَرَجَةٌ

عَنْبٌ

عَيْنٌ

أَسَدٌ

4

ارتب الحروف واكون كلمة صحيحة:



ر - ك - س ي

ط - ق - ر

ر - د - ة - و

5

أعيد كتابة الجملة:


سَاعِدِ الْأَبَ رِضًا عَلَى غَرْسِ الْأَشْجَارِ



مدرسة : ..... السنة الدراسية : 2018 / 2019  
اللقب والإسم : ..... المستوى الدراسي : السنة الأولى ابتدائي

### إختبار في مادة اللغة العربية للفصل الثاني

التمرين الأول 1.5 نقطة استعن بالصّور وأضغ كل كلمة مما يأتي في مكانها المناسب :  
بنّ ، أمام ، وراء



الخروف ..... الولد

البنّث ..... الولد

الولد ..... الخروف والبنّث

أضغ كل كلمة في الفراغ المناسب مما يأتي: نحن ، أنا ، نحن ، أنت  
..... نخترّم الكبير .  
..... نحبّين الدراسة .  
..... أطيع والذي .

التمرين الثاني 2 نقطتين: أكتب الحرف المناسب لأحصل على كلمة مفيدة :

لِبـ.....

قـ.....

حـ.....

خـ.....

التمرين الثالث 1.5 نقطتين استع وأكتب

التمرين الرابع 2 نقطتين: أتمم الجملة بخط واضح جميل :

الولد النظيف يكون طاهر الثياب والبدن والمكان.

---

---

---

---

التمرين الخامس 3 نقط : أرتب الكلمات لأحصل على جملة مفيدة :

فصل

تصبح

خلابة

في

الطبيعة

الربيع

.....

بالتوفيق

السنة الدراسية : 2018 / 2019

مدرسة :

المستوى الدراسي : السنة الثانية ابتدائي

اللقب والاسم :

## إختبار في مادة اللغة العربية للفصل الثاني

النص :

حزن الأب شجرات في حديقة البيت ، وكان يغطي بها و يزرع عليها الحيتات الصغار فلما له سهام :  
أراك دائم الإعتناء بهذه الشجرات يا أبي .  
الأب : أغشى بها لألها تغطي لنا الفواكه ، ولها فرائد أخرى ، فهي تغطينا الثمار ، و الظل  
و الحطب و تزين الطبيعة .

### الأسئلة

1- اقرأ وأجب :

- ضع سطرا تحت العنوان الصحيح :
- ذكر الأب فوائد الشجرة . ماذا قل ؟
- فوائد الشجرة - حديقة الحيوانات

2- لون مرادف كلمة ( يعتني )

قطعها

يزرعها

3- أوظف الصيغ :

- املأ الفراغ بالصيغ المناسبة : هذه - هؤلاء - بين - لم
- يزرع نرؤسه . يوجد مثلنا . المسجد و المدرسة
- شجرة المنرو . اللآخون يعملون بجد .

- ضع الضمير المناسب مكان النقط : أنت - نحن - أنتم - أنتن
- حافظنا على الأمانة . حافظت على الأمانة .
- حافظتم على الأمانة . حافظتن على الأمانة .

4- الوضعية الانماجية : أكمل بناء النص : الحيوانات - كثيفة - يحافظ - الأشجار

- هذه غابة . ثبتت فيها أصناف من . وتأوي إليها أنواع
- من . البرية ، من واجب الإنسان أن . عليها .

بالتوفيق

السنة الدراسية : ..... / .....  
القسم : السنة الأولى ابتدائي  
يوم : .....

مدرسة : .....  
الأستاذ (ة) : .....  
اسم التلميذ : .....

## اختبار الفصل الثاني في مادة التربية العلمية

التمرين الأول : اضع ( ص ) إذا كان الجسم صلبا و اضع ( س ) إذا كان الجسم سائلا



التمرين الثاني : أربط الصورة بالكلمة المناسبة



يفوص

يطفو

التمرين الثالث : اكتب الناتج ( جليد ) أو ( ماء )



التمرين الرابع : اربط بما يناسب

- |         |              |
|---------|--------------|
| * شهر   | * نهار + ليل |
| * يوم   | * 7 ايام     |
| * اسبوع | * 30 يوما    |

التمرين الرابع : اضع علامة ( □ ) تحت الأحداث التي تتكرر



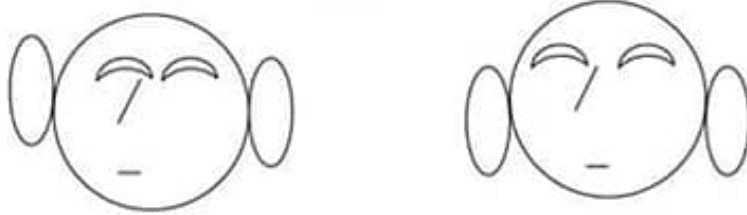
السنة الدراسية : ..... / .....  
القسم : السنة الأولى ابتدائي  
يوم : .....

مدرسة : .....  
الأستاذ (ة) : .....  
اسم التلميذ : .....

## امتحان شهر مارس في التربية العلمية

### السؤال: 01

ألون رأس الطفل الموجود على يساري بالأحمر و رأس الطفل الموجود يميني بالأخضر.



### السؤال: 02

أربط نوع الغذاء بمصدره :

الملح	غذاء حيواني
الخبز	غذاء نباتي
الحليب	غذاء معدني
اللحم	
التفاح	
الماء	

### السؤال: 03

أجيب بـ: ص أو خ

- يبدأ النهار بالغروب: .....
- أتنفس بمعدتي: .....
- أرى بعيني: .....
- قلبي يدق في النهار فقط: .....
- الهواء لونه أبيض: .....
- أرتاح يوم الجمعة: .....

### السؤال: 04

أميز الصلب عن السائل بكتابة : صلب أو سائل تحت الكلمات التالية:

حليب	طباشير	حجر	ماء	مسطرة
<input type="text"/>	<input type="text"/>	<input type="text"/>	<input type="text"/>	<input type="text"/>

إمضاء الولي: .....



السنة الدراسية : ..... / .....  
القسم : السنة الأولى ابتدائي  
يوم : .....

مدرسة : .....  
الأستاذ (ة) : .....  
اسم التلميذ : .....

## اختبار الفصل الثاني في التربية العلمية



سائلة

صلبة

المسند : اجتمع الغالبية لتناول الغداء.

أناأمل المشهد:

1 - أ - ألون شينا صلبا

بالأخضر.

ب - أشطب الخطأ : الماء مادة

2 - هذا بغض ما وضعته الأم على الطاولة.

- أصل كل غذاء بعنصره .



نباتي

معدني

حيواني

3 - كان أمام الطفل كوبا من الماء الجاف .

أناأمل ثم أكمل المخطط:



+



4 - خان موعد المدرسه فركبت البنت السيارة مع والدها لأنها تقطع المسافة في ..... من العشري.

:

مدة زمنية

أطول

مدة زمنية

أقصر

ألون الأجواب الصحيح

السيارة مع أبيها . شاهدت

5 - لما كانت البنت في

صديققتها تجري.

أكمل العبارة بالكلمة المناسبة لكل فراغ: الحرارة - القلب - التنفس - تزداد

- عند الجري ..... نبضات ..... و شدة ..... كما ترتفع درجة .....

6 - بدأ الأب يغني مع ابنته أغنية أيام الأسبوع.

أساعدهما في ترتيبها بوضع الأرقام من 1 إلى 7.

الثلاثاء

الأربعاء

الجمعة

الأثنين

السبت

الخميس

الأحد



السنة الدراسية : ..... / .....  
القسم : السنة الأولى ابتدائي  
يوم : .....

مدرسة : .....  
الأستاذ (ة) : .....  
اسم التلميذ : .....

## اختبار الفصل الثاني في التربية العلمية

### التمرين الأول ( 02.5 ن ) :

أربط بين كل عضو وحاسته

العين	الأذن	الأنف	اللسان	اليَدُ
الدُّوقُ	اللمسُ	الرؤيةُ	السمعُ	الشمُّ

### التمرين الثاني ( 02.5 ن ) :

أميز مصادر هذه الأغذية بتلوينها : بالأخضر إذا كان المصدر نباتيا و بالأحمر إذا كان المصدر حيوانيا



### التمرين الثالث ( 02.5 ن ) :

أصنّف الأجسام الآتية في الجدول :

مِسْطَرٌّ - نَفَاحَةٌ - مِقْصٌ - سِكِّينٌ - كُرَةٌ

تطفو فوق الماء	لا تطفو فوق الماء

### التمرين الرابع ( 02.5 ن ) :

اضع ( يتكرر - لا يتكرر ) أمام كل حدث :

- |                     |                   |
|---------------------|-------------------|
| * عيد الميلاد ..... | * عيد الفطر ..... |
| * الموت .....       | * الختن .....     |
| * الدراسة .....     |                   |

السنة الدراسية : ..... / .....  
القسم : السنة الأولى ابتدائي  
يوم : .....


مدرسة : .....  
الأستاذ (ة) : .....  
اسم التلميذ : .....

## اختبار الفصل الثاني في مادة التربية العلمية

التمرين الأول: أصل الحاسة بما يوافقها:



التمرين الثاني: أضع علامة (+) إن كان القلب ينبض ببطء وعلامة (-) إن كان القلب ينبض بسرعة



التمرين الثالث: 1. ألون بالأحمر الجسم الساكن، وبالأزرق الجسم المتحرك:  
2. ألون بالأصفر الجسم الصغير وبالأحمر الجسم الكبير.



السنة الدراسية : ..... / .....  
القسم : السنة الأولى ابتدائي  
يوم : .....

مدرسة : .....  
الأستاذ (ة) : .....  
اسم التلميذ : .....

## إختبار الفصل الثاني في مادة التربية العلمية

التمرين الأول: شطب على الأدوات الخطيرة:



التمرين الثاني: أربط بين الشخص وعمله ثم أحوط الشخص الذي نجده في المدرسة:



الطبيب

الخباز

المعلمة

الشرطي

التمرين الثالث: أحتد المواقع باستعمال: ( وزراء - أمام - بجانب )



الشجرة الصغيرة ..... الشجرة الكبيرة

المحفظة ..... الطفلة

الكتاكيت ..... الدجاجة



السنة الدراسية : ..... / .....  
القسم : السنة الأولى ابتدائي  
يوم : .....

مدرسة : .....  
الأستاذ (ة) : .....  
اسم التلميذ : .....

## اختبار الفصل الثاني في التربية العلمية

السؤال الأول : أكمل بـ ( حيواني (ح) ، نباتي (ن) ، معدني (م) )

☐☐☐☐☐

السؤال الثاني : أربط بينهم بين العادة وطبيعتها



سائل

صلب

السؤال الثالث : أكمل بـ (6،7،8) ( الثلاثاء ، الأحد ، الاثنين ، السبت ، الخميس ، الأربعاء ، الجمعة )

عدد أيام الاسبوع ..... هي بالترتيب

السبت

السؤال الرابع : أكمل بـ ( يتكرر ، لا يتكرر )



لا يتكرر

يتكرر

السنة الدراسية : ..... / .....  
القسم : السنة الأولى ابتدائي  
يوم : .....

مدرسة : .....  
الأستاذ (ة) : .....  
اسم التلميذ : .....

### اختبار شهر فيفري في التربية العلمية والتكنولوجية

التمرين الأول: أضع (صلب) أو (سائل) تحت الكلمات التالية:

مكتب	عسل	مسطرة	حليب	طباشير	ماء
<input type="text"/>	<input type="text"/>	<input type="text"/>	<input type="text"/>	<input type="text"/>	<input type="text"/>

التمرين الثاني: أصنف الغذاء حسب مصدره.

الخبز - البيض  
الحليب - التفاح  
الماء - الملح

مصدر حيواني	مصدر نباتي	مصدر معدني
<input type="text"/>	<input type="text"/>	<input type="text"/>
<input type="text"/>	<input type="text"/>	<input type="text"/>
<input type="text"/>	<input type="text"/>	<input type="text"/>

التمرين الثالث: ضع (ص) أو (خ).


- ☐ أتنفس بمعدتي.
- ☐ أنام طول النهار.
- ☐ الختان حدث لا يتكرر.
- ☐ لون الهواء أبيض.

السنة الدراسية : ..... / .....  
القسم : السنة الأولى ابتدائي  
يوم : .....

مدرسة : .....  
الأستاذ (ة) : .....  
اسم التلميذ : .....

### اختبار في مادة التربية العلمية والتكنولوجية

التمرين الأول : ألون بالأحمر قرص الجسم الذي يطفو و بالأصفر قرص الجسم الذي لا يطفو



التمرين الثاني : أرَتبُ الوجَبَاتِ الغذائية اليومية من 1 إلى 4:

لمجة  
(....)

عشاء  
(...)

فطور  
(...)

غداء  
(....)

التمرين الثالث : اصنع العلامة x أمام كل حَدَثٍ يَتَكَرَّرُ في اليَوْم :

..

➤ تناول الأكل

..

➤ عيد الميلاد .

..

➤ الذهابُ إلى المَنَرسَةِ .

..

➤ الاحتفالُ بالمولد النبوي الشريف .

..

➤ التفَرُّجُ على التلفاز .

..

➤ النوم

التمرين الرابع : ألون بطاقات الأجسام الصلبة التي تتحول إلى أجسام سائلة بفعل الحرارة



السنة الدراسية : ..... / .....  
القسم : السنة الأولى ابتدائي  
يوم : .....

مدرسة : .....  
الأستاذ (ة) : .....  
اسم التلميذ : .....

## اختبار الفصل الثاني في التربية العلمية

التمرين الأول : أربط بين كل عضو وخاسته



الرؤية


اللمس

الشم

السمع

الدوق

التمرين الثاني : اكتب نوع مصدر الغذاء . حيواني - نباتي



.....

.....

.....

.....

.....

التمرين الثالث : اضع علامة ( X ) أمام العبارة الخاطئة وعلامة ( ✓ ) أمام العبارة الصحيحة .

- ☐ - يتحول الجليد بفعل الحرارة إلى ماء .
- ☐ - عيد الأضحى حدث لا يتكرر .
- ☐ - ينبض قلبي باستمرار من غير توقف .



السنة الدراسية : ..... / .....  
القسم : السنة الأولى ابتدائي  
يوم : .....

مدرسة : .....  
الأستاذ (ة) : .....  
اسم التلميذ : .....

## الاختبار الثاني في مادة التربية العلمية

التمرين الأول: اكتب ما إذا كان الجسم صلبا أو سائلا.

				
.....	.....	.....	.....	.....

التمرين الثاني: أصنف الأحداث التالية حسب الجدول:

الوفاة - شهر رمضان - الميلاد - الذهاب إلى المدرسة - شروق الشمس - الختان .

حدث لا يتكرر	حدث يتكرر

التمرين الثالث: أكمل الجمل بما يناسبها: اليوم - الأسبوع - أمسه - أراه.

- المدة الزمنية التي تدوم سبعة أيام هي .....
- الهواء موجود لكنني لا ..... ولا .....
- المدة الزمنية التي تشمل الليل والنهار معا هي .....

التمرين الرابع: أضع علامة - للمدة الزمنية القصيرة وعلامة + للمدة الزمنية الطويلة.

- أتناول لمجتي
- أنام في الليل
- أذهب في نزهة مع أسرتي
- أغسل أسناني

السنة الدراسية : ..... / .....  
القسم : السنة الأولى ابتدائي  
يوم : .....

مدرسة : .....  
الأستاذ (ة) : .....  
اسم التلميذ : .....

### اختبار الفصل الثاني في مادة التربية الإسلامية

#### التمرين الأول ( 02 ن ) :

أربط الآية الكريمة بسورتها :

- |   |                        |
|---|------------------------|
| * قُلْ هُوَ اللَّهُ أَحَدٌ              | * سُورَةُ الْفَاتِحَةِ |
| * الْحَمْدُ لِلَّهِ رَبِّ الْعَالَمِينَ | * سُورَةُ الْإِخْلَاصِ |
| * قُلْ أَعُوذُ بِرَبِّ الْفَلَقِ        | * سُورَةُ النَّاسِ     |
| * قُلْ أَعُوذُ بِرَبِّ النَّاسِ         | * سُورَةُ الْفَلَقِ    |

#### التمرين الثاني ( 02.5 ن ) :

أرتب الصلوات بوضع الأرقام : 1 . 2 . 3 . 4 . 5

المغرب	العشاء	العصر	الصباح	الظهر

#### التمرين الثالث ( 02.5 ن ) :

أضغ (ص) أو (خ) أمام كل جملة :

- \* أَقُولُ الْحَمْدُ لِلَّهِ فِي بَدَايَةِ الْأَكْلِ (.....)
- \* الْمُسْلِمُ الَّذِي يَتَّقِنُ عَمَلَهُ نَجِّهُهُ اللَّهُ وَالنَّاسُ (.....)
- \* التَّعَاوُنُ لَيْسَ مِنْ أَخْلَاقِ الْمُسْلِمِ (.....)
- \* أَقْضِي مُعْظَمَ أَوْقَاتِي فِي اللَّعِبِ (.....)
- \* أَطِيعُ اللَّهَ لِأَنَّهُ خَلَقَنِي (.....)

#### التمرين الرابع ( 03 ن ) :

النون إطار الاسم الذي يجب طاعته

المعلم	الله تعالى	الشيطان
السارق	الشرطي	الوالدان
المدير	الكذاب	الجَدُّ

السنة الدراسية : ..... / .....  
القسم : السنة الأولى ابتدائي  
يوم : .....

مدرسة : .....  
الأستاذ (ة) : .....  
اسم التلميذ : .....

## إختبار الفصل الثاني في التربية الإسلامية

1- أشتب ( X ) على التصرف الخاطئ:



2- اجعل خط على الاسم الذي يجب طاعته:

- الشَّيْطَانُ	- الْوَالِدَانِ
- اللَّهُ تَعَالَى	- الْإِنْسَانُ الْمُؤْذِي
- الْمُعَلِّمُ	- الشَّرْطِيُّ

3- أرتب الصلوات بوضع الأرقام:

الْعِشَاءُ	الظُّهْرُ	الْمَغْرِبُ	الصُّبْحُ	الْعَصْرُ
(....)	(....)	(...)	(....)	(....)

4- ألون:

العلم نور و الجهل ظلام

السنة الدراسية : ..... / .....  
القسم : السنة الأولى ابتدائي  
يوم : .....

مدرسة : .....  
الأستاذ (ة) : .....  
اسم التلميذ : .....

## اختبار الفصل الثاني في مادة التربية الإسلامية

### التمرين الأول ( 02 ن ) :

أربط الآية الكريمة بسورتها :

- |   |                        |
|---|------------------------|
| * قُلْ هُوَ اللَّهُ أَحَدٌ              | * سُورَةُ الْفَاتِحَةِ |
| * الْحَمْدُ لِلَّهِ رَبِّ الْعَالَمِينَ | * سُورَةُ الْإِخْلَاصِ |
| * قُلْ أَعُوذُ بِرَبِّ الْفَلَقِ        | * سُورَةُ النَّاسِ     |
| * قُلْ أَعُوذُ بِرَبِّ النَّاسِ         | * سُورَةُ الْفَلَقِ    |

### التمرين الثاني ( 02.5 ن ) :

أرتب الصلوات بوضع الأرقام : 1 . 2 . 3 . 4 . 5

المغرب	العشاء	العصر	الصبح	الظهر

### التمرين الثالث ( 02.5 ن ) : أضغ (ص) أو (خ) أمام كل جملة :

- \* أقول الحمد لله في بداية الأكل (.....)
- \* المسلم الذي يثق عمله يحبه الله والناس (.....)
- \* التعاون ليس من أخلاق المسلم (.....)
- \* أقضي معظم أوقاتي في اللعب (.....)
- \* أطيع الله لأنه خلقني (.....)

### التمرين الرابع ( 03 ن ) : ألون إطار الاسم الذي يجب طاعته

المعلم	الله تعالى	الشيطان
السارق	الشرطي	الوالدان
المدير	الكذاب	الجذ



السنة الدراسية : ..... / .....  
القسم : السنة الأولى ابتدائي  
يوم : .....

مدرسة : .....  
الأستاذ (ة) : .....  
اسم التلميذ : .....

## اختبار الفصل الثاني في التربية الإسلامية



السند :

بَعْدَمَا أَنْهَى جَمَالٌ اسْتِرَاحَتَهُ أَمَامَ التِّلْفَظِ نَدَّتْهُ أُمُّهُ لِتَنَاوُلِ الْعُشَاءِ.  
أَتَأْمَلُ الْمُشْهَدَ.

1 - أَلَوْنِ الْعِبَارَةَ الصَّحِيحَةَ :

- بَعْدَ الْأَكْلِ أَقُولُ  بِسْمِ اللَّهِ  الْحَمْدُ لِلَّهِ

2 - لَمْ يَقْسِلْ جَمَالٌ يَدَهُ قَبْلَ تَنَاوُلِ الطَّعَامِ لِذِكْرِهِ أَخُوهُ بِضَرُورَةِ النِّظَافَةِ

- أَكْمَلْ كُلَّ فَرَاغٍ بِالْكَلِمَةِ الْمُنَاسِبَةِ : **الثُّوبِ - طَاهِرٌ - أَمْعَانِ.**

الْمُسْلِمُ \_\_\_\_\_ الْجِسْمُ \_\_\_\_\_ وَ \_\_\_\_\_

3 - بَعْدَ الْعُشَاءِ دَخَلَ جَمَالٌ غُرْفَتَهُ لِأَتَجَرَّ وَاجِبَاتِهِ

أ - أَسَاعِدْهُ عَلَى ذَلِكَ بِرَبِّطِ كُلَّ آيَةٍ بِالسُّورَةِ الْمُنَاسِبَةِ.

- إِهْدِنَا الصِّرَاطَ الْمُسْتَقِيمَ .

- مِنْ شَرِّ النَّفَّاثَاتِ فِي الْعُقَدِ .

- لَمْ يَلِدْ وَ لَمْ يُولَدْ .

- مِنَ الْجَنَّةِ وَ النَّاسِ .

ب - أَرْتَبِ أَرْكَانَ الْإِسْلَامِ بِوَضْعِ الْأَرْقَامِ مِنْ 1 إِلَى 5



4 - اِحْتَاجَ جَمَالٌ لِمُسَاعَدَةِ وَالِدَتِهِ فِي حَلِّ بَعْضِ الْوَاجِبَاتِ ، فَتَوَجَّهَ إِلَى غُرْفَتِهَا وَ فَتَحَ الْبَابَ عَلَيْهَا.

- أَرْتَبِ هَذِهِ الْكَلِمَاتِ وَأَنْصَحْ جَمَالاً بِهَا: **سُلُوكٌ - الْأَسْتِيفَانُ - حَسَنٌ .**

السنة الدراسية : ..... / .....  
القسم : السنة الأولى ابتدائي  
يوم : .....

مدرسة : .....  
الأستاذ (ة) : .....  
اسم التلميذ : .....

## اختبار الفصل الثاني في التربية الإسلامية

التمرين الأول : اربط بما يناسب

- |                          |   |
|--------------------------|---|
| قبل الأكل أقول .         | السلام عليكم ورحمة الله تعالى وبركاته . |
| عندما أعطس أقول .        | الحمد لله .                             |
| عند التحية أقول          | التعاون .                               |
| تصبح الاعمال الشاقة سهلة | بسم الله .                              |

التمرين الثاني : اكمل بوضع الكلمة الناقصة ( الله - أن - أن - محمدا )

أشهد ... لا اله الا ..... وأشهد ..... رسول الله

التمرين الثالث : اضع دائرة حول الاسم الذي يجب طاعته

- المَعْلَم - الشَّيْطَان - الشَّرْطِيُّ - الوَالِدَان

التمرين الرابع : ارتب اركان الاسلام



الشَّهَادَتَانِ صَوْمُ رَمَضَانَ حَجُّ بَيْتِ اللَّهِ إِقَامُ الصَّلَاةِ إِيتَاءُ الزَّكَاةِ

( . ) ( . ) ( . ) ( . ) ( . )

التمرين الخامس : اربط الآية بعنوانها



قَالَ اللَّهُ تَعَالَى ،  
﴿ إِنَّ اللَّهَ يُحِبُّ الْمُتَوَاضِعِينَ وَيُحِبُّ الْمُتَطَهِّرِينَ ﴾

الاستئذان

التَّحِيَّةُ

الطُّهَارَةُ

قَالَ اللَّهُ تَعَالَى ،  
﴿ يَا أَيُّهَا الَّذِينَ ءَامَنُوا لَا تَدْخُلُوا بُيُوتًا غَيْرَ بُيُوتِكُمْ  
حَتَّى تَسْتَأْذِنُوا وَتَسَلِّمُوا عَلَى أَهْلِهَا ﴾

السنة الدراسية : ..... / .....  
القسم : السنة الأولى ابتدائي  
يوم : .....

مدرسة : .....  
الأستاذ (ة) : .....  
اسم التلميذ : .....

### اختبار الفصل الثاني في مادة التربية الإسلامية

#### التمرين الأول: ارتب بوضع الأرقام (1.25ن)

الصباح	العصر	المغرب	الظهر	العشاء
(.....)	(....)	(....)	(....)	(....)

#### التمرين الثاني : اضع حرف (ص) للتصرف الصحيح وحرف (خ) للتصرف الخاطئ (2.25ن)



(.....)



(....)



(.....)



(.....)



(.....)



(.....)

#### التمرين الثالث: اكمل الحديث بوضع الكلمة المناسبة في مكانها (الماشي - القليل) (2ن)

يسلم الراكب على ..... والماشي على القاعد و..... على الكثير

#### التمرين الرابع: ارتب بوضع الأرقام (1.5ن)

الله	اشهد ان	لا اله الا
(....)	(....)	(....)

#### التمرين الخامس: اكمل السورة بوضع كل كلمة في مكانها المناسب (الكوثر - لربك - هو) (3ن)

ان اعطيناك ..... ① فصلي ..... وانحر ② ان شانك

..... ③ الابر

السنة الدراسية : ..... / .....  
القسم : السنة الأولى ابتدائي  
يوم : .....

مدرسة : .....  
الأستاذ (ة) : .....  
اسم التلميذ : .....

### اختبار شهر فيفري في التربية الإسلامية

#### التمرين الأول: إربط السورة بما يناسبها.

سورة الناس	قل أعوذ برب الفلق
سورة الفلق	قل أعوذ برب الناس
سورة الإخلاص	الحمد لله رب العالمين
سورة الفاتحة	قل هو الله أحد

#### التمرين الثاني: رتب الصلوات حسب تسلسلها.

العصر	الظهر	المغرب	الصباح	العشاء
-------	-------	--------	--------	--------

#### التمرين الثالث: ضع (ص) أو (خ).

- ☐ - أستحرم مرة واحدة في السنة
- ☐ - العلم نور
- ☐ - القرآن كلام الله
- ☐ - أصلي ست صلوات في اليوم

#### التمرين الرابع : رتب كلام الله تعالى في سورة الإخلاص:

الله الصمد      قل هو الله أحد      ولم يكن له كفوا أحد      لم يلد و لم يولد

.....



السنة الدراسية : ..... / .....  
القسم : السنة الأولى ابتدائي  
يوم : .....

مدرسة : .....  
الأستاذ (ة) : .....  
اسم التلميذ : .....

## اختبار الفصل الثاني في مادة التربية الإسلامية

1 أربط الصورة المناسبة بالعبارة التي أقولها. (2)



السَّلامُ عَلَيْكُمْ

الْحَمْدُ لِلَّهِ

بِسْمِ اللَّهِ

2 أضع حرف (ص) للتصريف الصحيح و حرف (خ) للتصريف الخاطئ. (2)



( ..... )

( ..... )

( ..... )

( ..... )

3 أضع دائرة حول الاسم الذي يجب طاعته: (1.5)

- الأُم - الشَّيْطَانُ - اللهُ تَعَالَى - الشَّخْصُ الْمُؤَذِّي - الرُّسُولُ صَلَّى اللهُ عَلَيْهِ وَ سَلَّمَ

4 أرتب أركان الإسلام من 1 إلى 5 حسب ما وزعت في الحديث النبوي. (2.5)

صَوْمُ رَمَضَانَ

إِقَامُ الصَّلَاةِ

إِيثَاءُ الزَّكَاةِ

الشَّهَادَتَانِ

حَجُّ النَّبِيتِ



5 أكمل السورة بوضع كل كلمة في مكانها المناسب: (كُفُّوا - يُؤَلِّدُ - اللهُ - الصَّمَدُ ) (2)

« قُلْ هُوَ ..... أَحَدٌ ① اللهُ ..... ② لَمْ يَلِدْ وَلَمْ ..... ③  
و لَمْ يَكُنْ لَهُ ..... أَحَدٌ ④ »

السنة الدراسية : ..... / .....  
القسم : السنة الأولى ابتدائي  
يوم : .....

مدرسة : .....  
الأستاذ (ة) : .....  
اسم التلميذ : .....

### اختبار الفصل الثاني في مادة التربية الإسلامية

#### السؤال الأول : رتب أفعال التحية

رَحْمَةُ اللَّهِ

السَّلَامُ عَلَيْكُمْ

يَرْكَائُهُ

و ..... و .....

#### السؤال الثاني : ضع (ص) أمام السلوك الصحيح و (خ) أمام السلوك الخاطئ

☐☐☐☐☐

#### السؤال الثالث : أكمل ب ( 4، 5، 6، 7 ) (الصلاة، الشهادتان، رمضان، الزكاة، النبوت)

أركان الإسلام .... هي..... وأقام..... وإيتاء.....

وصوم..... وحج.....

#### السؤال الرابع : ضع في حيز من تجب عليك طاعته



الأم



المرطبي



الامام



الوليد المؤذي

الانسان الكذاب

الله تعالى

الشیطان

الرسول

السنة الدراسية : ..... / .....  
القسم : السنة الأولى ابتدائي  
يوم : .....

مدرسة : .....  
الأستاذ (ة) : .....  
اسم التلميذ : .....

## امتحان الفصل الثاني في مادة التربية الإسلامية

### السؤال الأول:

أتمم بالكلمات التالية : رمضان - البيت - الصلاة - الزكاة - محمدا - الإسلام.

قال رسول الله صلى الله عليه وسلم:

" بني ..... على خمس شهادة أن لا إله إلا الله وأن ..... رسول الله و إقام ..... وإتاء .....

وصوم ..... وحج .....

### السؤال الثاني: أجب بصحيح أو خطأ

المسلم أمين يحفظ الأمانة (.....).

أركان الإسلام ثلاثة (.....).

أعبد الله لأنه خلقني (.....).

أقول بسم الله قبل الأكل (.....).

### السؤال الثالث:

أربط بسهم:

الله الصمد سورة الناس.

من الجنة والناس سورة الفلق

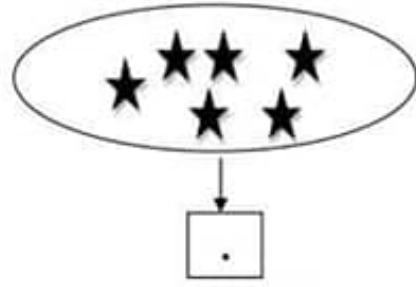
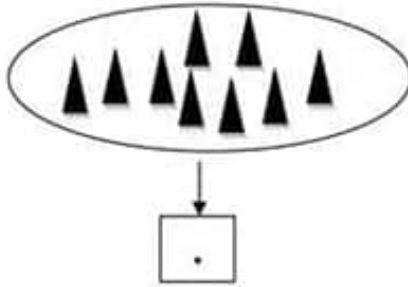
ومن شر غاسق إذا وقب سورة الإخلاص.

السنة الدراسية : ..... / .....  
القسم : السنة الأولى ابتدائي  
يوم : .....

مدرسة : .....  
الأستاذ (ة) : .....  
اسم التلميذ : .....

### اختبار شهر جانفي في الرياضيات

1 - اكتب في كل خانة العدد المناسب:



3 - أكمل لأحصل على أعداد متتالية:

1 . 3

5 . .

. 4 .

. . 10

2 - ارتب الأقلام من الأقصر إلى الأطول:



4 - أحسب المجاميع التالية:


$$4 + 3 = .$$

$$2 + 5 = .$$

$$6 + 2 = .$$

$$0 + 4 = .$$

5 - اجمع بالعشرات وأكمل الجدول:





العشرات	الوحدات
.	.

السنة الدراسية : ..... / .....  
 القسم : السنة الأولى ابتدائي  
 يوم : .....

مدرسة : .....  
 الأستاذ (ة) : .....  
 اسم التلميذ : .....

## إختبار الفصل الثاني في مادة الرياضيات

الاحظ واكتب في كل خانة العدد المناسب:







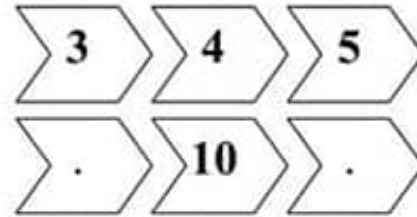
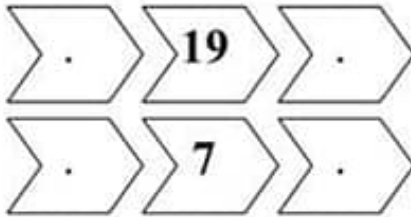
الاحظ واكمل:

2

10	.	.	13	.	15	.	.	18	19	.
----	---	---	----	---	----	---	---	----	----	---

اكمل حسب المثال:

3



ألون الخانة المناسبة:

4

	أصغر من	
9	=	6
	أكبر من	

	أصغر من	
10	=	17
	أكبر من	

	أصغر من	
21	=	21
	أكبر من	

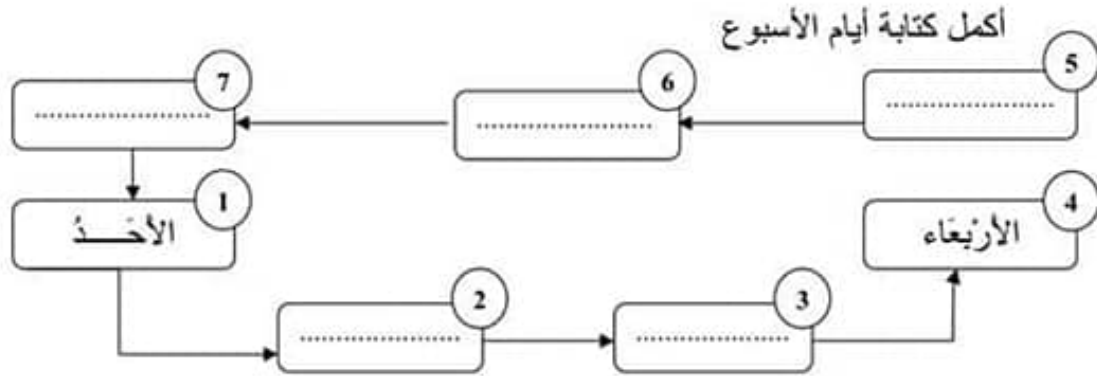


السنة الدراسية : ..... / .....  
القسم : السنة الأولى ابتدائي  
يوم : .....

مدرسة : .....  
الأستاذ (ة) : .....  
اسم التلميذ : .....

## اختبار الفصل الثاني في مادة الرياضيات

### التمرين الأول (02.5 ن):



### التمرين الثاني (02.5 ن):

أكمل الكتابة :

$$\begin{array}{c} 2 + 5 + 1 + 4 \\ \swarrow \quad \downarrow \quad \searrow \quad \swarrow \\ \cdot \quad + \quad \cdot \\ \swarrow \quad \downarrow \quad \searrow \\ \cdot \end{array}$$

$$\begin{array}{c} 8 + 3 + 2 + 7 \\ \swarrow \quad \downarrow \quad \searrow \quad \swarrow \\ \cdot \quad + \quad \cdot \\ \swarrow \quad \downarrow \quad \searrow \\ \cdot \end{array}$$

$$\begin{array}{c} 5 + 5 + 8 + 10 \\ \swarrow \quad \downarrow \quad \searrow \quad \swarrow \\ \cdot \quad + \quad \cdot \\ \swarrow \quad \downarrow \quad \searrow \\ \cdot \end{array}$$

### التمرين الثالث ( 02.5 ن):

أقارن بكتابة العبارة المناسبة : أكبر من - أصغر من - يساوي

11..... 11

32..... 23

50.....60

34 ..... 43

51 ..... 15

### التمرين الثالث ( 02.5 ن):

أرتب الأعداد : 8 ، 19 ، 25 ، 22 ، 34 ، 29 من الأصغر إلى الأكبر:

8	..	..	..	..	..
---	----	----	----	----	----

السنة الدراسية : ..... / .....  
 القسم : السنة الأولى ابتدائي  
 يوم : .....

مدرسة : .....  
 الأستاذ (ة) : .....  
 اسم التلميذ : .....

### اختبار الفصل الثاني في الرياضيات

التمرين الأول: ألاحظ الشريط وأكمل

10	20	..	..	..	..	..	..	..
----	----	----	----	----	----	----	----	----

التمرين الثاني: أقارن ثم ألون الخانة المناسبة.

43	أكبر من	43+0
	أصغر من	
	يساوي	

35	أكبر من	59
	أصغر من	
	يساوي	

75	أكبر من	57
	أصغر من	
	يساوي	

التمرين الثالث: ألاحظ ثم أكمل المتتالية.

..	33	..
----	----	----

57	..	
----	----	--

..	..	78
----	----	----

التمرين الرابع: أبسط الكتابات الجمعية.

$$\begin{array}{c} 2 + 5 + 3 + 7 \\ \swarrow \quad \searrow \quad \swarrow \quad \searrow \\ \cdot \quad + \quad \cdot \\ \swarrow \quad \searrow \\ \cdot \end{array}$$

$$\begin{array}{c} 9 + 10 + 10 \\ \downarrow \quad \swarrow \quad \searrow \\ \cdot \quad + \quad \cdot \\ \swarrow \quad \searrow \\ \cdot \end{array}$$

$$\begin{array}{c} 5 + 5 + 10 \\ \swarrow \quad \searrow \quad \downarrow \\ \cdot \quad + \quad \cdot \\ \swarrow \quad \searrow \\ \cdot \end{array}$$

السنة الدراسية : ..... / .....  
القسم : السنة الأولى ابتدائي  
يوم : .....

مدرسة : .....  
الأستاذ (ة) : .....  
اسم التلميذ : .....

### إختبار الفصل الثاني في مادة الرياضيات

التمرين الأول: أكمل العدد الناقص:

19	.	.
----	---	---

.	29	.
---	----	---

.	.	40
---	---	----

التمرين الثاني: أكمل:

الغد	اليوم	الأمس
.....	الأحد	.....
السبت	.....	.....
.....	.....	الثلاثاء

التمرين الثالث: رتب الأعداد الآتية من الأكبر إلى الأصغر:

53 - 40 - 36 - 20 - 30 - 17 - 22 .

53 - .....

التمرين الرابع: اكتب الأعداد الآتية في الجدول:

33 - 42 - 40 - 55 .

و	ع

التمرين الخامس: أكمل:

35
58
27
43

5+30	..
7+20	..
3+40	..
8+50	..

السنة الدراسية : ..... / .....  
القسم : السنة الأولى ابتدائي  
يوم : .....

مدرسة : .....  
الأستاذ (ة) : .....  
اسم التلميذ : .....

### اختبار في مادة الرياضيات

التمرين الأول: (2ن)  
أكتب الأعداد الناقصة.

13	..	..	16	..	..	..	..	..	22	..
----	----	----	----	----	----	----	----	----	----	----

التمرين الثاني: (3.5ن)  
أكمل المساواة.

$$3 + 15 = . \quad 10 + 20 = . \quad 5 + . = 10 \quad 6 + 9 = .$$

$$40 + 7 = .. \quad 30 + 2 = .. \quad 10 + 10 + 10 + 7 = ..$$

التمرين الثالث: (2ن)  
أرتب الأعداد التالية من الأصغر إلى الأكبر.  
15 - 0 - 10 - 25 - 30 - 20 - 35 - 40.

.....

التمرين الرابع: (2.5ن)  
أضع العبارة (أكبر من) أو (أصغر من) أو (=).

$$10 + 10 \dots\dots\dots 20 \quad 10 + 6 \dots\dots\dots 15$$

$$6 + 6 \dots\dots\dots 18 \quad 19 \dots\dots\dots 3 + 10$$

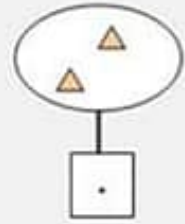
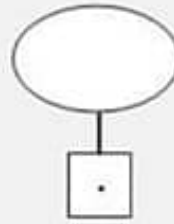
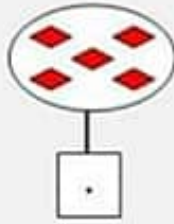
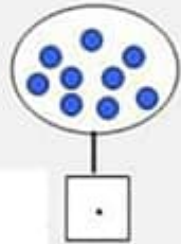
السنة الدراسية : ..... / .....  
القسم : السنة الأولى ابتدائي  
يوم : .....

مدرسة : .....  
الأستاذ (ة) : .....  
اسم التلميذ : .....

## اختبار شهر جانفي في الرياضيات



**التمرين الأول :** أكتب عدد الأشياء في كل بطاقة:



**التمرين الثاني :** رتب الأعداد الآتية من الأصغر إلى الأكبر :

3 - 8 - 6 - 1 - 11

.	.	.	.	.
---	---	---	---	---

**التمرين الثالث :** أكمل الشريط :

9	.	.	12	.	.	15
---	---	---	----	---	---	----

**التمرين الرابع :** ألاحظ الجدول ثم أمثل العدد بالرسم:

الوحدات	العشرات
5	2

**التمرين الخامس :** أحسب ما يلي:

$$\begin{aligned} 8 + 2 &= \dots \\ 7 + 1 &= \dots \end{aligned}$$

$$\begin{aligned} 6 + 0 &= \dots \\ 5 + \dots &= 9 \end{aligned}$$