

## تدريبات على الدرس الأول

### موقع بلدى

#### السؤال الأول: اختر الإجابة الصحيحة مما بين القوسين:

١- تقع مصر فى الركن ..... لقارة افريقيا

(الشمالى الشرقى - الشمالى الغربى - الجنوبى الشرقى - الجنوبى الغربى)

٢- تقع مصر فى قارة ..... ( اسيا - أفريقيا - اوروبا - استراليا )

٣- تقسم خطوط طول الكرة الأرضية إلى .....

( شمالى وجنوبى - شمالى وشرقى - جنوبى وغربى - شرقى وغربى )

٤- تعرف الدائرة الرئيسية فى دوائر العرض بـ ..... (الاستواء - السرطان - الجدى - جرينتش)

٥- يعرف الخط الرئيسى فى خطوط الطول بـ ..... (الاستواء - السرطان - الجدى - جرينتش)

٦- يقع الجزء الشمالى لمصر فى الإقليم.....

( الصحراوى - المدارى - المعتدل - الشبه صحراوى )

٧- يقع مدار ..... عند ٢٣.٥° شمالا (الاستواء - السرطان - الجدى - جرينتش)

#### السؤال الثانى: ما المقصود بـ:

١- الموقع الجغرافى

.....

٢- خطوط الطول

.....

٣- الموقع الفلكى

.....

#### السؤال الثالث: ما النتائج المترتبة على:

١- وقوع مصر فى وسط قارات العالم القديم

.....

٢- ابتعاد الجزء الشمالى لمصر عن خط الاستواء

.....

#### السؤال الرابع: ما العلاقة بين:

السكان والموقع الجغرافى والفلكى للدولة ؟ وضح.

.....

.....

#### السؤال الخامس: قارن بين كلا من:

خطوط الطول ودوائر العرض من حيث ( الأهمية)

| خطوط الطول | دوائر العرض |
|------------|-------------|
|            |             |

#### السؤال السادس: اكمل:

١- يقع البحر ..... شمال مصر

٢- يقع البحر ..... شرق مصر

٣- تقع مصر فى قارة .....

## تدريبات على الدرس الثانى

### قصة نشأة الحضارة المصرية القديمة

#### السؤال الأول: اكمل:

- ١- كان المصرى القديم يعيش فوق .....
- ٢- نزل المصرى الى الوادى بعد أن حل ..... على الهضاب
- ٣- بدأ الإنسان فى حياة الاستقرار بعد معرفة .....
- ٤- ظهرت المدن نتيجة تجمع من .....
- ٥- يعد وجود الجيش لحماية البلاد من العوامل .....

#### السؤال الثانى: بم تفسر:

- ١- كانت حياة المصرى القديم فوق الهضاب عبارة عن تنقل وترحال

.....

- ٢- سمي عصر الدولة الحديثة بعصر المجد الحربى؟

.....

#### السؤال الثالث: قارن بين كلا من:

مملكة الشمال ومملكة الجنوب من حيث كلا من ( لون التاج - المعبود )

| وجه المقارنة | مملكة الشمال | مملكة الجنوب |
|--------------|--------------|--------------|
| لون التاج    |              |              |
| المعبود      |              |              |

**السؤال الرابع: ضع علامة (✓) أمام العبارة الصحيحة وعلامة (x) أمام العبارة الغير صحيحة:**

- ١- ظهرت الأقاليم فى بداية حياة المصرى القديم ( )
- ٢- تعد القرى ناتج عن تجمع العديد من المدن ( )
- ٣- عرف الإنسان الزراعة وعرف معها الإستقرار ( )
- ٤- اختارت مملكة الشمال شعاراً لها وهو نبات البردى ( )

**السؤال الخامس: ما النتائج المترتبة على:**

١- تنوع المناخ فى مصر

.....

٢- كفاح المصرى القديم لفترة طويلة

.....

٣- الموقع المتميز لمصر

.....

## تدريبات على الدرس الثالث مظاهر سطح بلدى

### السؤال الأول: اكمل:

- ١- ينقسم سطح مصر إلى ..... وحدات تضاريسية
- ٢- تبدو دلتا النيل أقرب إلى الشكل .....
- ٣- يقع فى وسط شبه جزيرة سيناء هضبة .....
- ٤- تعد الصحراء الشرقية صحراء ..... لوجود سلاسل جبال البحر الاحمر
- ٥- تقع هضبة مارمريكا فى ..... الصحراء الغربية.
- ٦- المسئول عن توصيل المياه من نهر النيل إلى منخفض الفيوم هو ترعة بحر .....

### السؤال الثانى: ضع علامة (✓) أمام العبارة الصحيحة وعلامة (x) أمام العبارة الغير صحيحة:

- ١- يوجد شبه جزيرة سيناء أودية جافة مثل وادى فيران و وادى العريش ( )
- ٢- تقع هضبة المعازة فى الصحراء الغربية ( )
- ٣- تعد الصحراء أصغر الوحدات التضاريسية فى مصر ( )
- ٤- يقع منخفض الفيوم جنوب غرب القاهرة ( )
- ٥- يقع جبل العوينات فى جنوب الصحراء الشرقية ( )

### السؤال الثالث: ما النتائج المترتبة على:

- ١-وجود ترعة بحر يوسف بالقرب من منخفض الفيوم

.....

### السؤال الرابع: اختر الإجابة الصحيحة مما بين الأقواس:

- ١- تبدو فى شكلها أقرب إلى المستطيل .....  
(الدلتا - منخفض الفيوم - الصحراء الغربية - الصحراء الشرقية)
- ٢- يقع جبال ..... فى جنوب شبه جزيرة سيناء  
( جبل موسى - جبل العوينات - جبل البحر الأحمر - جبل علبه )
- ٣- أكبر الوحدات التضاريسية فى مصر هي .....  
(شبه جزيرة سيناء - الدلتا - الصحراء الشرقية - الصحراء الغربية )
- ٤- ترعة وادى النيل والدلتا والفيوم .....  
(صخرية صلبة - رملية جافة - طينية خصبة )
- ٥- يوجد وادى العريش فى .....  
(شبه جزيرة سيناء - الدلتا - الصحراء الشرقية - الصحراء الغربية )
- ٦- يقع منخفض الفيوم ..... مدينة القاهرة  
(شمال شرق - جنوب غرب - شمال غرب جنوب شرق )



السؤال السادس: بم تفسر:

١- أهمية دلتا النيل؟

٢- معظم المناطق بالصحراء الغربية مأهولة بالسكان

٣- أهمية الصحراء الشرقية .

## تدريبات على الدرس الرابع مناخ بلدى

### السؤال الأول: : بم تفسر:

١- تلف المحاصيل الزراعية فى فصول الربيع؟

٢- تعاقب فول السنة؟

٣- اعتدال درجة الحرارة فى المناطق القريبة من البحر

### السؤال الثانى: اكمل:

١- عندما نكون فى شهر فبراير تكون فى فصل .....

٢- تتميز المناطق القريبة من البحر بأن درجة حرارته .....

٣- الإقليم الصحراوى يتميز بأنه شديد الحرارة فى فصل ..... وخاصة فى .....

٤- المناطق الشمالية لمصر تقع فى الإقليم .....

٥- تتكون الثلوج على قمم الجبال فى فصل .....

٦- عندما تتعامد الشمس على مدار السرطان تكون فى فصل .....

٧- دوران الأرض حول نفسها يسمى بالدورة .....

### السؤال الثالث: ضع علامة (✓) أمام العبارة الصحيحة وعلامة (x) أمام العبارة الغير صحيحة:

١- تتعامد الشمس على دائرة الاستواء فى فصل الربيع

٢- تهب رياح الخماسين فى فصل الربيع

٣- تعد محافظة المنيا من المحافظات التى تصل درجة حرارته إلى صفر فى فصل الربيع

٤- يكون الجو حار وجاف فى فصل الصيف

٥- لا تؤثر المرتفعات والمنخفضات والجبال على درجة الحرارة

٦- نسيم البحر يلطف من درجات الحرارة

٧- تسبب رياح الخماسين تلف المحاصيل الزراعية

٨- تقع مدينة الاسكندرية فى الإقليم الصحراوى

٩- يتميز إقليم البحر المتوسط باعتدال المناخ وسقوط الامطار شتاءً

١٠- يتساوى عدد ساعات الليل والنهار فى فصل الصيف والربيع

### السؤال الرابع: ما النتائج المترتبة على:

١- تكون الثلوج على قمم جبال سانت كاترين

٢- تعامد الشمس على مدار السرطان فى شهر اغسطس

٣- تعامد الشمس على مدار الجدى فى شهر إبريل

السؤال الخامس : ضع خطاً تحت الإجابة الصحيحة .

١-تتعتمد أشعة الشمس على دائرة الاستواء .....

(الصيف - الخريف - الشتاء )

٢-معظم أراضي مصر تقع في .....

(الاقليم الصحراوي - الاقليم الاستوائي - اقليم البحر المتوسط )

٣-يكون النهار أطول من الليل في فصل .....

(الخريف - الشتاء - الصيف - الربيع)

٤-تنشط رياح الخماسين في مصر في فصل .....

(الصيف - الربيع - الخريف - الشتاء )

٥-دائرة العرض التي تمر بمصر هي .....

( خط الاستواء - مدار السرطان - مدار الجدى )



## تدريبات على الدرس الخامس النبات الطبيعى والحيوانات البرية فى بلدى

السؤال الأول: اختر الإجابة الصحيحة مما بين الأقواس:

١- من الحيوانات التى تنتشر بالقرب من الدلتا .....

(الجمال - الثعالب - الغزال - ابو قردان)

٢- تنمو أشجار التين والزيتون فى .....

( الصحارى - الجبال - الوادى - الساحل الشمالى )

٣- تقع محمية الزرانيق فى الجزء الشمالى الشرقى من بحيرة .....

(البردويل - المنزله - البرلس - مريوط)

٤- من الحيوانات المهددة بالانقراض.....

(الغزال -الجمال - اليربوع - الذئب)

السؤال الثانى: اجب

١- بم تفسر تنوع النباتات الطبيعية فى مصر؟

.....

٢- اذكر الأخطار التى تهدد الحياة البرية فى مصر؟

.....

٣- بم تفسر انشاء محمية الزرانيق؟

.....

السؤال الثالث: ما النتائج المترتبة على:

١- تنوع المناخ فى مصر

.....

السؤال الرابع: اكمل:

١- البردية التى كتب فيها ٢٦٠ وصفة طبية هى بردية .....

٢- البردية التى كتب فيها ٨٧٧ وصفة طبية تسمى .....

٣- تنمو أشجار الزيتون فى .....

٤- من النباتات التى تتحمل الجفاف هى .....

٥- من الحيوانات التى تتحمل الجفاف هى .....

## تدريبات الدرس السادس

### التغيرات المناخية وأثرها على بلدى

#### س ١ : اختر الإجابة الصحيحة مما بين القوسين :

- ١- من العوامل البشرية للتغيرات المناخية :  
( الانفجارات البركانية - إزالة الغابات - تغيرات الإشعاع الشمسى - ظاهرة الشروق والغروب )
- ٢- موت الشعب المرجانية يؤثر على العاملين فى مجال :  
( الزراعة - الصناعة - الرعى - السياحة )
- ٣- السبب الرئيسى فى ارتفاع مستوى سطح البحر هو :  
( المد واجزر - سرعة الرياح - سقوط الأمطار - ذوبان الجليد فى القطبين )
- ٤- ارتفاع مستوى المياه فى البحار يؤدي إلى :  
( تآكل الشواطىء - سقوط الأمطار - هبوب الرياح - الانفجارات البركانية )
- ٥- من العوامل الطبيعية للتغيرات المناخية :  
( إزالة الغابات - حرق الوقود - استخدام المبيدات - الانفجارات البركانية )

#### س ٢ : اكتب كلمة صواب أمام العبارة الصحيحة وكلمة ( خطأ ) أمام العبارات غير الصحيحة :

- ١- ارتفاع نسبة غاز ثانى أكسيد الكربون يؤثر على المناخ . ( )
- ٢- ذوبان الجليد فى القطبين يسبب ارتفاع منسوب مياه البحار . ( )
- ٣- إزالة الغابات من العوامل الطبيعية التى تسبب التغيرات المناخية . ( )
- ٤- التغيرات المناخية تؤدي إلى ظهور العديد من الأمراض . ( )
- ٥- تقوم مصر بجهود كبيرة لمواجهة التغيرات المناخية . ( )
- ٦- يؤدي ذوبان الجليد فى القطبين إلى ارتفاع المياه فى البحار . ( )

#### س ٣ : أجب عن الأسئلة التالية :

- ١- اذكر اجراء واحد قامت به مصر لمواجهة التغيرات المناخية .  
.....
- ٢- ماذا تتوقع إذا ذاب الجليد فى القطبين.  
.....
- ٣- اكتب نتيجة واحدة تترتب على زيادة انبعاثات الغازات الدفيئة مثل ثانى أكسيد الكربون .  
.....

## شخصيات مصرية مؤثرة

### السؤال الأول: اذكر

١- أهم أعمال الملك تحتمس الثالث

.....

.....

.....

### السؤال الثاني: اكمل:

- ١- استطاع ان يبسط نفوذه على مصر حتى بلاد .....
- ٢- تولى تحتمس الحكم بعد وفاة .....
- ٣- كون الملك ..... أول امبراطورية فى التاريخ
- ٤- استطاع ان يسيطر على سوريا وفلسطين بعد معركة .....

### السؤال الثالث: ما النتائج المترتبة على:

١- معركة مجدو

- ٢- اهتمام تحتمس الثالث بالجيش
- ٣- اهتمام تحتمس الثالث بالعمران

### السؤال الرابع:

١- اذكر أهم أعمال الملك مينا؟

.....

.....

.....

### السؤال الخامس

١- اذكر القاب الملك مينا

.....



## تدريبات على درس الحاجات و الموارد الاقتصادية

### السؤال الاول : اكمل

- ١-للانسان .....متعددة يسعى لاشباعها
- ٢-من الحاجات الاساسية الحاجة الى.....
- ٣-لكي نشبع حاجتنا لابد من وجود.....
- ٤-من انواع الموارد الحرة.....

### السؤال الثانى :اكتب كلمة صح امام العبارة الصحيحة وكلمة خطأ امام العبارة

#### الخطأ

- ١-يسعى الانسان دائما لاشباع حاجاته ( )
- ٢-ماء البحر من الموارد التى تفى بحاجات السكان وتسبب مشكلة ( )
- ٣-التقليل من الوجبات السريعة يحافظ على المال ( )
- ٤-اذا زاد عدد السكان عن الموارد المتاحة تحدث مشكلة اقتصادية ( )

### السؤال الثالث :اكتب ما تشير اليه كل عبارة مما يلى

- ١-شعور بالحرمان يدفع الفرد الى محاولة اشباع هذا الحرمان ( )
- ٢-الموارد التى لا تكفى اشباع حاجات السكان ( )
- ٣-زيادة معدل نمو السكان عن معدل زيادة الموارد الاقتصادية المتاحة ( )

### السؤال الخامس بم تفسر

#### ١-اهمية الحاجات الاساسية ؟

.....

.....

#### ٢-حدوث المشكلة الاقتصادية؟

.....

.....

### السؤال السادس

اذكر ثلاثة من السلوكيات التى تجعلنا نحافظ على المال

## تدريبات على درس الموارد المائية في بلدي

### السؤال الأول: أكمل العبارات الآتية:

- ١- تعتمد الزراعة في الساحل الشمالي لمصر على مياه .....
- ٢- من موارد المياه المالحة في مصر البحر ..... و ..... وخليج .....
- ٣- يصب فرعاً رشيداً ودمياط في .....
- ٤- بحيرة ..... من مصادر المياه العذبة في مصر.
- ٥- من أهم الترع التي حفرت للاستفادة من مياه نهر النيل ترعة ..... وترعة .....

### السؤال الثاني : أكتب ماتشير إليه العبارات التالية:

- ١- عبارة عن كتلة صخرية قادرة على تخزين المياه. (.....)
- ٢- البحر الذي يصب فيه نهر النيل بفرعيه رشيد ودمياط. (.....)
- ٣- مصدر للمياه العذبة تعتمد عليه الزراعة في الساحل الشمالي. (.....)
- ٤- أكبر محطة لتحلية المياه في العالم. (.....)
- ٥- أكبر الخزانات الجوفية في مصر لإحتوائه على كمية كبيرة من المياه. (.....)

### السؤال الثالث : اختر الجابة الصحيحة مما بين القوسين:-

- ١- من أمثلة المياه المالحة على سطح الأرض .....  
(المحيط الهندي - نهر النيل - جليد القطبين - كل ما سبق )
- ٢- تعتمد الزراعة في الساحل الشمالي لمصر على مياه .....  
(نهر النيل - البحر الأحمر - الأمطار - البحر المتوسط)
- ٣- نستخرج من المياه المالحة .....  
(الحديد - الأخشاب - الغاز الطبيعي - البلاستيك)
- ٤- محطة ..... هي أكبر محطة تحلية مياه في العالم .  
(شرق العوينات - العين السخنة - عين الصيرة - شمال القاهرة)
- ٥- يسمى كوكب الأرض الكوكب .....  
(الأحمر - الأخضر - الأزرق - الأبيض)



## الدرس الثالث: الموارد المعدنية في بلدي

### تدريبات على درس الموارد المعدنية



#### السؤال الأول: أكمل العبارات التالية :

- (١) صنع المصري القديم الأسلحة من معدن .....
- (٢) استخدم المصري القديم الذهب والفضة في صناعة ..... و .....
- (٣) يُستخرج معدن المنجنيز من ..... في جنوب سيناء ويدخل في صناعة .....
- (٤) يُستخدم الفوسفات في صناعة ..... و ..... في حين يستخرج من منطقتي ..... و ..... بوادي النيل
- (٥) يتم استخراج المعادن بطريقتين هما ..... و .....
- (٦) استخدم المصري القديم في العصر الحجري القديم حجر ..... في صنع ادواته

#### السؤال الثاني: بم تفسر :

- (١) أهمية النشاط التعديني والصناعات المرتبطة به

.....

- (٢) الأهمية الاقتصادية لمعدن الفوسفات

.....

- (٣) أهمية حجر الصوان في العصر الحجري القديم

.....

- (٤) أهمية معدن الحديد

.....

#### السؤال الثالث: ضع علامة (✓) أمام العبارة الصحيحة أو علامة (x) أمام العبارة غير الصحيحة :

- (١) كانت الأدوات في العصر الحجري الحديث تتميز بالبساطة وكبر حجمها ( )
- (٢) يوجد الحديد في واحة الخارجة ويستخدم في صناعة البويات ( )
- (٣) صنع المصري القديم السيوف البرونزية في عصر المعادن ( )
- (٤) يساهم التعدين في زيادة الدخل القومي ( )
- (٥) يتم نقل المعادن باستخدام الطائرات ( )

# مصادر الطاقة في بلدي

## الدرس الرابع

### تدريبات على درس مصادر الطاقة في بلدي

#### اكمل العبارات الآتية :

- ١- تتجه مصر لفصل الهيدروجين من الماء باستخدام ..... لتوفير الكهرباء النظيفة بدون انبعاث ..... الملوث للهواء .
- ٢- اكتشف المصري القديم ..... في العصر الحجري القديم و استخدمها للتدفئة .
- ٣- تمتلك مصر مصادر طاقة غير متجددة مثل ..... و .....
- ٤- يستخرج الفحم من منجم ..... شمال سيناء و يستخدم في .....
- ٥- يستخرج البترول من خليج ..... وشمال ..... و يستخرج منه مشتقات عديدة مثل ..... و .....
- ٦- من مصادر الطاقة المتجددة ..... و ..... و .....
- ٧- اول من استفادوا بالطاقة الشمسية في التدفئة هم .....
- ٨- تم اختيار قريه ..... في محافظة ..... لتنفيذ اكبر مشروع لانتاج الطاقة الشمسية
- ٩- استخدم المصري القديم الرياح في .....
- ١٠- تعتبر محطه ..... بالبحر الاحمر اكبر محطه توليد كهرباء من الرياح في الشرق الاوسط وشمال .....

#### ما المقصود :

- ١- الهيدروجين الاخضر

- ٢- الطاقة الكهرومائية

#### بم تفسر :

- ١- اتجاه مصر لانتاج الهيدروجين الاخضر

- ٢- مصر من اغني الدول بالطاقة الشمسية

.....  
.....  
٣- اهميه محطه جبل الزيت

.....  
.....  
٤- الاهميه الاقتصاديه لمصادر الطاقه في مصر

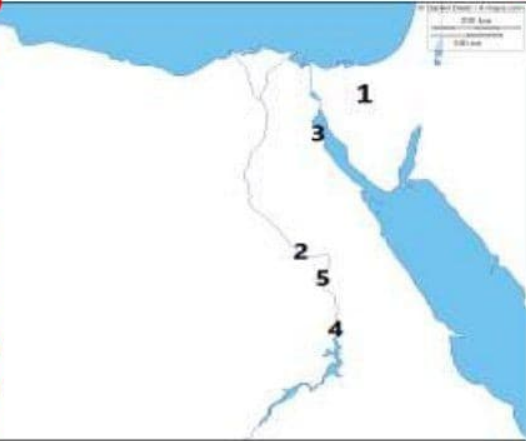
### ماالعلاقه بين :

.....  
.....  
١- مصادر الطاقه و الدخل القومي

.....  
.....  
٢- الموقع الفلكي و الطاقه الشمسيه

### امامك خريطه صماء لمصر وضح مدلول الارقام :

١. منطقه لاستخراج الفحم .....
٢. محطه توليد الطاقه الكهرومانيه .....
٣. خليج .....
٤. السد .....
٥. خزان .....



## تدريبات علي الدرس الخامس اختراع النقود وتطورها

### السؤال الأول . أكتب ما تشير إليه العبارات الآتية ؟

- ١-تبادل سلعة بسلعة أخرى (.....)
- ٢-النقود التي ظهرت بسبب عيوب النقود المعدنية (.....)
- ٣-البنك المسئول عن إصدار النقود في مصر (.....)
- ٤-أخذ السلع والخدمات مقابل الحصول على العملات (.....)

### السؤال الثاني . بم تفسر ؟

- ١-اختراع الإنسان النقود؟.....
- ٢-للبنك المركزي أهمية كبيرة في كل دولة ؟.....
- ٣-لنظام المقايضة صعوبات متعددة ؟.....

### السؤال الثالث . أكمل العبارات الآتية

- ١-تم اختراع .....لتسهيل عملية البيع والشراء
- ٢-من عيوب النقود .....صعوبة حملها
- ٣-بدأ البنك .....في إصدار النقود الورقية في مصر عام ١٨٩٩م
- ٤-عام ١٩١٤ م صدر مرسوم لجعل النقود .....هي العملة الرسمية في مصر
- ٥-المسئول عن إصدار النقود في مصر هو .....

### السؤال الرابع . صوب ما تحته خط ؟

- ١-تطورت النقود من سلعية إلى إلكترونية إلى ورقية
- ٢-من مشكلات النقود الورقية صعوبة حملها
- ٣-للمقايضة فوائد متعددة منها حفظ واستثمار النقود
- ٤-بعد اكتشاف الإنسان للمعادن بدأت الدولة تتخذ عملتها من الورق



## السؤال الخامس .ما النتائج المترتبة على ؟

١-مشكلة صعوبة حمل النقود المعدنية ؟.....

٢-إنشاء البنك المركزى ؟.....

## السؤال السادس .ضع علامة ( صح )أو (خطأ ) أمام العبارات الآتية

- ١- لكل دولة عملة محددة خاصة بها ( )
- ٢-ظهرت النقود الورقية قبل النقود المعدنية ( )
- ٣-المسنول عن إصدار النقود هو بنك مصر ( )
- ٤-سهلت النقود عملية البيع والشراء ( )
- ٥-بدأ البنك الأهلى فى إصدار النقود الورقية لأول مرة عام ١٨٩٩م ( )



## تدريبات على درس الانتاج و الاقتصاد

### السؤال الاول : اكمل العبارات الاتية

- ١- تتعدد الانشطة الاقتصادية فى مصر ومنها ..... و..... و.....
- ٢- من أنشطة الخدمات ..... و..... و.....
- ٣- يتضمن النشاط الزراعى فى مصر..... و.....
- ٤- ينقسم النشاط الصناعى الى ..... و.....

### السؤال الثانى: اكتب كلمة صح امام العبارة الصحيحة وكلمة خطأ امام العبارة الخطأ

- ١- المبلغ الاجمالى للاموال التى تحققها الدولة فى عام معين يسمى الانتاج القومى ( )
  - ٢- التجارة الداخلية تتمثل فى البيع والشراء بين مصر ودول العالم ( )
  - ٣- التعليم والصحة من أنشطة الخدمات فى مصر ( )
  - ٤- يسهم النشاط الصناعى بنحو ربع الدخل القومى لمصر ( )
- السؤال الثالث : اكتب ما تشير اليه كل عبارة مما يلى

- ١- صناعات يتم خلالها تحويل المواد الخام الى منتجات (.....)
- ٢- يشمل الآلات والادوات التى تستخدم فى الانتاج (.....)
- ٣- أنشطة ظهرت بعد التقدم العلمى وتسهم بنحو ١٥% من الدخل القومى لمصر (.....)

### السؤال الرابع : دلل على صحة العبارات الاتية

- ١- تعدد الانشطة الاقتصادية ؟

- ٢- يتطلب كل نشاط اقتصادى مجموعة من العناصر الخاصة؟

السؤال الخامس :بم تفسر

١- الادارة عنصر مهم فى نجاح النشاط الاقتصادى؟

.....  
.....

.....  
٢- اهمية الايدى العاملة فى النشاط الاقتصادى؟

.....  
.....

.....

صفحة وجروب عاشق لغة الضاد مستر-رضا نصار

## تدريبات على درس الزراعة بين الماضي و الحاضر في بلدي

### السؤال الاول : أكمل العبارات التالية

- ١- تحتفل مصر بعيد الفلاح يوم التاسع من شهر ..... من كل عام
- ٢- قسم المصريون القدماء السنة الزراعية لـ ..... فصول متساوية وهي فصل الفيضان وفصل ..... وفصل .....
- ٣- كان فصل الفيضان يسمى ..... ويبدأ من منتصف شهر ..... حتي منتصف شهر .....
- ٤- كان فصل البذر يسمى ..... ويبدأ من منتصف شهر ..... حتي منتصف شهر .....
- ٥- كان فصل الحصاد يسمى ..... ويبدأ من منتصف شهر ..... حتي منتصف شهر .....
- ٦- أقام المصريون القدماء ..... علي نهر النيل لتخزين مياه الفيضان.
- ٧- شيد المصريون سد اللاهون بالقرب من الفيوم في عهد الملك .....
- ٨- شق المصريون القدماء الترعة مثل ترعة ..... التي وصلت مياه نهر النيل لمنخفض الفيوم.
- ٩- استخدم المصريون ..... و ..... لرى الاراضى الزراعية و ..... لرفع المياه.
- ١٠- انشأ المصريون القدماء ..... لتحديد ارتفاع مياه النيل وتحديد .....
- ١١- أقام المصريون القناطر مثل ..... و ..... علي مجرى النيل و القناطر ..... علي رأس الدلتا.
- ١٢- أقيمت قناطر ..... علي فرع دمياط و قناطر ..... علي فرع رشيد
- ١٣- تم بناء خزان ..... عام ١٩٠٢
- ١٤- استخدم المصريون انظمة حديثة لرى مثل ..... و .....
- ١٥- استخدم المصريون القدماء العديد من أدوات الزراعة مثل ..... و ..... و .....
- ١٦- من المحاصيل التي زراعتها المصريون القدماء ..... و ..... و .....
- ١٧- من الصناعات التي تعتمد علي المواد الخام الزراعية صناعة .....
- ١٨- من المشروعات الجديدة للاستصلاح الاراضي مشروع ..... في الساحل الشمالي الغربي المصري
- ١٩- يعتمد مشروع ..... علي المياه الجوفية.
- ٢٠- اقامت الدولة مشروع ..... في واحة الفرافرة بالصحراء الغربية.

### السؤال الثاني : ضع علامه صح أو خطأ

- ١- قسم المصريون القدماء السنة الزراعية الي ٤ فصول. ( )
- ٢- بني المصريون القدماء سد اللاهون في عهد الملك امنمحات الثالث ( )
- ٣- حفر المصريون القدماء ترعة الاسماعيلية لتوصيل مياه النيل لمنخفض الفيوم . ( )
- ٤- انشأ المصريون القدماء مقاييس عالين لتحديد مقدار الضرائب. ( )
- ٥- تم بناء قناطر زفتي علي فرع دمياط وقناطر أدفينا علي فرع رشيد. ( )
- ٦- ري الحياض من انظمة الري الحديثة. ( )

- ٧- استخدم المصريون القدماء الفأس لحصاد المحصول. ( )
- ٨- من المحاصيل التي زراعتها المصريون القدماء القمح والعنب والتين ( )
- ٩- من مشروعات استصلاح الاراضى مشروع الدلتا الجديدة علي الساحل الشرقى المصرى ( )
- ١٠- القمح محصول صيفي ويحتاج لحرارة مرتفعة ( )
- ١١- يعتمد مشروع شرق العوينات علي المياه الجوفية ( )
- ١٢- تتركز زراعة الارز في شمال الدلتا ( )
- ١٣- أكبر المحافظات إنتاجاً للقمح محافظة البحيرة والشرقية واسيوط ( )
- ١٤- تنتشر زراعة الارز في محافظة الدقهلية والشرقية وكفر الشيخ ( )
- ١٥- القطن محصول صيفي و يعد من اجود انواع القطن فى العالم ( )
- ١٦- قصب السكر محصول شتوى ويزرع فى محافظات الوجه لبحرى ( )
- ١٧- تنتشر زراعة القمح والارز والقطن فى محافظة الشرقية ( )
- ١٨- بدأ العمل فى بناء السد العالى فى عهد الرئيس الراحل جمال عبد الناصر ( )
- ١٩- يحتاج الارز لتربة طينية خصبة ثقيلة تحتفظ بمياة الرى ( )
- ٢٠- ساعد السد العالى علي حماية مصر من خطر الفيضان والجفاف ( )

### السؤال الثالث بم تفسر :

١-انشاء القدماء المصريين للمقاييس علي النيل

.....

٢-زراعة القطن في معظم محافظات مصر الزراعية

.....

٣-اهمية الزراعة للاقتصاد المصري

.....

٤-اهمية ترعة بحر يوسف

.....



## تدريبات درس الثروة الحيوانية و السمكية فى بلدى

### السؤال الأول: أكمل العبارات الآتية بكلمات مناسبة

- ١- اصطاد المصري القديم الحيوانات فوق الهضاب من أجل ..... و .....
- ٢- عرف المصريون الخيول بعد دخول ..... مصر
- ٣- محافظة ..... هي الأولى في إنتاج الأسماك في مصر.
- ٤- يوجد مشروع ..... في محافظة بورسعيد.
- ٥- الثروة الحيوانية توفر ..... للسكان.

### السؤال الثانى اكتب كلمة ( صح ) أمام العبارة الصحيحة وكلمه ( خطأ ) أمام العبارة الخاطئة :

- ١- عرف المصري القديم الزراعة وهو يعيش فوق الهضاب ( )
- ٢- من الحيوانات التي قام بتربيتها المصري القديم الأبقار والأغنام. ( )
- ٣- من المصايد الطبيعية في مصر المزارع السمكية. ( )
- ٤- الثروة الحيوانية والسمكية مصدر للدخل القومي. ( )
- ٥- مصر الأولى إفريقيا في إنتاج الأسماك من المزارع السمكية. ( )

### السؤال الثالث بم تفسر

١- للثروة الحيوانية أهمية كبيرة

٢- قيام المصري القديم بتربية الحيوانات.

٣- قيام المصري القديم بصيد الحيوانات وهو يعيش فوق الهضاب.

### السؤال الرابع ما النتائج المترتبة على :

١- نزول المصري القديم إلى وادي النيل

٢- تنمية الثروة الحيوانية والسمكية بالنسبة للبطالة.



## تدريبات الصناعة بين الماضي و الحاضر في بلدي

### اكمل العبارات الاتيه :

١. صنع المصري القديم الاواني الفخاريه من .....
٢. برع المصري القديم في صناعه ..... من الرمال البيضاء
٣. صنع المصري القديم ملابس من .....و.....
٤. صنع من نبات البردي .....و.....و.....
٥. كانت الصناعات القديمه ..... وتتم داخل ورش صغيره
٦. من اشهر الصناعات قديما .....و.....
٧. تعتمد الصناعات الحديثه حاليا علي .....
٨. من اهم الصناعات الموجوده حاليا في مصر .....و.....
٩. قامت الدوله بانشاء العديد من المدن الصناعيه المتخصصه مثل مدينه .....في محافظه القاهره
١٠. تعمل الدوله علي انشاء مجمعات صناعيه ..... تعتمد علي مصادر الطاقه المتجدده

### بم تفسر :

١. للصناعه اهميه كبيره في مصر

٢. اهميه نبات البردي عند قدماء المصريين

٣. تعمل الدوله علي انشاء مجمعات صناعيه صديقه للبيئه

### ما العلاقه بين :

١. الرمال البيضاء و صناعه الزجاج

٢. طمي النيل و الصناعات الفخاريه

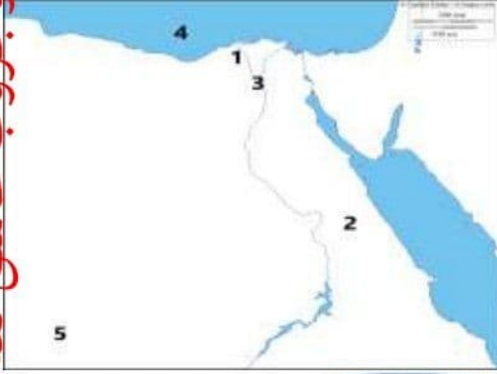
٣. مصادر الطاقه المتجدده و الاحتباس الحراري

## اكتب ما تشير اليه العبارات :

١. صناعه مصريه قديمه اعتمدت علي ظمي النيل  
(.....)
٢. نوع من المحاصيل صنع منه المصري القديم ملابس  
(.....)
٣. مدينه بمحافظة القاهره متخصصه في صناعه الجلود  
(.....)
٤. صناعه مصريه قديمه اعتمدت علي الرمال البيضاء المنتشره بالصحاري المصريه  
(.....)

### وضح مدلول الارقام على الخريطة :

١. فرع .....
٢. الصحراء .....
٣. محافظه بها مدينه الجلود .....
٤. البحر .....
٥. هضبه .....



## تدريبات درس " التجارة بين الحاضر والماضي في بلدي "

### السؤال الأول : اكتب كلمة ( صواب ) أمام العبارة الصحيحة وكلمة ( خطأ ) امام العبارة غير الصحيحة :

- ١- كانت لمصر قديماً علاقات تجارية مع حضارة الصين . (.....)
- ٢- ارتبطت مصر بالهند قديماً تجارياً بطريق التوابل . (.....)
- ٣- لدي مصر فائض في الميزان التجاري حالياً . (.....)
- ٤- قناة السويس تعتبر من أهم الموانئ التجارية قديماً . (.....)
- ٥- أصبحت لمصر علاقات تجارية مع معظم دول العالم مثل إيطاليا وألمانيا (.....)

### السؤال الثاني : ما المقصود بـ..؟

الميزان التجاري

### السؤال الثالث : اختر الإجابة الصحيحة مما بين القوسين :-

- ١- ارتبطت رحلات حتشبسوت التجارية والتي صورتها علي معبدها في الأقصر بدولة ..... حالياً .

(السودان - لبنان - سوريا - الصومال)

٢- المدينة المصرية القديمة والتي كانت مركز التواصل الحضاري مع دول أوروبا هي .....

( الأقصر - الإسكندرية - منف - دمياط )

٣- منتج كانت مصر تصدره قديماً والآن تقوم باستيراده هو .....

(المعادن - الحبوب - الآلات - البلاستيك )

٤- عندما تكون الصادرات أقل من الواردات فإن الميزان التجاري يكون في حالة ( عجز - فائض - زيادة - تعادل ) .....

٥- أحد الصادرات المصرية الحديثة والتي تدل علي جودة التصنيع المصري .....  
( الفوسفات - الملابس - الغاز الطبيعي - الفواكه )

#### السؤال الرابع : اكتب ما تشير إليه كل عبارة مما يأتي :-

١- طريق تجاري اشتهر بربط مصر بقارات العالم القديم وحضاراته كحضارة الصين القديمة وحضارة الهند والعراق القديمة (.....)

٢- طريق تجاري اشتهر نتيجة ازدهار تجارة التوابل بين افريقيا واوروبا (.....)

٣- قناة مائية تصل البحر الأحمر بالبحر المتوسط وتعد من أهم الممرات المائية في العالم . (.....)

٤- الفرق بين قيمة واردات الدولة وصادرتها (.....)

#### السؤال الخامس : قارن بين صادرات مصر قديماً وحديثاً .

| صادرات مصر قديماً | صادرات مصر حديثاً |
|-------------------|-------------------|
|                   |                   |

#### السؤال السادس : بم تفسر ...؟

١- أهمية قناة السويس

٢- تسعى الدولة لتشجيع المواطنين علي شراء المنتجات المصرية

#### السؤال السابع : ما النتائج المترتبة علي ...؟

١- صادرات مصر أقل من واردتها



٢- شراء المواطنين المنتجات المصرية وتقليل الاستيراد

### السؤال الثامن :دلل على صحة العبارتين الآتيتين :-

١- للدولة جهود لتطوير الموانئ التجارية

٢- موقع مصر الجغرافي له أهمية تجارية

### السؤال التاسع :صوب ما تحته خط :-

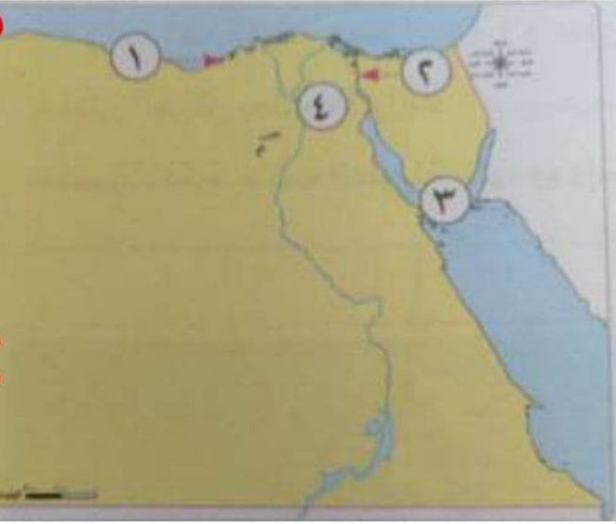
١- كانت بلاد النوبة تتواصل مع مصر عن طريق البحر المتوسط (.....)

٢- اشتهرت مصر قديماً بتصدير الحرير (.....)

٣- قناة السويس تعتبر أهم طريق برى في العالم (.....)

٤- نظمت الملكة نفرتيتي رحلة تجارية إلى بلاد بونت (.....)

السؤال العاشر : أمامك خريطة صماء اكتب مدلول الأرقام الواقعة عليها :



١- يشير رقم ( ) إلى مطار القاهرة .

٢- يشير رقم ( ) إلى مطار شرم الشيخ .

٣- يشير رقم ( ) إلى قناة السويس .

٤- يشير رقم ( ) إلى ميناء الاسكندرية .

## تدريبات علي الوحدة الثالثة

### السؤال الأول : اختر الإجابة الصحيحة مما بين القوسين :-



- ١- صناعة من خلالها يتم تحويل الأخشاب إلى أثاث هي صناعة .....
- ( استخراجية - تحويلية - تحفيزية - استبدالية )
- ٢- استخدمها المصريون القدماء لفصل الحبوب من القش .....
- ( الفأس - المنجل - المحراث - المذراة )
- ٣- أحد مشروعات التنمية الزراعية في مصر يقع جنوب الصحراء الغربية .....
- ( الدلتا الجديدة - شرق العوينات - الفرافرة - الفيروز )
- ٤- تحتل مصر المركز ..... في إنتاج الأسماك علي مستوى العالم
- ( الأول - الثاني - الخامس - السادس )
- ٥- اشتهرت مصر بتربية الحيوانات خاصة في جهتها .....
- ( الشمالية - الجنوبية - الشرقية - الغربية )

### السؤال الثاني : اكتب كلمة ( صواب ) أمام العبارة الصحيحة وكلمة ( خطأ ) أمام العبارة غير الصحيحة :-

- ١- زيادة حجم المنتجات التي نستوردها عن المنتجات التي تصدرها تسبب فائضاً في الميزان التجاري (.....)
- ٢- أصبحت لمصر علاقات تجارية مع معظم دول العالم مثل المملكة المتحدة وإيطاليا (.....)
- ٣- تأتي مصر في المركز السابع عالمياً في الإنتاج السمكي (.....)
- ٤- تعتبر المهن والحرف من الأنشطة الاجتماعية (.....)
- ٥- صنع المصري القديم ملابسه من الكتان في أثناء عيشه فوق الهضاب (.....)
- ٦- كانت لمصر علاقات تجارية مع حضارة الصين (.....)

### السؤال الثالث : بم تفسر .....؟

- ١- تعد الإدارة من عناصر الإنتاج المهمة .

.....

٢- أهمية قطاع الزراعة بالنسبة لمصر .

.....

٣- أهمية النشاط الصناعي بالنسبة لمصر .

.....

٤- إنشاء المصريين القدماء لمقاييس علي النيل .

.....

٥- اهتمام المصريين القدماء بالطب البيطري .

٦- أهمية قناة السويس .

#### السؤال الرابع : ما المقصود بـ ....؟

١- الإنتاج القومي .

٢- الميزان التجاري .

٣- الدخل القومي .

٤- مقياس النيل .

#### السؤال الخامس : صوب ما تحته خط :-

١- ارتبطت رحلات الملكة حتشبسوت التجارية بدولة سوريا حاليًا (.....)

٢- تعد الصناعة أساس التنمية الاجتماعية . (.....)

٣- يعد بناء وتطوير المستشفيات والمدارس من الأنشطة التجارية (.....)

٤- تأتي مصر في المركز الخامس عالميًا في الإنتاج السمكي . (.....)

#### السؤال السادس : دلل على صحة العبارات الآتية :-

١- للسياسة دور بارز في الاقتصاد المصري .

٢- موقع مصر الجغرافي له أهمية تجارية

٣- تعتمد الدولة علي استخدام مصادر الطاقة المتجددة في الصناعة

.....