

PHIẾU BÀI TẬP CUỐI TUẦN 9

Ki - lô - gam

Bài 1: Điền từ “ nặng hơn” “ nhẹ hơn”



Quả dưa hấu quả dứa

Quả dứa..... quả dưa hấu

Bài 2: kg ?



4 kg



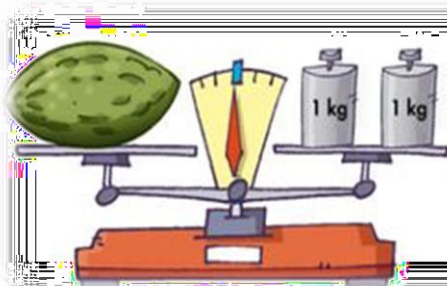
Bài 3: Trả lời câu hỏi



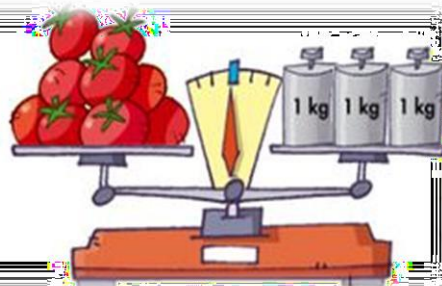
5 quả táo nặng kg



4 quả chuối nặng... kg



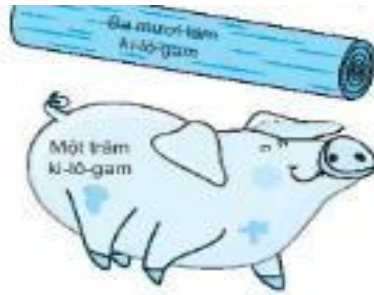
quả dưa nặng kg



cà chua nặng..... kg



Bài 4: Nói



100 kg

2 kg

35 kg



Bài 5: Tính số ki-lô-gam thóc trong hai bì ở hình dưới đây



.....
.....
.....

Bài 6: Tính nhẩm

$$13\text{kg} - 6\text{kg} = \dots$$

$$4\text{kg} + 5\text{kg} = \dots$$

$$12\text{kg} + 54\text{kg} = \dots$$

$$15\text{kg} + 34\text{kg} = \dots$$

$$22\text{kg} + 17\text{kg} = \dots$$

$$16\text{kg} - 8\text{kg} = \dots$$

Bài 7: Nam nặng 22kg, Việt nặng hơn Nam 6 kg, Mi nhẹ hơn Việt 7kg. Hỏi

a, Việt nặng bao nhiêu ki-lô-gam?

b, Mi nặng bao nhiêu ki-lô-gam?

Bài giải:

Bài 8: Dựa vào đáp án bài 7, trả lời các câu hỏi:

Nam nặng 22kg. Việt nặng kg. Mi nặngkg.

Trong ba bạn:

Bạn..... nặng nhất

Bạn..... nặng nhất




PHIẾU BÀI TẬP CUỐI TUẦN 9

Lít



Bài 1: Số



1 ca nước có thể rót đầychai nước

1 ca nước có thể rót đầycốc nước

Bài 2: Tính nhẩm

$$28 \text{ l} + 6 \text{ l} = \dots$$

$$4 \text{ l} + 9 \text{ l} = \dots$$

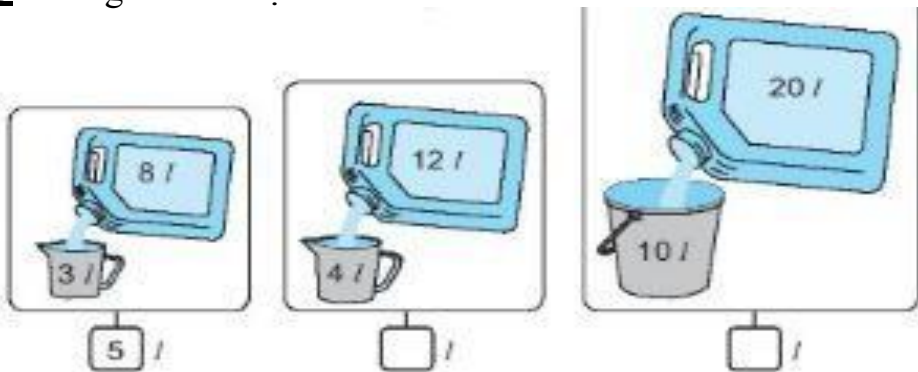
$$12 \text{ l} + 44 \text{ l} = \dots$$

$$15 \text{ l} + 34 \text{ l} = \dots$$

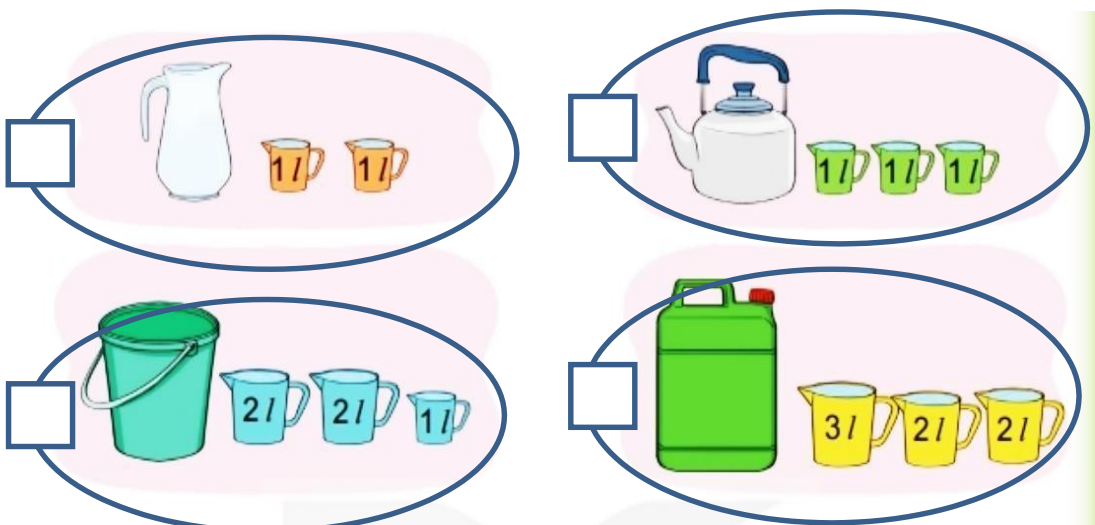
$$22 \text{ l} + 37 \text{ l} = \dots$$

$$17 \text{ l} - 8 \text{ l} = \dots$$

Bài 3: Trong can còn lại bao nhiêu lít?



Bài 4: Mỗi đồ vật đựng số lít nước bằng tổng các ca bên cạnh





Bài 5: Trong can có 15 lít dầu, mẹ đã rót ra 9 lít dầu. Hỏi trong can còn bao nhiêu lít dầu?

Bài giải:

.....

.....

.....

.....

.....

.....



Bài 6: Sau khi đổ đầy vào 2 can loại 5 lít, thì trong can còn lại 3 lít. Hỏi ban đầu trong can có tất cả bao nhiêu lít?

Bài giải:

.....

.....

.....

.....


.....

.....

.....

.....

Bài 7: Sô?



.....l

.....l

.....l



