
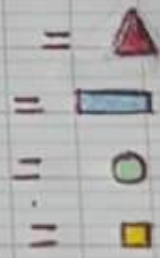




رياضيات

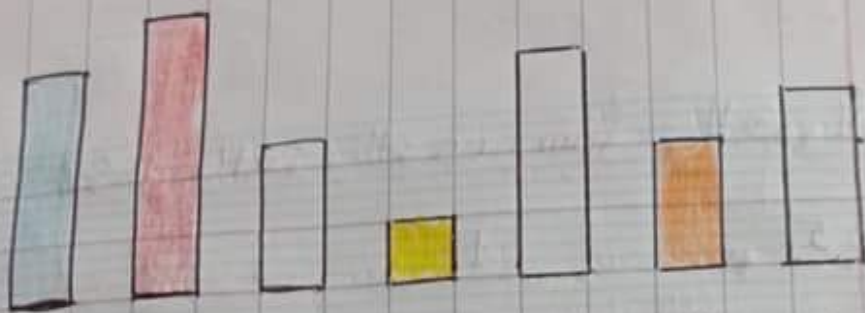


أم هالة



7 =	<table><tr><td></td><td></td></tr><tr><td></td><td></td></tr></table>				
.	<table><tr><td></td><td></td></tr><tr><td></td><td></td></tr></table>				
.	<table><tr><td>••••</td><td>••••</td></tr></table>	••••	••••		
••••	••••				

=	<table><tr><td>••••</td><td>••••</td></tr></table>	••••	••••
••••	••••		
=	<table><tr><td>••••</td><td>••••</td></tr></table>	••••	••••
••••	••••		
8 =	<table><tr><td></td><td></td></tr></table>		
10 =	<table><tr><td></td><td></td></tr></table>		



رتب المستطيلات من الأقصر إلى الأطول .

أكمل ب : أطول من / أقصر من



المستطيل الأزرق

المستطيل الأحمر

المستطيل البرتقالي

المستطيل الأصفر

ومنيعة عند يحيى 10 كرتات ؛ وعند هالة نصف ما عند يحيى .
كم كرتية تملك هالة



أم هالة


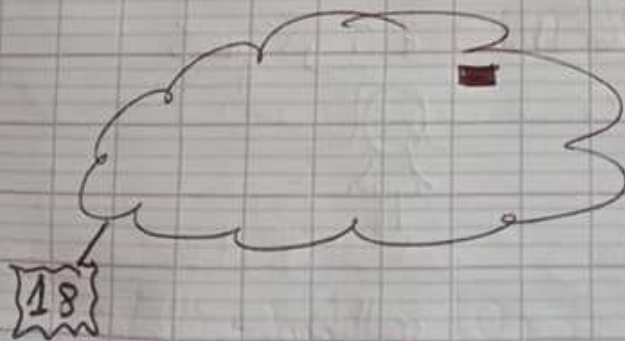

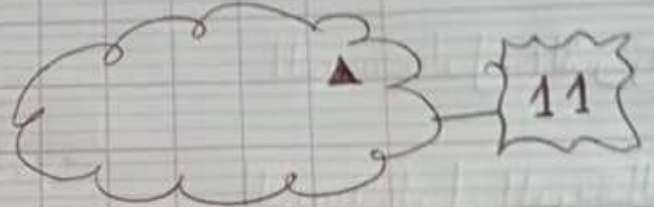
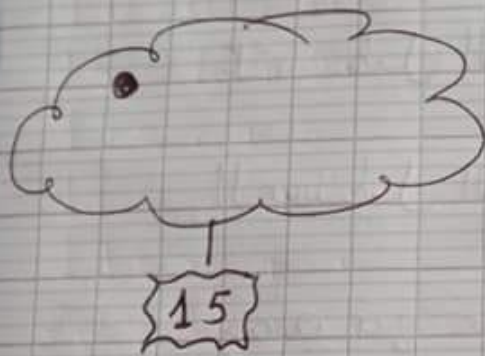
نصف 10 هو :
تملك هالة : كرتية

أكمل بالعدد الذي يسبق والعدد الذي يلي

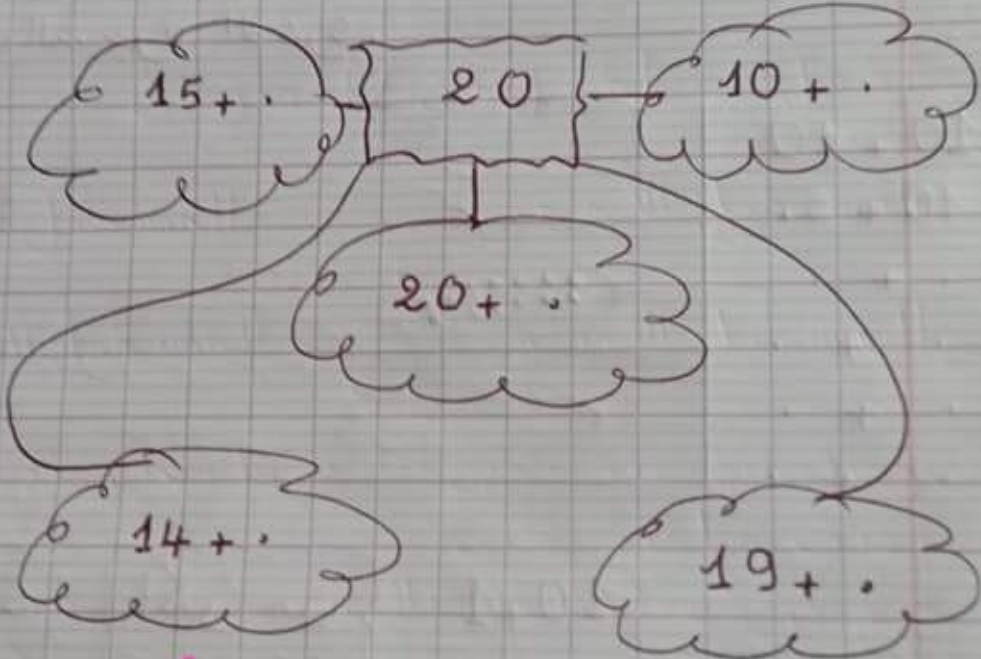
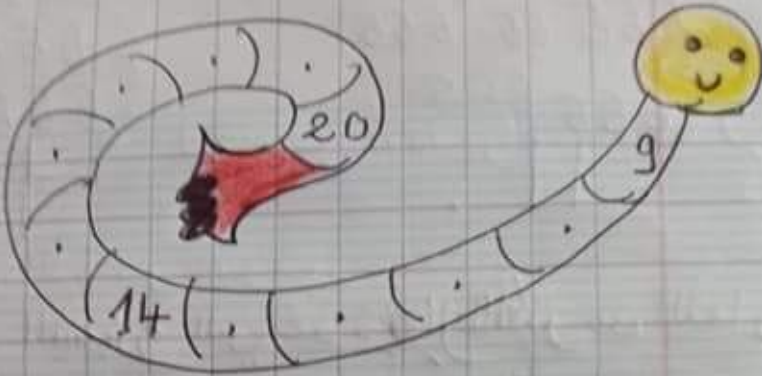
5 * 1 8

3 * 9 5

10 - عشرة ← 20 عشرون





أم هالة



أم هالة

أوجد العدد





لَوْنُ بِالْأَحْمَرِ الشَّجَرَةَ الَّتِي عَدَّ دُيُفَارَهَا أَكْثَرَ مِنَ الثَّمَارِ الْمَوْجُودَةِ

عَلَى الشَّجَرَةِ الْآخَرَى

$$10 = 10 + 0$$


$$15 = 10 + 5$$

$$13 = 10 + 3$$

$$17 = 10 + 7$$

$$19 = 10 + 9$$

$$20 = 10 + 10$$



$$10 + 1$$

أَكْبَرُ مِنْ

$$6 + 5$$

أَصْفَرُ مِنْ

بَعْدَ ر

$$7 + 7$$

يُسَاوِي

$$10 + 3$$

أَكْبَرُ مِنْ

أَصْفَرُ مِنْ

أُمُّ هَالَةَ

$10 + 9$

يُسَارِي
الْمَقْرَمِينَ
الْكَبَرَمِينَ


يُسَارِي
الْمَقْرَمِينَ
الْكَبَرَمِينَ

يُسَارِي
الْمَقْرَمِينَ
الْكَبَرَمِينَ

9 + 9



أم هالة



إِنْخِلَاق

تَسَاعِدُ الْخُودَةَ لِلْوُصُولِ إِلَى مَدَى يَقْتَضِيهَا. إِنْطِلَاقٌ

ترتيب الأعداد في الشريط العددي:

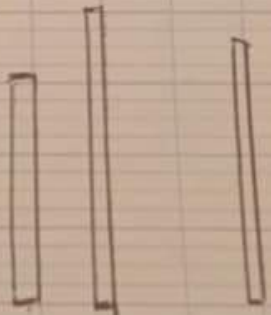
20 - 7 - 16 - 9 - 10 - 0 - 11 - 1

0 7 9 10 11 16 18 20

لوّن بالأحمر القَعْوَدَ الْأَطْوَلِ وبالأخضر

القَعْوَدَ الْأَقْصَرَ

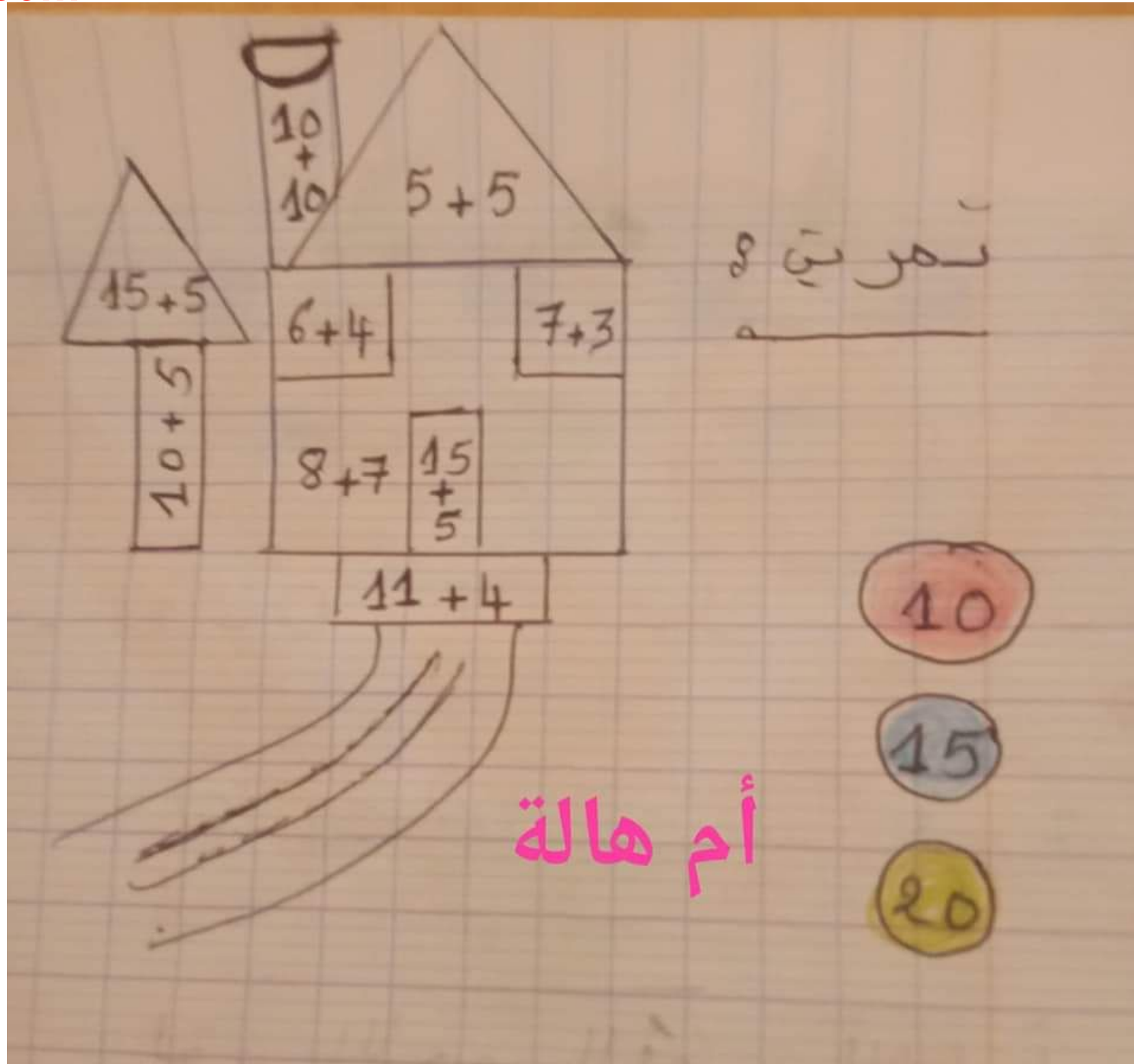
أم هالة

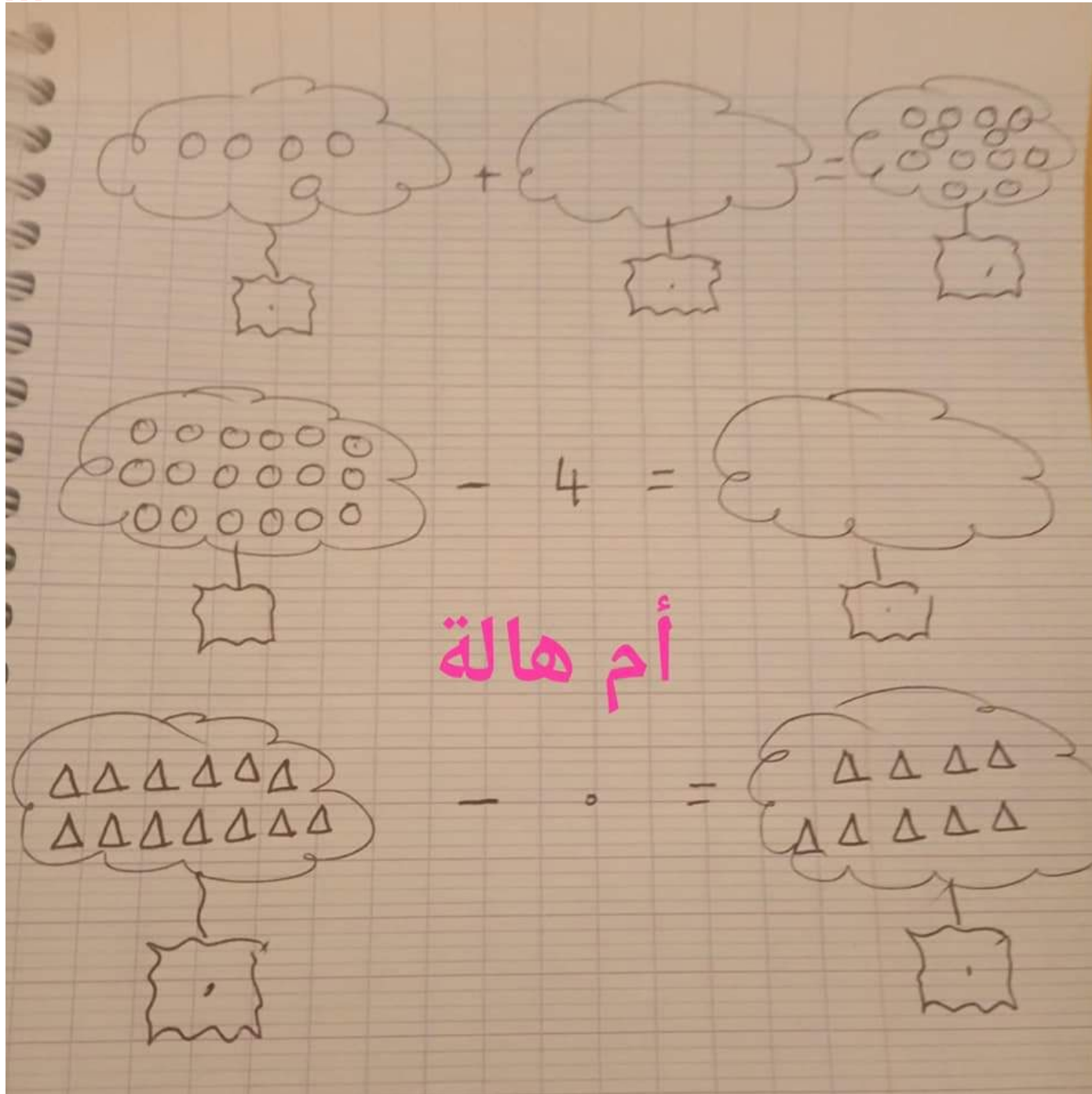


القَعْوَدُ
الْأَخْضَرُ

أَطْوَلُ مِنْ
أَقْصَرُ مِنْ

الْقَعْوَدُ الْأَخْصَرُ



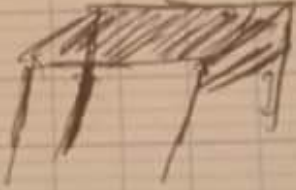


أمام - بيني - وراء



الزهرة الطفل والكُرسي

الكُرسي الطاولة



أم هالة



الكرة الدراجة

تمرين 8

$$(8 + 8)$$

أكثر من
يساوي
أقل من

$$(7 + 7)$$

$$19 + 1$$

بقدر
أكثر من
أقل من
يساوي

$$15 + 5$$

أم هالة

$$10 + 4$$

أكثر من
يساوي
أقل من

$$5 + 8$$

$$12 + 0$$

أكثر من
يساوي
أقل من

$$6 + 6$$

تفريتي

$$5 + 5 = \cdot$$

$$= 10 + \cdot$$

$$7 + 7 =$$

$$= 10 + \cdot$$

$$4 + 8 = \cdot$$

$$= 10 + \cdot$$

$$6 + 10 = \cdot$$

$$= 10 + \cdot$$

$$9 + 9 = \cdot$$

$$= 10 + \cdot$$

أم هالة

أم هالة

تفريق

$$5 + 5 = 10$$

$$= 10 + 0$$

$$7 + 7 = 14$$

$$= 10 + 4$$

$$4 + 8 = 12$$

$$= 10 + 2$$

$$6 + 10 = 16$$

$$= 10 + 6$$

$$9 + 9 = 18$$

$$= 10 + 8$$



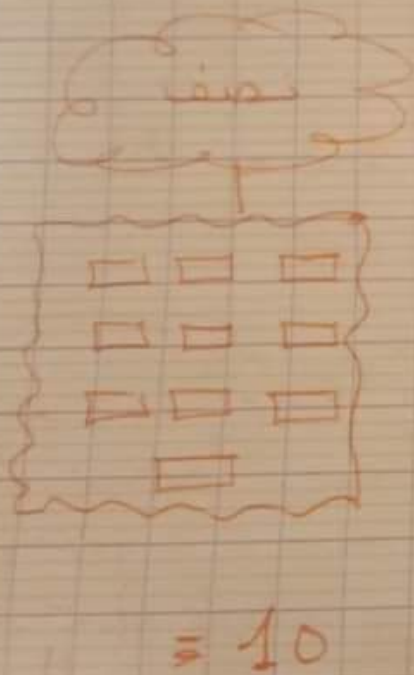
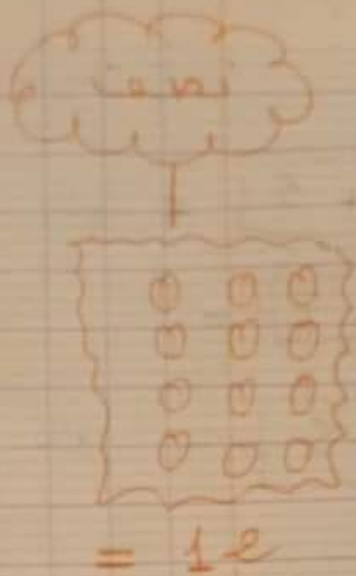
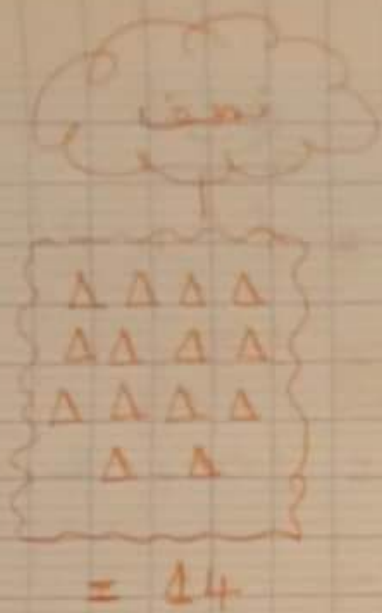
$$= \bullet + \bullet$$



$$= \bullet + \bullet$$



$$= \bullet + \bullet$$



أم هالة