

جغرافيا .. لثالثة ثانوي

مراجعة ليلة الامتحان .. وبناك أسئلة لأهم التوقعات 2018

وصفة سحرية للتفوق .. أعدها خبراء و متخصصون فى وضع الامتحانات

جامعة فاروس بالإسكندرية

Pharos University in Alexandria



١١ كلية متخصصة ومعتمدة
من المجلس الأعلى للجامعات المصرية

عضو اتحاد الجامعات العربية
عضو اتحاد الجامعات الأوروبية
عضو وكالة الجامعات الفرنكوفونية

كلية طب الأسنان



تمتص كلية طب الأسنان درجة البكالوريوس في طب وجراحة الفم والأسنان بمعتمدة ومعادلة من المجلس الأعلى للجامعات المصرية ووزارة التعليم العالي.

تشتمل المحاكاة على الأقسام الآتية:-

- بيولوجيا الفم ● باثولوجيا الفم ● طب الفم وعلاج اللثة ● تقويم الأسنان
- العلاج التحفظي والجذور والمواد الحيوية
- الاستعاضة الصناعية الثابتة والمتحركة
- طب أسنان الأطفال وصحة الفم وخدمة المجتمع

تتميز الكلية بما يلي:

- معمل المحاكاة متخصصة للتدريب قبل الإكلينيكي.
- تتضمن الكلية ٦ عيادات متكاملة للعيادة الجراحية وعيادة ال VIP لرعاية الأسنان والعلاجات الجراحية، وبها أشعة غاما وبنواسبية للصور الشعاعية واسعة مقطعية CBCT.
- قسم العمليات والتخدير العام لحالات طب أسنان الأطفال وجراحة الفم ويشتمل على: غرفة عمليات كبرى، غرفة مركزة، غرفة إطفاء، غرفة تعقيم مركزي، عدد ٢ غرفة إقامة ليوم واحد.
- عيادة الدراسات العليا - ومجهز CAD CAM الحديثة للتركيبات الثابتة (Zirconia & E-Max) - وميكروسكوب يستخدم في علاج الجذور.
- المختبر المركزي للأسنان لأعمال طب الأسنان ، والتيجان والحسور.

سنة تدريبية لطباء الامتياز بعد التخرج للحصول على ترخيص ممارسة مهنة.

تستقبل الجامعة طلاباً للتخصص في جميع العنابر المصرية والوافدين والمجولين بقمرها طوال أيام الأسبوع من الساعة ٩ صباحاً حتى الساعة ٤ مساءً (ماعدا الجمعة)

العنوان : شارع قتال الحموضية ، سموحة ، الإسكندرية
تليفون : 200 / 3877900 (+203)
www.pua.edu.eg

جغرافيا .. لثالثة ثانوى

الجمهورية

٥ ماذا يحدث إذا لم يتم ترسيم الحدود السياسية

- (١) لن يتم الفصل بين الدول .
- (٢) حدود نزاعات على الحدود .
- (٣) لم تحافظ الدولة على شخصيتها السياسية .
- (٤) استمر العمل بالتخوم

ما هي الدول التي لها حق الفيتو

الولايات المتحدة ، روسيا الاتحادية ، الصين ، فرنسا ، بريطانيا

من وجهة نظرك كيف تحافظ الدولة على شخصيتها السياسية والقانونية

- (١) منع دخول الأشخاص غير المرغوب فيهم .
- (٢) منع عبور الصحف والكاتب والتي تهدد الأمن القومي

ماذا يحدث إذا أزيلت الجوارح الجرمكية بين الدول العربية

- (١) سيتم تحقيق التكامل الاقتصادي بين الدول العربية .
- (٢) قيام تحكك اقتصادي عربي ، إنشاء سوق عربية مشتركة ، تدفق العملة ورووس الأموال .

ماذا يحدث إذا امتلت الدولة دور التكنولوجيا كامل مؤثر في قوتها

- (١) لن يتم التقليل من أثر المال الخاص على الدولة ، لن يحدث تطور في الزراعة والصناعة ، لم تحتل اليابان المركز الأول في الصناعة

ما هو الحدث العالى الأبرز تأثيراً في النظام العالى الجديد

- (١) الحدث العالى هو سقوط الاتحاد السوفييتي وفتنته إلى عدة دول وأصبحت الولايات المتحدة لها اليد العليا في كل الأحداث العالوية .

من وجهة نظرك ما أهم المبادئ التي تعتمد عليها أنظمة الحكم الديمقراطي

- (١) الفصل بين السلطات
- (٢) التداول السلمي للسلطة

أسئلة متقالية هامة جدا جدا

- (١) كان لظهور النظام العالى الجديد أثره في تغيير الخريطة السياسية العالمية في ضوء هذه العبارة .. وضع أهم الخصائص والأهداف التي يسعى النظام العالى الجديد لتحقيقها

خصائص النظام العالى الجديد :

- (١) الثورة الهائلة في وسائل الإتصال والعلوم والتكنولوجيا .
- (٢) بروز ظاهرة الاعتماد الدولى المتبادل وظهور التكتلات الاقتصادية الكبرى .
- (٣) تحرير التجارة العالمية .
- (٤) تسهيل التكتلات والقضايا التي يواجهها العالم .
- (٥) ظهور شركات متعددة الجنسيات وزيادة دور المؤسسات المالية مثل البنك الدولى .
- (٦) تقصص دور السيادة الوطنية .

أهداف النظام العالى الجديد :

- (١) المحافظة على الاستقرار العالى واحترام دور الأمم المتحدة .
- (٢) احترام سيادة كل دولة واستقلالها وعدم المساس بالوحدة الوطنية .
- (٣) نشر القيم الديمقراطية واحترام حقوق الإنسان وحق الشعوب في تقرير مصيرها .

تجربى الانتخابات في مجال السياسة

- (١) جميع مجالات المجتمع المختلفة .. هي ضوء هذه العبارة وضع :

ما هي أهداف دراسة جغرافية الانتخابات ؟

- ١- توزيع الدوائر الانتخابية .
- ٢- دراسة التباين المكاني في التصويت .
- ٣- دراسة السلوك الانتخابى للمواطنين .
- ٤- تحليل الآثار البيئية والطبيعية والبشرية والظروف الاقتصادية على السلوك الانتخابى للمرء .
- ٥- دراسة أثر الانتخابات على تغير الظروف البشرية في المنطقة .

- (٢) ماذا يحدث إذا كان هناك عدم ثقة في إجراءات وممارسة العملية الانتخابية ؟

- ١- امتناع العديد من الأفراد عن التصويت .
- ٢- عدم تحقيق مبدأ الديمقراطية السياسية .

- (٢) ماذا يقصد بالانتخابات أداة الاختيار في الدولة ؟

- ١- بمقتضاها يتم اختيار على أساس المساواة بين كل المواطنين أي أنها لا تفض فوارق بسبب الأصل والنشأ .

- ٢- تمتلك الدولة العديد من المقومات الطبيعية والبشرية التي تؤثر على قوتها أو ضعفها .. هي ضوء هذه العبارة وضع :

- (١) تكلم عن الموارد الصناعية كأحد مكونات التركيب الاقتصادي .

- ١- القوى الكبرى هي قوى صناعية .
- ٢- لا يمكن لأي سياسة دفاعية أو هجومية أن تؤثر إذا لم تساندتها قدرة على تصنيع الآلات الحربية

- ٣- والصناعات الاستراتيجية تعطى للدولة أهمية مثل :

- ١- صهر المعادن وتطبيقاتها (كالحديد والصلب والالومنيوم)
- ٢- الصناعات الهندسية (السيارات والطائرات والإلكترونيات .
- ٣- الصناعات الكيماوية (صناعة التجهيزات والصواريخ) .

- (٢) لماذا تشابهت الاستراتيجيات التي استخدمتها الصين والاتحاد السوفييتي في الحرب ؟

- ١- حيث استخدمت كل من الصين والاتحاد السوفييتي نظرية الدفاع بالعمق لأنها من الدول كبيرة المساحة

- ٢- الصين هي مواجهة اليابان

- ٣- الاتحاد السوفييتي في مواجهة ألمانيا .

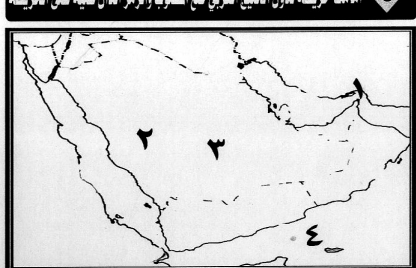
- (٢) قارن بين شكل الدولة في إيطاليا - الولايات المتحدة .

- ١- إيطاليا : شريطي مستطيل من الشمال للجنوب .

- ٢- الولايات المتحدة : بركة مجزأة .

- (١) حد طبيعي .. (جبال الأنديز)
- (٢) دولة فيدرالية متنوعة التضاريس .. (البرازيل)
- (٣) دولة شريطية .. (شيلي)
- (٤) مسطح مائي شرقاً .. (البحر المتوسط)
- (٥) دولة تشتهر بالمرعى الطبيعية .. (الأرجنتين)

٥ املك خريطة لدول الخليج العربي في الخطوط والزمن الدال عليه على الخريطة

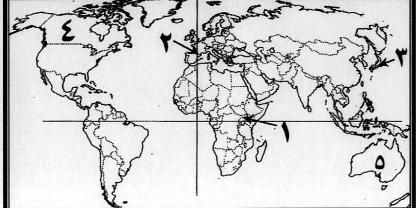


- (١) مضيق في الشرق ..
- (٢) منطقة قلب ذات أهمية دينية ..
- (٣) مقر الأمانة العامة لدول مجلس التعاون الخليجي
- (٤) مسطح مائي غربي ..
- (٥) دولة تشتهر بالمرعى الطبيعية ..

الأجابة

- (١) هرمز
- (٢) مكة المكرمة
- (٣) الرياض
- (٤) المحيط الهندي (بحر العرب)

٦ املك خريطة للعالم في الخطوط والزمن الدال عليه على الخريطة

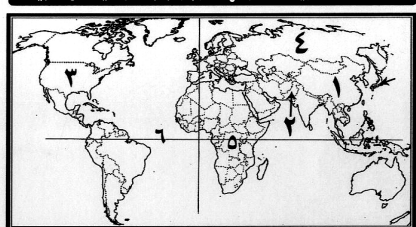


- (١) دولة داخلية حبيسة ..
- (٢) حدود سياسية طبيعية ..
- (٣) دولة جزرية ..
- (٤) دولة تحيط بها دولة واحدة ..
- (٥) دولة تشتهر بالمرعى الطبيعية ..

الأجابة

- (١) أوغندا
- (٢) جبال اليراس
- (٣) اليابان
- (٤) كندا
- (٥) أستراليا

٧ املك خريطة للعالم في الخطوط والزمن الدال عليه على الخريطة

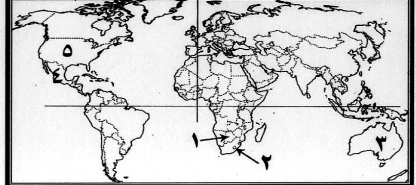


- (١) دولة وحدوية ضعفة المساحة ..
- (٢) دولة ..
- (٣) دولة برية مجزأة ..
- (٤) دولة متعددة القوميات ..
- (٥) دولة عندمجة ذو بروز ..
- (٦) دائرة عرض ..

الأجابة

- (١) الصين
- (٢) باكستان
- (٣) الولايات المتحدة
- (٤) روسيا
- (٥) الكونغو الديمقراطية
- (٦) خط الاستواء

٨ املك خريطة للعالم في الخطوط والزمن الدال عليه على الخريطة



- (١) دولة حبيسة ..
- (٢) دولة محتواة جيوب ..
- (٣) دولة فيدرالية ..
- (٤) دولة تحولت إليها منطقة بانكو ..
- (٥) حلف عسكري ..

الأجابة


- (١) الصين
- (٢) بنسوانا
- (٣) أستراليا
- (٤) المكسيك
- (٥) النانو

٩ املك خريطة لأوروبا الغربية في الخطوط والزمن الدال عليه على الخريطة



- (١) عناصر القوة في فرنسا : فهي دولة بحرية ذات شكل مندمج منظم لديها اكتفاء ذاتي نسبي في الإنتاج الغذائي لها حق الفيتو في مجلس الأمن والأمم المتحدة .
- (٢) عناصر القوة في اليابان : دولة بحرية مجزأة تشرف على البحر من جميع الجهات . تضاريسها ذات طابع جبلي ، متقدمة صناعيا لوجود العقول والمهارات والتكنولوجيا المناسبة .

١٠ املك خريطة لأوروبا الغربية في الخطوط والزمن الدال عليه على الخريطة



- (١) روسيا الاتحادية : قومية .
- (٢) جنوب أفريقيا : عرقية .
- (٣) الصين : دينية .
- (٤) الأكراد شمال العراق : لغوية .

١١ املك خريطة لأوروبا الغربية في الخطوط والزمن الدال عليه على الخريطة

- (١) الصين : وحدوية .
- (٢) الهند : فيدرالية
- (٣) البرازيل : فيدرالية
- (٤) الاتحاد الأوروبي : كونفيدرالية .

١٢ املك خريطة لآسيا في الخطوط والزمن الدال عليه على الخريطة

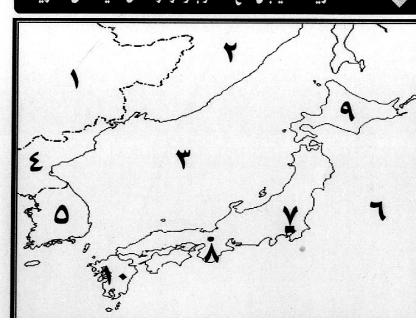


- (١) دولة وحدوية مندمجة الشكل
- (٢) دولة بها إقليم الياسك
- (٣) دولة من دول الإتحاد الأوربي
- (٤) دولة نظام الحكم بها برلمانى
- (٥) دولة متعددة اللغات
- (٦) دولة مستطيلة
- (٧) جزيرة
- (٨) مضيق
- (٩) أكبر دولة سكان في الإتحاد الأوربي
- (١٠) البحر
- (١١) المحيط
- (١٢) جزيرة
- (١٣) دولة بها مقر حلف وارسو

الأجابة

- (١) فرنسا
- (٢) أسبانيا
- (٣) بلجيكا
- (٤) المملكة المتحدة
- (٥) سويسرا
- (٦) إيطاليا
- (٧) صقلية
- (٨) مضيق جبل طارق
- (٩) ألمانيا
- (١٠) المتوسط
- (١١) الأطلنطى
- (١٢) سردينيا
- (١٣) بولندا

١٣ املك خريطة لليابان في الخطوط والزمن الدال عليه على الخريطة



- (١) دولة كبيرة المساحة
- (٢) دولة مؤسسة لحلف وارسو
- (٣) بحر
- (٤) دولة
- (٥) دولة
- (٦) عاصمة مستحدثة
- (٧) عاصمة قديمة
- (٨) جزيرة
- (٩) جزيرة
- (١٠) جزيرة

الأجابة

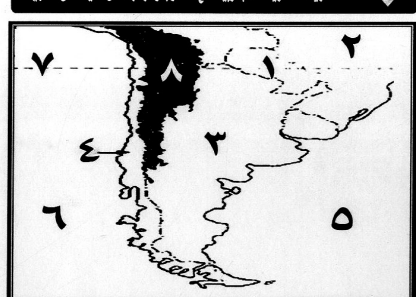
- (١) الصين
- (٢) روسيا الاتحادية
- (٣) بحر اليابان
- (٤) كوريا الشمالية
- (٥) كوريا الجنوبية
- (٦) المحيط الهادى
- (٧) طوكيو
- (٨) كيوتو
- (٩) هوكايدو
- (١٠) كيوشو

١٤ املك عدة من الخرائط صف هذه الدول من حيث الشكل



- (١) فرنسا : الشكل دولة مندمج منتظم
- (٢) تشيلي : الشكل دولة المستطيل (شريطي)
- (٣) اليابان : الشكل دولة بحرية مجزأة
- (٤) ليسوتو : الشكل دولة محتواة (جيبية)
- (٥) أفغانستان : الشكل دولة مندمجة ذات بروز

١٥ املك خريطة لأوروبا الغربية في الخطوط والزمن الدال عليه على الخريطة




- (١) دولة حبيسة
- (٢) دولة فيدرالية
- (٣) دولة بحرية
- (٤) دولة شريطية
- (٥) المحيط
- (٦) دائرة عرض

الأجابة

- (١) باراجواى
- (٢) البرازيل
- (٣) الأرجنتين
- (٤) تشيلي
- (٥) الأطلنطى
- (٦) الهادى
- (٧) خط الاستواء

١٦ املك خريطة لأوروبا الغربية في الخطوط والزمن الدال عليه على الخريطة



- (١) دولة حبيسة
- (٢) دولة بحرية
- (٣) دولة شريطية
- (٤) دولة شريطية
- (٥) المحيط
- (٦) دائرة عرض

الأجابة

- (١) باراجواى
- (٢) البرازيل
- (٣) الأرجنتين
- (٤) تشيلي
- (٥) الأطلنطى
- (٦) الهادى
- (٧) خط الاستواء

الجغرافيا.. لثالثة ثانوى بقية ص ١٠

١٧ المالبية المشتركة بين هاتين الدولتين

١٨ تاسجا

١٩ تاسجا

- (١) ترج نشأة الحدود في قارة أوربا إلى ..

- زيادة عدد السكان ○ تقسيم الإستعمار لستعمراته
- عدم رضا الدولة عن المناطق الهامشية ○ العروب

- (٢) من الأنهار التي تخضع لسلطة سياسية واحدة ..

- نهر النيل ○ نهر الريبجواند
- نهر الدانوب ○ نهر السين

- (٣) من البحيرات التي تقع داخل سيادة دولة واحدة ..

- بحيرة فيكتوريا ○ بحيرة ميتشجن
- بحيرة إيري ○ بحيرة هورن

- (٤) التقدم الصناعى فى اليابان ارتبط بـ ..

- المواد الخام ○ الموقع الجغرافى
- تضاريس الدولة ○ المهارات والعقول

- (٥) من الدول التي يغلب عليها الطابع الجبلى ..

- مصر .
- هولندا .
- اليابان .

- (٦) - بسقوط الإتحاد السوفييتي سقطت كتلة اقتصادية ..

- الكوميسا .
- النافقا .
- الكوميسون .
- الأبيك .

- (٧) المقر الدائم لمجلس التعاون لدول الخليج العربي ..

- القاهرة .
- الرياض .
- أبوظبى .
- الدوحة .

- (٨) من الدول الحبيسة بأسيا ..

- الهند .
- أفغانستان .
- السويدية .

- (٩) من أمثلة الدول غير كاملة العضوية في الأمم المتحدة .

- كوريا واليابان .
- بنما وقاياون .
- فلسطين والفاتيكان .
- الهند ولبنان .

- (١٠) من الدول المستقرة غذائيا ..

- مصر .
- موريتانيا .
- كندا .
- سوييا .

- (١١) يفصل مضيق .. بين إيطاليا وتونس

- مضيق صقلية .
- مضيق جبل طارق .

- (١٢) تم الإتفاق على ميثاق هيئة الأمم المتحدة في مؤتمر ...

- مؤتمر باريس .
- سان ريمو .
- سان فرانسيسكو .
- واشنطن .

- (١٣) من دول العالم التي يحاورها دولة واحدة فقط ..

- إيطاليا .
- ليبيا .
- كندا .
- المكسيك .

- (١٤) من الدول التي لها شكلان في نفس الوقت ..

- إيطاليا .
- تونس .

- (١٥) من الجبال التي تستغل كمناظر للإصطياف ..

- جبال الألب
- جبال الشام
- جبال اطلس
- جبال روكى

٢٠ املك خريطة للعالم في الخطوط والزمن الدال عليه على الخريطة

- (١) التحديد
- (٢) التعيين
- (٣) إدارة العد

٢١ املك خريطة للعالم في الخطوط والزمن الدال عليه على الخريطة

- (١) التحديد
- (٢) التعيين
- (٣) إدارة العد

٢٢ املك خريطة للعالم في الخطوط والزمن الدال عليه على الخريطة

- (١) التحديد
- (٢) التعيين
- (٣) إدارة العد

٢٣ املك خريطة للعالم في الخطوط والزمن الدال عليه على الخريطة

- (١) التحديد
- (٢) التعيين
- (٣) إدارة العد

٢٤ املك خريطة للعالم في الخطوط والزمن الدال عليه على الخريطة

- (١) التحديد
- (٢) التعيين
- (٣) إدارة العد

- (١) الإغراق الضرورى ..

- لا تعد المياه الداخلية جزء من المحافظة على مصالحتها الجوية
- تعد جزء من مياه أعالي البحار
- سيادة الدولة عليها مشروطة
- بام وسلامة الدولة المجاورة لها .

٢٥ املك خريطة للعالم في الخطوط والزمن الدال عليه على الخريطة

- (١) كانت مصر دولة حبيسة

- (١) كان ذلك يؤدى إلى أنه يجب على مصر أن تتبع السياسة الداخلية والخارجية للدولة المطوقة لها مما يضعف من قوتها السياسية والاقتصادية والعسكرية

٢٦ املك خريطة للعالم في الخطوط والزمن الدال عليه على الخريطة

- (١) كانت مدينتى سنه وميلبة مسجلة لدى الأمم المتحدة كمعلمين

٢٧ املك خريطة للعالم في الخطوط والزمن الدال عليه على الخريطة

- (١) كان ذلك يؤدى إلى إمكانية إستعادة المغرب للمدينتين

٢٨ املك خريطة للعالم في الخطوط والزمن الدال عليه على الخريطة

- (١) ما المقصود بكل من ..

- (١) هي الدولة التي توجد فيها حكومة واحدة ومجلس نيابى واحد والتي تسيطر فيها الحكومة المركزية على جميع السلطات العلية في الولايات والأقاليم والمخاطبات والمجالس البلدية وتستخدم المستويات الإدارية قراراتها من الحكومة المركزية .

٢٩ املك خريطة للعالم في الخطوط والزمن الدال عليه على الخريطة

- (١) هو امتداد للياس تحت مياه البحر . ويمتد من خط الساحل حتى عمق ١٠٠٠ قامة (القامة تساوي ١٨٢ سم) . وللدولة حق استكشاف واستغلال الموارد الاقتصادية المائية والعلمية الموجودة به .

- (٢) ظهرت قيمته بعد الاكتشافات البترولية والغاز الطبيعي الهائلة أمام سواحل بعض الدول مثل : بحر الشمال والخليج العربي وخليج المكسيك .

٣٠ املك خريطة للعالم في الخطوط والزمن الدال عليه على الخريطة

- (١) القوة الديموغرافية

- (١) أحد عناصر قوة الدولة وتعنى القوة السكانية .

٣١ املك خريطة للعالم في الخطوط والزمن الدال عليه على الخريطة

- (١) هي المدينة التي تستقر بها حكومة الدولة ورئاسها وسلطانها الثلاث التشريعية والتنفيذية والقضائية وسفارات الدول الأجنبية والمؤسسات الكبرى .

٣٢ املك خريطة للعالم في الخطوط والزمن الدال عليه على الخريطة

- (١) الحدود السياسية

- (١) خطوط ترسم على الخريطة تعدد الرقة الأرضية التي تمارس عليها الدولة سيادتها . تنتهي عند هذه الحدود سيادة الدولة وتبدأ سيادة دولة أخرى يقع في هذه الحدود الدول المجاورة والجنوع الدولي .

٣٣ املك خريطة للعالم في الخطوط والزمن الدال عليه على الخريطة

- (١) الجروب

- (١) هي صراع مسلح بين دولتين أو أكثر تشب لتحقيق مصالح وطنية من وجهة نظر الدولتين وهي حالة قانونية معترف بإمكان حدوثها لأسباب سياسية واقتصادية ودينية وأيدولوجية .

٣٤ املك خريطة للعالم في الخطوط والزمن الدال عليه على الخريطة

- (١) الشكل المستطيل

- (١) يطلق هذا الشكل على الدول التي يبلغ طولها ستة أضعاف عرضها .

٣٥ املك خريطة للعالم في الخطوط والزمن الدال عليه على الخريطة

- (١) خصائص السكان

- (١) هي مجموعة الخصائص السكانية التي تميز مجموعة بشرية عن أخرى (السن - النوع - اللغة - الديانة - الحالة التعليمية) والدين واللغة من أهم هذه الخصائص

٣٦ املك خريطة للعالم في الخطوط والزمن الدال عليه على الخريطة

- (١) حقوق الأقليات

- (١) تنص على أنه لا يجوز في الدول التي توجد فيها أقليات عرقية أو دينية أو لغوية أن يحرم الأشخاص المنتمين إلى الأقليات المذكورة من حق التمتع بثقافتهم الخاصة وإقامة شعائرهم أو استخدام لغتهم

٣٧ املك خريطة للعالم في الخطوط والزمن الدال عليه على الخريطة

- (١) المياه الدولية (أعالي البحار)

- (١) هي المناطق البحرية المفتوحة للجميع بدون قيود ، والتي لا تدعى دولة ملكيتها (أي شاع للب